

$$3 = \boxed{1} + 2$$

$$3 - 2 = \boxed{1}$$

$$6 = \boxed{4} + 2$$

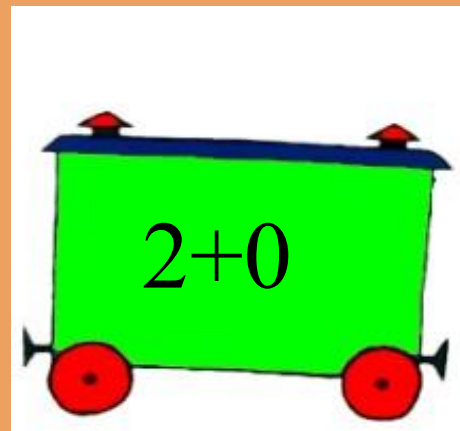
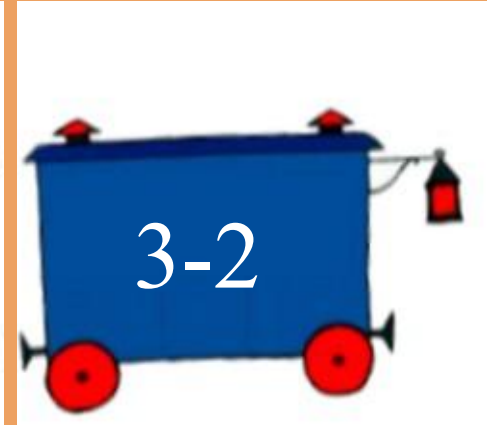
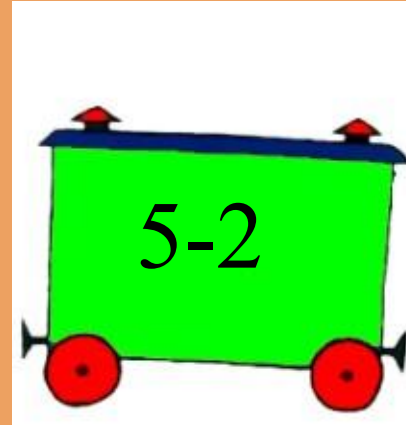

$$6 - 2 = \boxed{4}$$

$$7 = \boxed{5} + 2$$

$$7 - 2 = \boxed{5}$$

ВСТАВЬ ПРОПУЩЕННЫЕ  
ЦИФРЫ В РАВЕНСТВА

# СОСТАВЬ ПОЕЗД



2

6

1

4

8

3

9

5

7

В ЧЕМ СХОДСТВО?

$8 + 2$        $7 + 2$

В ЧЕМ РАЗЛИЧИЕ?

# Задача



$$2+1=3 \text{ (ов.)}$$

Ответ: 3 овоща.



Сколько всего ... ?

$$4 + 2 = 6 \text{ (ап.)}$$

*Ответ:* 6 апельсинов.

# Составить и решить задачи по рисунку



РАБОТА В ПАРЕ