

Урок МАТЕМАТИКИ

В 3

классе

Тема урока:

**Сумма нескольких
слагаемых**

Составила : Дзюба Ритта
Васильевна

МАОУ СОШ № 8 г. Красноуральска

2018 г.


ИГРА «РАСПУТАЙ КЛУБОК»

$$56 - 12 = \boxed{24} + 20$$


$$\boxed{24} - 5 = \textcircled{26} - 7$$




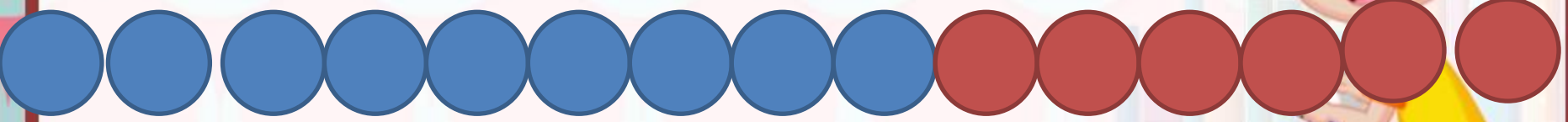
$$\textcircled{26} - \boxed{24} = \triangle 23 - 21$$



$$(9 + 4) + 6 = 19$$



$$(6 + 4) + 9 = 19$$



$$(9 + 6) + 4 = 19$$



СЛОЖЕНИЕ И ВЫЧИТАНИЕ

СУММА НЕСКОЛЬКИХ СЛАГАЕМЫХ

С помощью рисунков и записей под ними объясни, как можно вычислить сумму нескольких слагаемых.

$$6 + 9 + 4 = 19$$



1-й способ

$$6 + 9 = 15$$

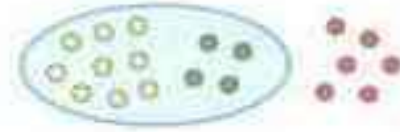
$$15 + 4 = 19$$



2-й способ

$$6 + 4 = 10$$

$$10 + 9 = 19$$



3-й способ

$$9 + 4 = 13$$

$$13 + 6 = 19$$

При сложении нескольких слагаемых действия можно выполнять в любом порядке.

1. Найди значение каждого выражения тремя способами.
Подчеркни самый удобный из них.

$$7 + 9 + 3 = 19$$

$$\underline{12 + 8 + 7 = 27}$$

$$16 + 5 + 25 = 46$$

$$\underline{7 + 3 + 9 = 19}$$

$$12 + 7 + 8 = 27$$

$$16 + 25 + 5 = 46$$

$$9 + 3 + 7 = 19$$

$$7 + 8 + 12 = 27$$

$$\underline{25 + 5 + 16 = 46}$$





2. Вычисли удобным способом.

$$28 + 14 + 2$$

$$35 + 16 + 4$$

$$17 + 52 + 3$$

$$28 + 2 + 14 = 44$$

$$17 + 3 + 52 = 72$$

$$16 + 4 + 35 = 55$$



3. Найди периметр треугольника, если длина первой его стороны равна 21 см, длина второй — 16 см, а длина третьей — 34 см.

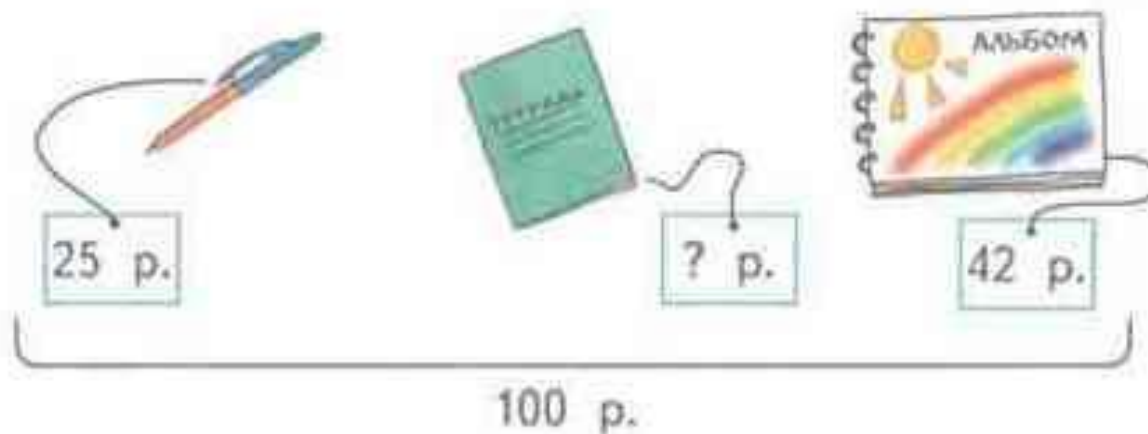
Периметр- сумма длин всех сторон фигуры.

$$P = 16 \text{ см} + 34 \text{ см} + 21 \text{ см} = 71 \text{ см}$$

=

Ответ: 71 см периметр треугольника.

4. Составь задачу по схеме и реши её.



Составь задачи, обратные данной, и реши их.

1) $42 + 25 = 67$ (руб) – заплатили за ручку и альбом.

2) $100 - 67 = 33$ (руб)

Ответ: 33 рубля стоит тетрадь.

5. Сравни.

5 дм и 48 см

83 см и 3 дм 8 см

1 ч 28 мин и 78 мин

1 м и 20 см

6 м 2 дм и 72 дм

1 ч 40 мин и 100 мин

8 дм и 94 см

1 дм 8 см и 81 дм

1 ч 35 мин и 85 мин

7 дм и 63 см

3 м 9 дм и 40 дм

2 ч 5 мин и 1 ч 55 мин



Моя оценка за урок.



- **ПЛОХО.**



- **хорошо.**



- **ОТЛИЧНО.**



**Домашнее задание: Стр. 15 №
6, 7**

**СПАСИБО ЗА
ВНИМАНИЕ!**

