

**УРОК - ПУТЕШЕСТВИЕ по  
СЕВЕРОБАЙКАЛЬСКОМУ РАЙОНУ.  
«ДЕЙСТВИЯ С ДЕСЯТИЧНЫМИ  
ДРОБЯМИ в 5 КЛАССЕ»**

Кокорина Галина Петровна, учитель  
математики.

Янчуканский филиал  
МБОУ «СОШ № 36 пос. Новый Уоян»


# ЗНАНИЯ ИМЕЙ ОТЛИЧНЫЕ ПО ТЕМЕ «ДРОБИ ДЕСЯТИЧНЫЕ»




# КАРТА СЕВЕРОБАЙКАЛЬСКОГО РАЙОНА



# ЧТО БЕРЕТ ТУРИСТ В ПОХОД?



**А**




**Ю**



**Р**



**З**



**Б**



**К**



**М**



**Е**

# ЗАКОНЧИТЕ ПРЕДЛОЖЕНИЯ:

- Чтобы умножить десятичную дробь на 10, 100, 1000 и т.д., надо.....
- Чтобы умножить десятичную дробь на 0,1; 0,01; и т.д. надо.....
- Чтобы умножить десятичную дробь на десятичную дробь, надо.....
- Чтобы разделить десятичную дробь на десятичную дробь, надо.....

# ЕСЛИ ЧУВСТВО ДРУЖБЫ ТЕБЕ НЕЗНАКОМО, ЛУЧШЕ ВСЕГО ОСТАВАЙСЯ ДОМА!

Отправляемся в поход,  
Сколько нас открытий ждет,  
Раз, два, три,  
Наш инструктор впереди!



# ЯНЧУКАН



- Самая высокая гора в поселке **Янчукан** состоит из двух вершин: большой, высотой 4,325 км, и меньшей, высотой 3,925 км. На сколько километров большая вершина возвышается над меньшей?

# НОВЫЙ УОЯН

- С какой скоростью идет поезд от станции Янчукан до станции Новый Уоян, если расстояние 78 км он проходит за 1,25 часа.





# АНГОЯ




- Рассчитайте стоимость поездки на поезде от станции **Новый Уоян** до станции **Ангоя** для вашей группы, если стоимость одного билета 85,4 руб.

# КИЧЕРА

- От поселка **Ангоя** до поселка **Кичера** туристическая группа сплавлялась вниз по реке **Верхняя Ангара** на плотках. За какое время туристы преодолели 33,64 км, если скорость реки 4,2 км/час. Ответ округлите до целых.



# НИЖНЕАНГАРСК



- Каждая команда должна верно расставить запятые в произведении или частном десятичных дробей (3 примера на умножение и 3 примера на деление - эстафета):
- $0,348 * 5,9 = 20532$
- $9,36 : 26 = 36$
- $1,7 * 0,0096 = 1632$
- $0,234 : 8 = 2925$
- $0,25 * 0,3 = 75$
- $466,9 : 46 = 1015$

# СЕВЕРОБАЙКАЛЬСК

