

$$140:2 = \begin{matrix} 7 \\ 0 \end{matrix}$$

$$\begin{matrix} + \\ 5 \\ 0 \end{matrix}$$

$$120$$

$$:4$$

$$30$$

$$\begin{matrix} -2 \\ 9 \end{matrix}$$

$$1$$

$$\begin{matrix} \times \\ 8 \end{matrix}$$


$$560 +$$

$$\begin{matrix} 4 \\ 4 \end{matrix}$$

$$1000^0$$


$$\begin{matrix} :1 \\ 0 \end{matrix}$$

$$100$$






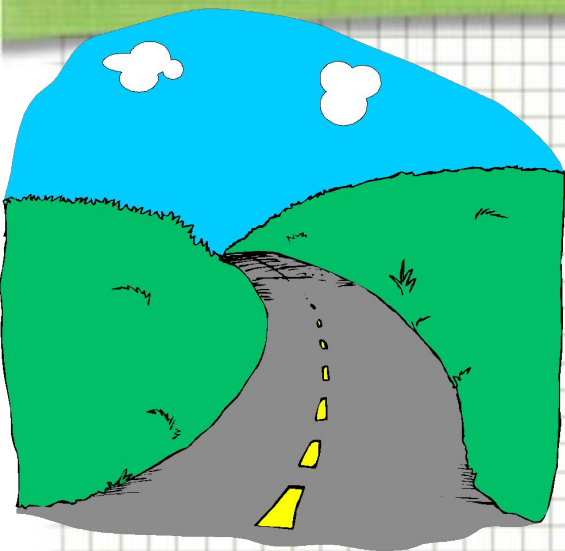
$$+$$

$$101$$



# Работа с учебником *отвечаем устно* Вопросы после параграфа



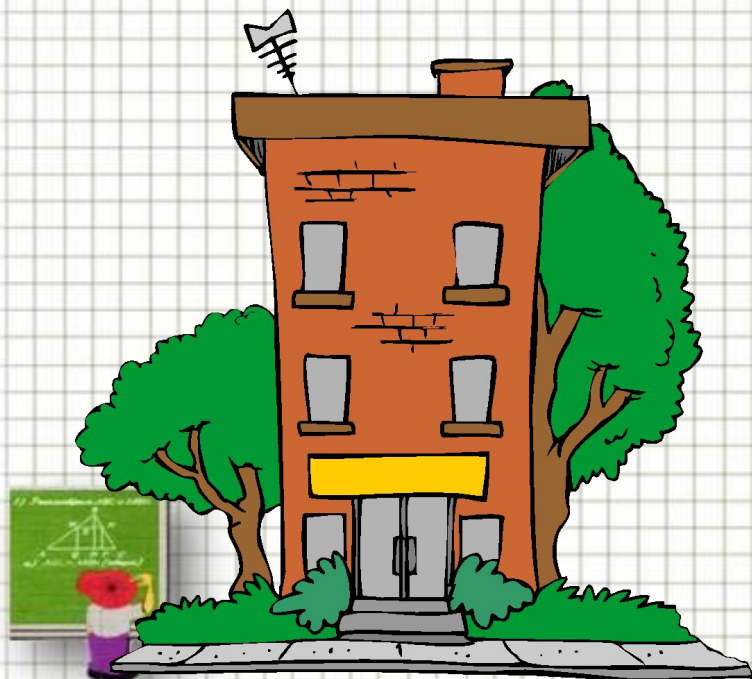


$$1 \text{ км} = 1000 \text{ м}$$


$$1 \text{ м} = 10 \text{ дм} = 100 \text{ см}$$

$$1 \text{ дм} = 10 \text{ см}$$

$$1 \text{ см} = 10 \text{ мм}$$



**Выбери и укажи правильный вариант  
ответа.**




10015  
м

1015 м

10 км 15 м

10150  
м



# Выразите в сантиметрах

8 дм 6 см; 40 мм; 3 м 5 см

# Выразите в метрах

3 км 300м; 7 км 90 м

$$8 \text{ дм } 6 \text{ см} = 86 \text{ см}$$

$$40 \text{ мм} = 4 \text{ см}$$


$$3 \text{ м } 5 \text{ см} = 305 \text{ см}$$



$$3 \text{ км } 300\text{м} = 3300 \text{ м}$$

$$7 \text{ км } 90 \text{ м} = 7090 \text{ м}$$



# Физминутка





*Классная работа* *13.09.*  
*Отрезок. Длина отрезка*







# Работа с учебником

упражнения

№46, №47, №53,





# Итог урока Выбор за вами

**Важная тема**

**Здорово**

**Свой вариант**

**Мне было  
интересно**

**Есть  
вопросы**

**Спасибо**


**Урок  
понравился**

**Я молодец!**

**Узнал(а)  
МНОГО НОВОГО**


**Ничего не  
понятно**

**Легкая тема**



# **ДОМАШНЕЕ ЗАДАНИЕ:**

**С. 26-27 «От локтей и ладоней к метрической системе» устно прочитать, №54(письменно).**





**Успехов  
в учёбе !**

