

Отрезок. Длина отрезка. Треугольник

Математика 5 класс

Вычислите, укажите правильный ответ

$$3 \cdot 50$$

300

100

320

290

180

280

150

330

260

400

310

270

Вычислите, укажите правильный ответ

$$200 - 20$$

300

100

320

290

180

280



330

260

400

310

270

Вычислите, укажите правильный ответ

$$1 \text{ м} = \dots \text{ см}$$

300

100

320

290

280


330

260

400

310

270



Вычислите, укажите правильный ответ

$$540 : 2$$

300

320

290

280

330

260

400

310

270

Вычислите, укажите правильный ответ

$$26 \text{ дм} = \dots \text{ см}$$

300

320

290

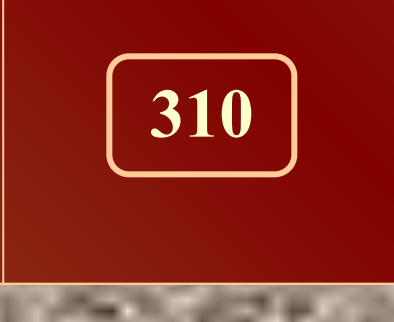
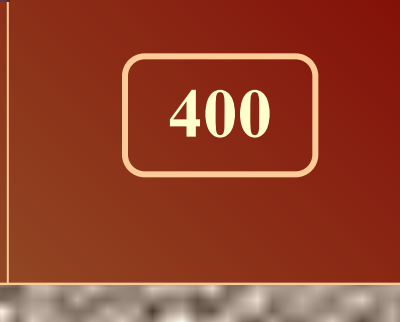

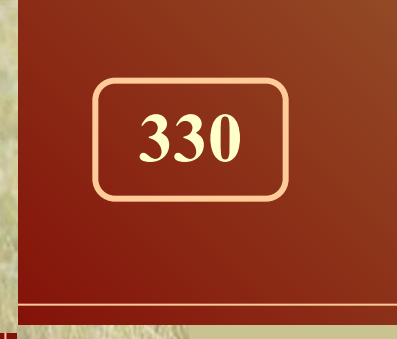
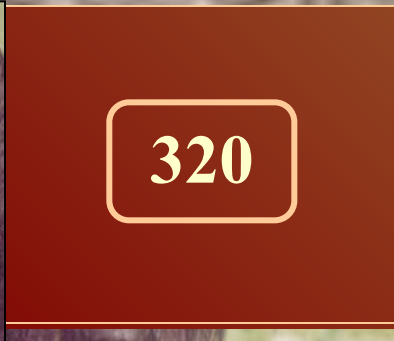
280

330

260

400

310



Вычислите, укажите правильный ответ

$$40 \cdot 7$$

300

320


290

280

330

400

310



Вычислите, укажите правильный ответ

$$2 \text{ м } 9 \text{ дм} = \dots \text{ см}$$

300


320

290

330

400

310



Вычислите, укажите правильный ответ

30 см = ... мм

300

320

330

400

310



Вычислите, укажите правильный ответ

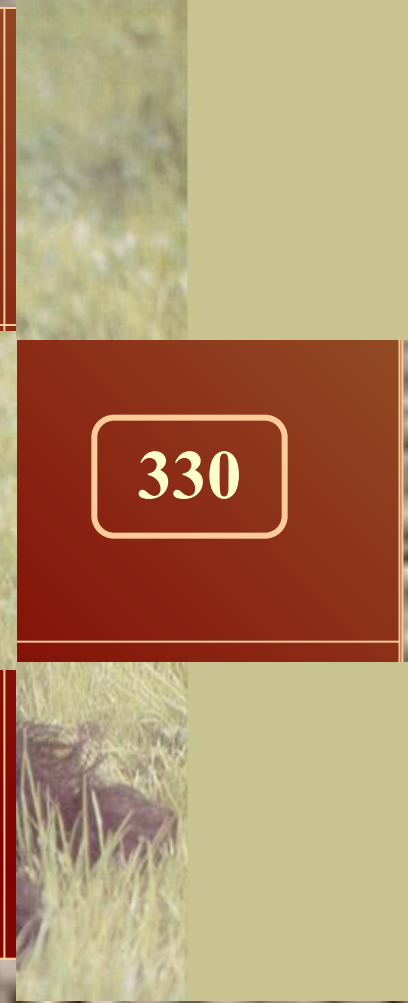
$$280 + 30$$

320

330

400

310



Вычислите, укажите правильный ответ

$$16 \cdot 20$$

320

330

400



Вычислите, укажите правильный ответ

$$3300 : 10$$

330

400



Вычислите, укажите правильный ответ

$$180 + 220$$




400




Поздравляем!!!



В
Ы
Х
О
Д



ОШИБКА



Работа над ошибками:

Переведите: 8 дм 43 см = ... см

5 км 549 м = ... м

7 см 18 мм = ... мм

249 см = ... дм ... см

Перед домом стоит забор. В заборе 18 столбов, расстояние между столбами равно 5 метра. Какое расстояние между 6 и 14 столбами?



Работа с учебником:

№ 60, 61

Домашнее задание:

№ 66, 68, 70