


# Тема: «Сложение и вычитание величин»

Учитель начальных классов  
МБОУ СОШ №1  
Кузина Галина Геннадьевна



**Математику, друзья,  
Не любить никак нельзя.  
Очень строгая наука,  
Очень точная наука,  
Интересная наука –  
Это математика!**



## Заполнить таблицу

<b>c</b>	<b>773</b>	<b>94</b>		<b>328</b>
<b>a</b>	<b>73</b>	<b>19</b>	<b>620</b>	
<b>c - d</b>			<b>0</b>	<b>320</b>

## Заполнить таблицу

<b>c</b>	<b>773</b>	<b>94</b>		<b>328</b>
<b>a</b>	<b>73</b>	<b>19</b>	<b>620</b>	
<b>c - d</b>	<b>700</b>		<b>0</b>	<b>320</b>

## Заполнить таблицу

<b>c</b>	<b>773</b>	<b>94</b>		<b>328</b>
<b>a</b>	<b>73</b>	<b>19</b>	<b>620</b>	
<b>c - d</b>	<b>700</b>	<b>75</b>	<b>0</b>	<b>320</b>



## Заполнить таблицу

<b>c</b>	<b>773</b>	<b>94</b>	<b>620</b>	<b>328</b>
<b>a</b>	<b>73</b>	<b>19</b>	<b>620</b>	
<b>c - d</b>	<b>700</b>	<b>75</b>	<b>0</b>	<b>320</b>

## Заполнить таблицу

<b>c</b>	<b>773</b>	<b>94</b>	<b>620</b>	<b>328</b>
<b>a</b>	<b>73</b>	<b>19</b>	<b>620</b>	<b>8</b>
<b>c - d</b>	<b>700</b>	<b>75</b>	<b>0</b>	<b>320</b>



<b>a</b>	<b>57</b>	<b>825</b>	<b>0</b>	<b>650</b>
<b>b</b>		<b>175</b>		<b>50</b>
<b>a + b</b>	<b>64</b>		<b>329</b>	

<b>a</b>	<b>57</b>	<b>825</b>	<b>0</b>	<b>650</b>
<b>b</b>	<b>7</b>	<b>175</b>		<b>50</b>
<b>a + b</b>	<b>64</b>		<b>329</b>	

<b>a</b>	<b>57</b>	<b>825</b>	<b>0</b>	<b>650</b>
<b>b</b>	<b>7</b>	<b>175</b>		<b>50</b>
<b>a + b</b>	<b>64</b>	<b>1000</b>	<b>329</b>	

<b>a</b>	<b>57</b>	<b>825</b>	<b>0</b>	<b>650</b>
<b>b</b>	<b>7</b>	<b>175</b>	<b>329</b>	<b>50</b>
<b>a + b</b>	<b>64</b>	<b>1000</b>	<b>329</b>	

<b>a</b>	<b>57</b>	<b>825</b>	<b>0</b>	<b>650</b>
<b>b</b>	<b>7</b>	<b>175</b>	<b>329</b>	<b>50</b>
<b>a + b</b>	<b>64</b>	<b>1000</b>	<b>329</b>	<b>700</b>

## Математический диктант

- 1. Сколько метров в 1 км?
- 2. 90 ц – это ... тонн?
- 3. Сколько минут в одном часе?
- 4. Чему равна площадь квадрата со стороной 40м?
- 5. Что больше 15 аров или 15 гектаров?
- 6. Сколько лет в 3 веках?
- 7. Что больше 2 часа или 80 минут?
- 8. Сколько было дней в феврале?

1000	9	60	1600	15	300	2	29
Н	е	ч	ы	л	и	в	и

2	9	15	29	60	300	1000	1600
в	е	л	и	ч	и	н	ы



## Найдите лишнюю запись?

1 км 300 м = ... м

5 ч 30 мин = ... мин

8 ц \* 80 кг

3 дм 8 см \* 380 см

6200 - 2300

1ч 30 мин + 25 мин

124 м 75 см + 39 м 85 см

6 ц 85 кг – 3 ц

3 т 004 кг – 2 т 023 кг



$1 \text{ км } 300 \text{ м} = 1300 \text{ м}$

$5 \text{ ч } 30 \text{ мин} = 330 \text{ мин}$

$8 \text{ ц} > 80 \text{ кг}$


$3 \text{ дм } 8 \text{ см} < 380 \text{ см}$

$1 \text{ ч } 30 \text{ мин} + 25 \text{ мин}$

$6 \text{ ц } 85 \text{ кг} - 3 \text{ ц}$

$124 \text{ м } 75 \text{ см} + 39 \text{ м } 85 \text{ см}$

$3 \text{ т } 004 \text{ кг} - 2 \text{ т } 023 \text{ кг}$



# Сложение и вычитание величин

A dark grey arrow points to the right from the top left corner. Several thin, curved lines in shades of blue and grey sweep across the left side of the page.

□ 1ч 30 мин + 25 мин

□ 6 ц 85 кг – 3 ц

□ 124 м 75 см + 39 м 85 см

□ 3 т 004 кг – 2 т 023 кг



□ 1 ч 30 мин + 25 мин

□ 6 ц 85 кг – 3 ц


$$\square 1\text{ч } 30\text{ мин} + 25\text{ мин} = 1\text{ч } 55\text{ мин}$$

$$\square 6\text{ ц } 85\text{ кг} - 3\text{ ц}$$


$$\square 1 \text{ ч } 30 \text{ мин} + 25 \text{ мин} = 1 \text{ ч } 55 \text{ мин}$$


$$\square 6 \text{ ц } 85 \text{ кг} - 3 \text{ ц} = 3 \text{ ц } 85 \text{ кг}$$



A dark grey arrow points to the right from the top left corner. Several thin, curved lines in shades of blue and grey sweep across the left side of the page.

$\square 124 \text{ м } 75 \text{ см} + 39 \text{ м } 85 \text{ см}$

$\square 3 \text{ т } 004 \text{ кг} - 2 \text{ т } 023 \text{ кг}$

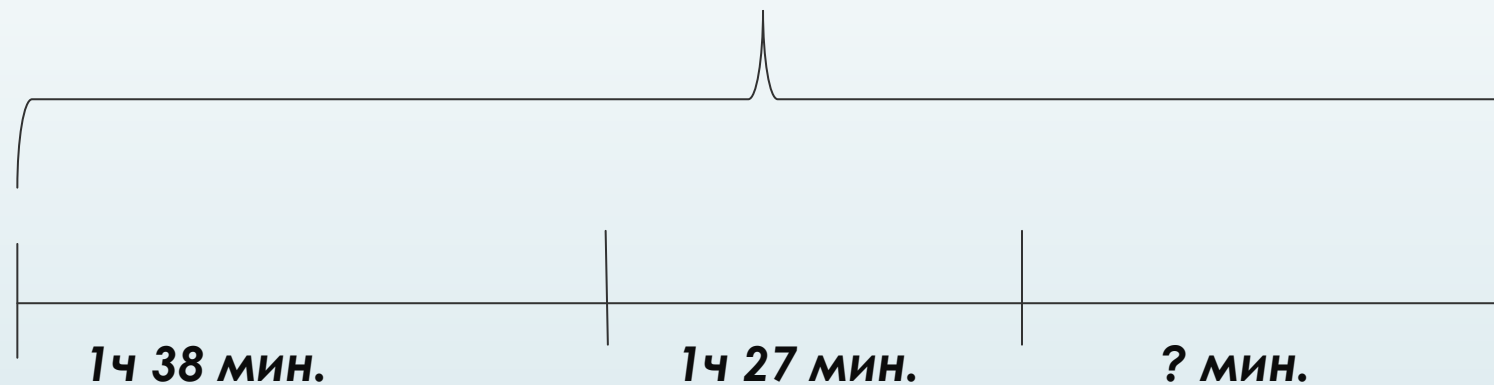
A dark grey arrow points to the right from the left edge of the slide. Below it, several thin, light blue lines curve downwards and to the right, creating a decorative background element.

## Алгоритм письменных вычислений значений величин.

- **Заменяю крупные единицы мелкими**
- **Выполню действия как с числами**
- **Заменяю мелкие единицы крупными**

## Задача. с. 67, № 335

210 мин.




$$1 \text{ ч } 38 \text{ мин.} = 98 \text{ мин.}$$

$$1 \text{ ч } 27 \text{ мин.} = 87 \text{ мин.}$$

- 1)  $98 + 87 = 185$  (мин.) – делятся два мультфильма;
- 2)  $210 - 185 = 25$  (мин.)

Ответ: 25 минут останется на диске.

Мы сегодня на уроке  
работали по теме  
«Сложение и  
вычитание величин»,  
учились сравнивали  
величины, выполняли  
действия с ними,  
решали задачи.



Правильно ли выполнено?!

$6\text{ м } 3\text{ дм} + 2\text{ м } 4\text{ дм } 5\text{ см} = 8\text{ м } 7\text{ дм } 5\text{ см}$

$11\text{ лет } 10\text{ мес} - 7\text{ м} = 11\text{ лет } 3\text{ мес}$



**МОЛОДЦЫ!**

