

Числа 6 и 7.

Письмо  
цифры 7





## Девиз урока

**«Мы пришли сюда учиться,  
Не лениться, а трудиться.  
Только тот, кто много знает,  
В жизни что-то достигает».**



# Разминка

Сколько дней в недели?

1	ПОНЕДЕЛЬНИК
2	ВТОРНИК
3	СРЕДА
4	ЧЕТВЕРГ
5	ПЯТНИЦА
6	СУББОТА
7	ВОСКРЕСЕНЬЕ





# Разминка

Назови шестой день  
недели.



# Разминка

Сколько букв в слове **ученик**?

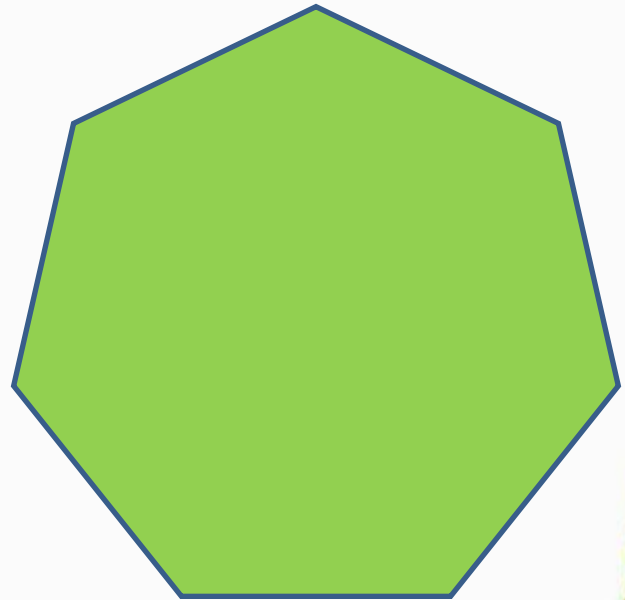



land-of-spirit.ru



# Разминка

**Назови одним словом:  
квадрат, пятиугольник,  
семиугольник.**



# Какие карточки первёрнуты?

$$6 - \boxed{1} = 5 \quad 6 - 2 = 2 \quad \boxed{>}$$

$$\boxed{4} - 1 = 3 \quad 5 + 1 = 3 \quad \boxed{>}$$

$$5 - \boxed{2} = 3 \quad 6 - 3 = 4 \quad \boxed{<}$$



# Какие карточки первёрнуты?

$6 - \quad = 4 \quad 3 + \quad = 6$

2

3

$\quad + 5 = 6 \quad 4 + \quad = 5$

1

1

$3 + \quad = 5 \quad 6 - \quad = 2$


2

4






# Физкультминутка




Ср тихо клён  
начает,  
Вправо, влево  
наклоняет.  
Раз – наклон,  
Два – наклон,  
Зашумел  
листвою клён.






*Молодцы!*





*Молодцы!*





*Молодцы!*



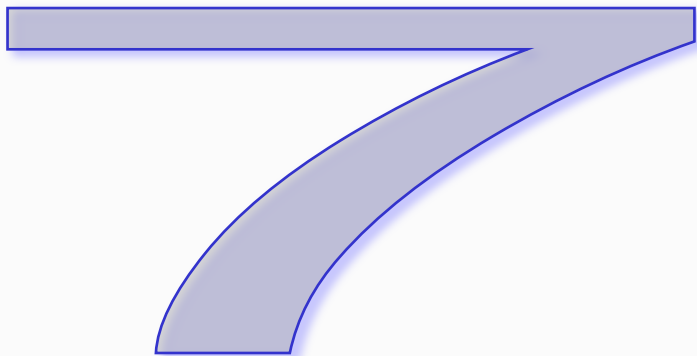




# 7

- Вот семёрка кочерга у неё одна нога.
- Семь - точно острая коса. Коси , коса, пока остра.
- Цифра семь! Цифра семь! Цифра лёгкая совсем! Я косу принесу и срисую ту косу!







5

3




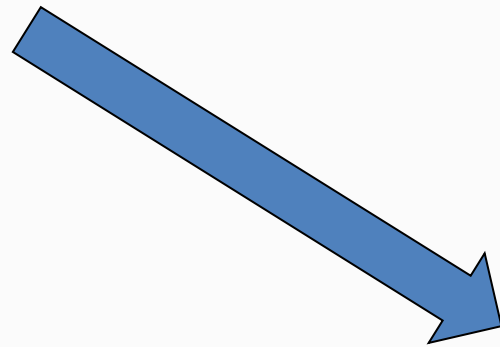
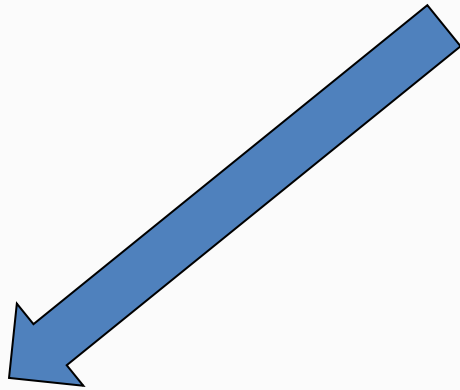
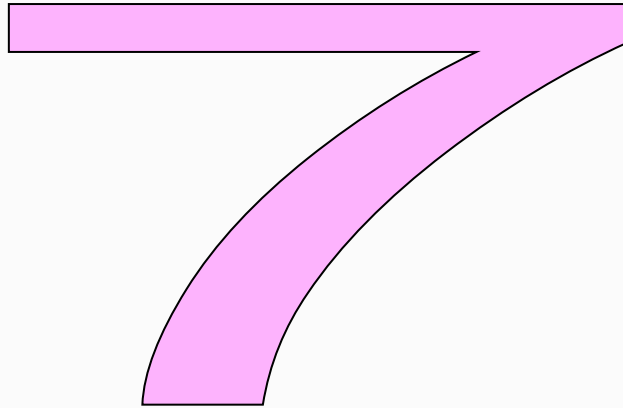
7



3

3









М.И. Моро С.И. Волкова С.В. Степанова



# Математика



Часть 1

# 1

ПРОСВЕЩЕНИЕ  
КВАРТАЛЪ



К шести прибавить 1 получится   
Из семи вычесть 1 получится



$$5 + 1 = \square \quad 6 - 1 = \square$$
$$6 + 1 = \square \quad 7 - 1 = \square$$



Сколько вагонов в каждом поезде? В каком из них больше вагонов и на сколько?

$$7 - 1 = \square \quad 5 - \square = 4 \quad \square - 1 = 2$$
$$6 - 1 = \square \quad 4 - \square = 3 \quad \square - 1 = 1$$

Карточки с какими числами перевернуты?



7

777 777  
1,2,3,4,5,6,7



1

3

5

7



К шести прибавить 1 получится .

Из семи вычесть 1 получится .



$$5 + 1 = \square$$

$$6 - 1 = \square$$

$$6 + 1 = \square$$

$$7 - 1 = \square$$







Сколько вагонов в каждом поезде? В каком из них больше вагонов и на сколько?

$$7 - 1 = \square$$

$$5 - \square = 4$$

$$\square - 1 = 2$$

$$6 - 1 = \square$$

$$4 - \square = 3$$

$$\square - 1 = 1$$



Определи, какая запись подходит к рисунку слева, а какая — к рисунку справа.



$$4 + 1$$


$$4 - 3$$

$$4 - 1$$

$$5 - 1$$

$$4 - 2$$

$$2 + 2$$

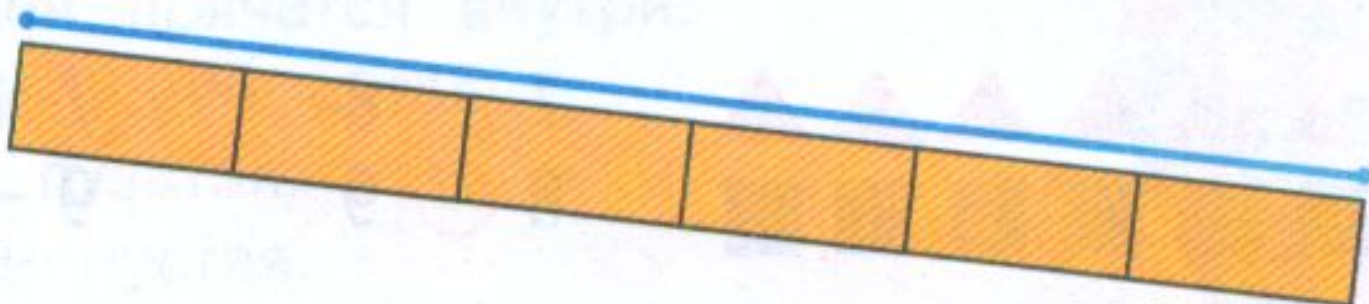


Составь рассказ по записи  $4 - 3$ .

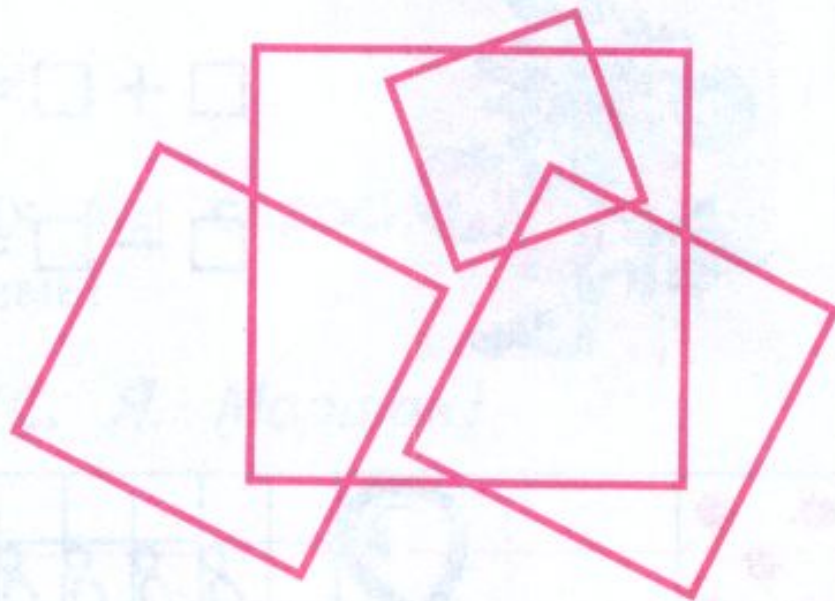
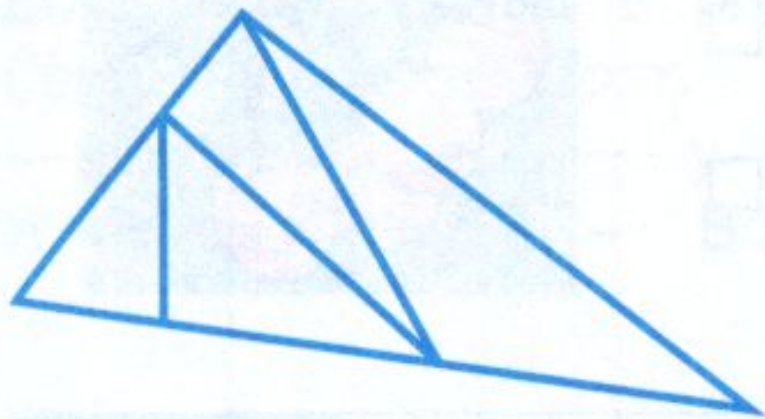


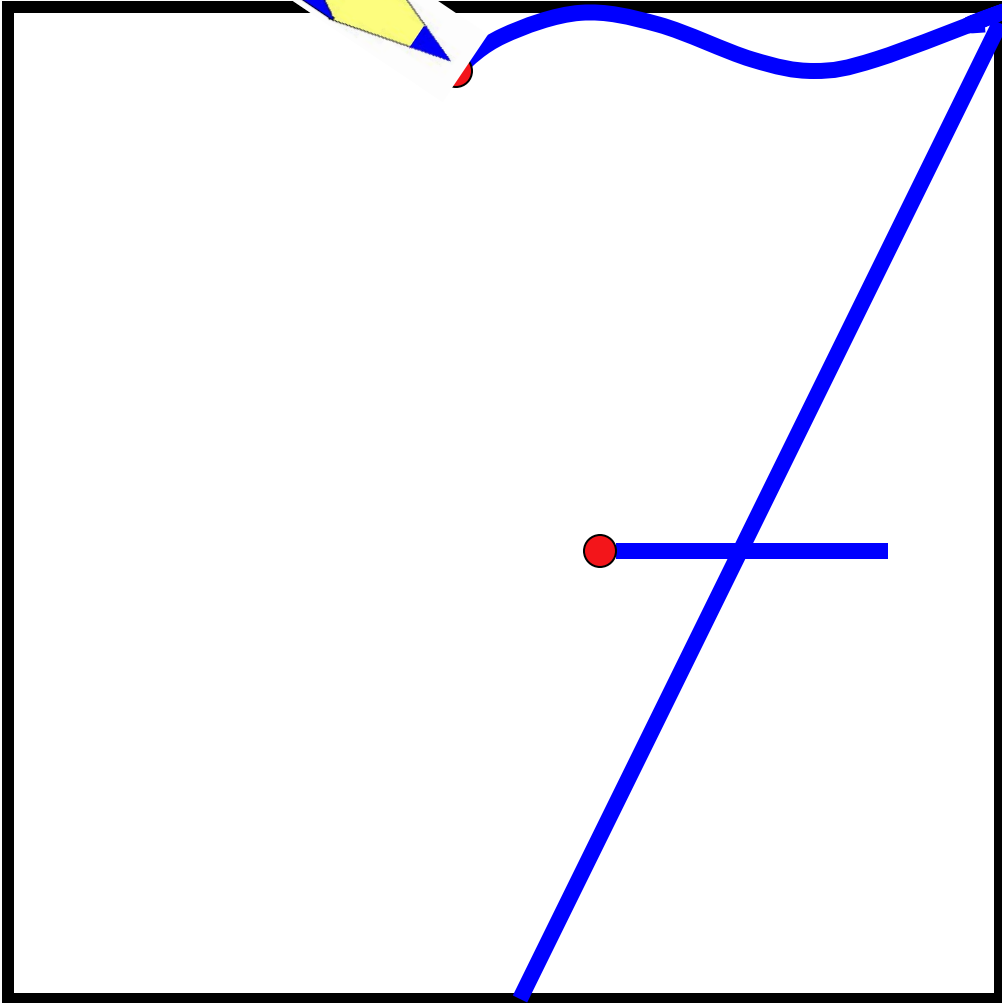
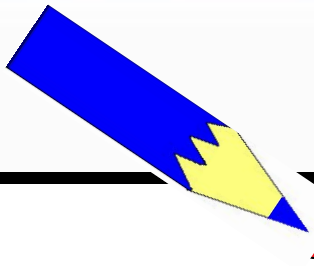


Сравни отрезки по длине.



Сколько треугольников на чертеже? Сколько квадратов?









777 777 777

1,2,4,5,6,7. 7,6,5,3,2.





# Пословицы

Семь бед – один ответ.

Семеро одного не ждут.

Семь раз отмерь – один отрежь.

У семи нянек дитя без глазу.



Семь пятниц на неделе.



Что мы узнали?  
Что повторили?



Оцени свою работу на уроке.



# Наше настроение

