

Периметр и площадь прямоугольника

Найдите периметр квадрата со стороной 5 см

$$P = a \cdot 4$$

Найдите площадь прямоугольника со сторонами
7 см и 6 см

$$S = a \cdot b$$

Найдите площадь квадрата со стороной 1 см

$$S = a \cdot a$$

Чему равен периметр прямоугольника,
если длины его сторон 8 см и 4 см

$$P = (a + b) \cdot 2$$

Найти сторону квадрата , периметр которого 12см

$$P = a \cdot 4 \qquad a = P : 4$$

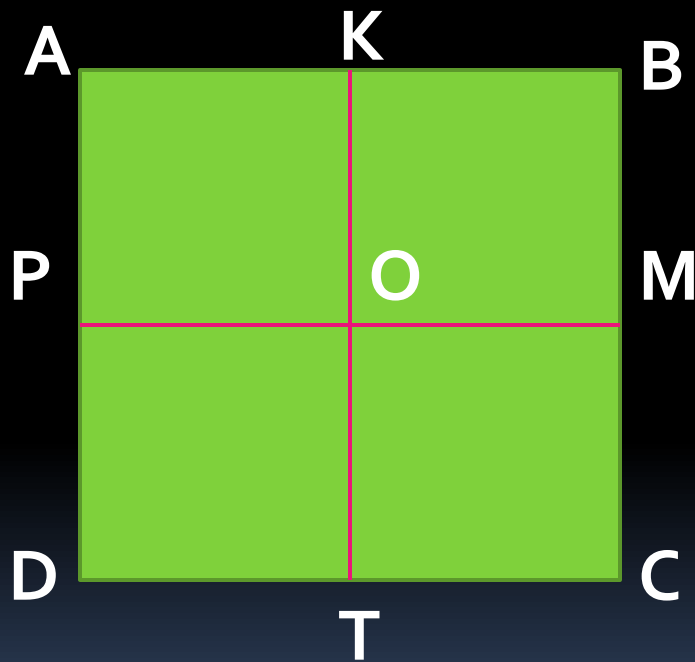
Площадь прямоугольника 18см². Какими могут быть длины его сторон?

$$S = a \cdot b \qquad 18 = a \cdot b$$

Площадь квадрата 25см². Каковы длины его сторон?

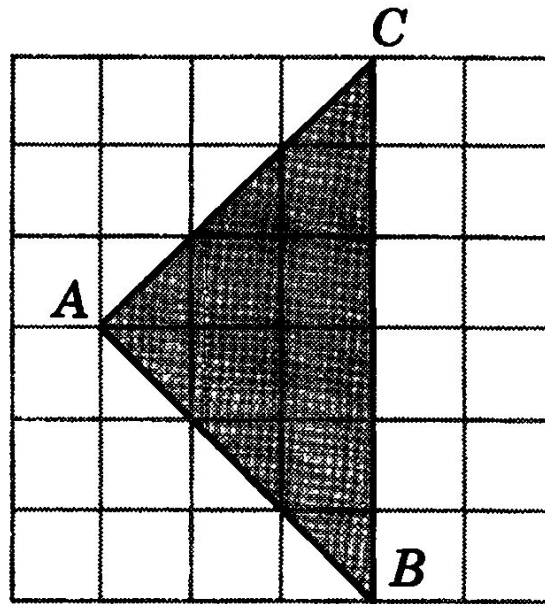
$$S = a \cdot a \qquad 25 = a \cdot a$$

Найти и назвать все прямоугольники и квадраты на данном рисунке

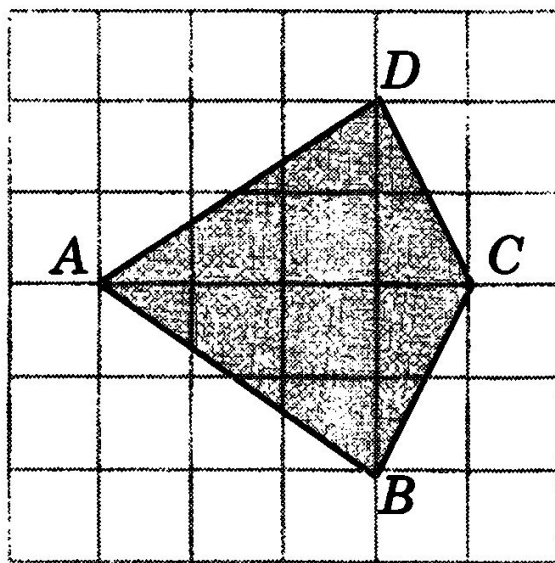


Задачи уровня ЕГЭ

1. Найдите площадь треугольника ABC , считая стороны квадратных клеток равными 1.



7. Найдите площадь четырехугольника $ABCD$, считая стороны квадратных клеток равными 1.



5. Найдите площадь трапеции $ABCD$, считая стороны квадратных клеток равными 1.

