



# Математический турнир 3 класс


Подготовила и провела  
учитель начальных классов  
Розниченко Н.В.





**Математика-  
царица наук,  
арифметика-  
царица математики.  
К. Гаусс**





# Разминка

1. Что легче-1 кг ваты или 1 кг железа?

2. Тройка лошадей пробежала 15 км.  
Сколько километров пробежала  
каждая лошадь?

3. Если цапля стоит на 1 ноге, то весит 15 кг. Сколько она  
будет весить, если встанет на 2 ноги?

4. Яйцо всмятку вариться 3 минуты. Сколько времени  
потребуется, чтобы сварить 2 яйца?

5. Что случится с вороном, когда ему исполнится 2 года?

(Пойдет третий)







**В свободное время Волк любит порыбачить. Решите его задачу.**

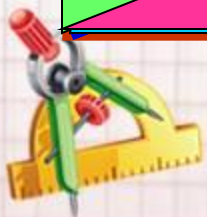
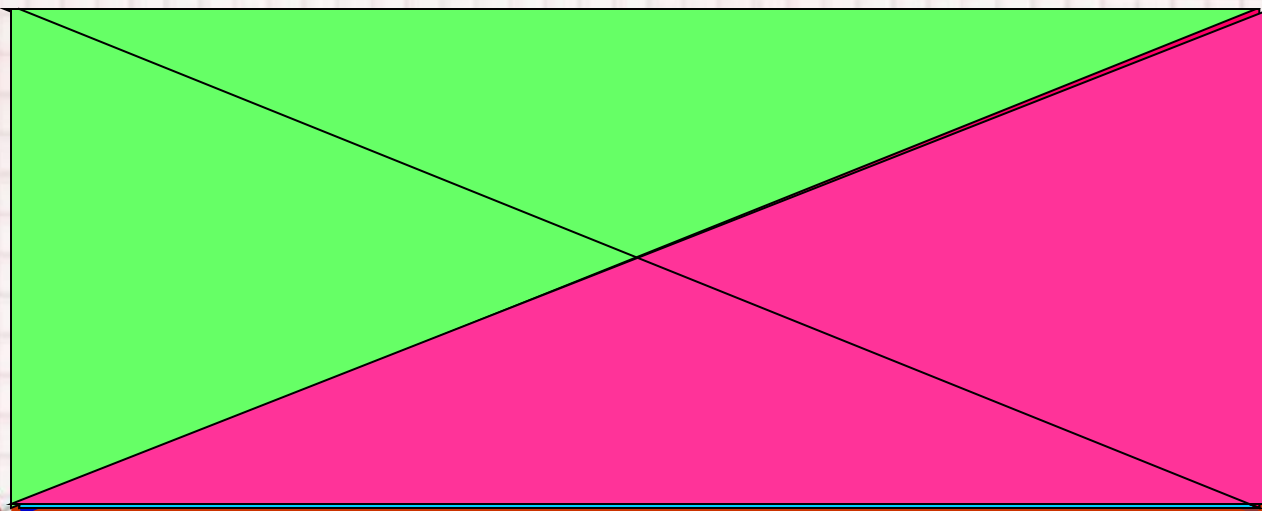
**Волк поймал 15 окуней и разложил их на 5 кучек так, чтобы в каждой кучке было разное количество рыб. Разложи их так же.**

**(1 2 3 4 5)**











Сколько треугольников  
изображено на рисунке?

8



# Какого человечка нужно поставить вместо знака вопроса?

		
		
		?



Нужно поставить человечка(какого цвета?) синего цвета



# Ребусы

ПРЕ 100 Л

ОТВЕТ

АК 3 СА

ОТВЕТ

100 ЛИЦА

ОТВЕТ

ПА 3 ОТ

ОТВЕТ

КИС .


ОТВЕТ

100 ЛБ

ОТВЕТ







**В одной семье у каждого из трех братьев есть сестра. Сколько детей в семье?**


**Есть две сковородки. На каждой помещается один блин. Надо пожарить три блина с двух сторон.**

**Каждая сторона блина жарится 1 минуту. За какое наименьшее время можно это сделать?**



**5**





**На детской площадке катались дети на двух и трехколесных велосипедах.**

**Сколько и каких велосипедов было на площадке, если всего было 21 колесо и 8 велосипедов?**

**Решение:**

- 1)  $8 * 2 = 16$  (было бы колес, если бы все велосипеды были двухколесными)
- 2)  $21 - 16 = 5$
- 2)  $8 - 5 = 3$
- Ответ: на площадке было 5 трехколесных велосипедов и 3 двухколесных.



# Загадка

ДВЕНАДЦАТЬ БРАТЬЕВ  
ДРУГ ЗА ДРУГОМ ХОДЯТ,  
ДРУГ ДРУГА НЕ ОБХОДЯТ

ОТВЕТ


Месяцы



# Загадка

НА ЛЕСЕНКЕ- СТРЕМЯНКЕ  
РАЗВЕШАНЫ БАРАНКИ.  
ЩЕЛК ДА ЩЕЛК – ПЯТЬ ДА ПЯТЬ –  
ТАК МЫ УЧИМСЯ СЧИТАТЬ.

ОТВЕТ






# Загадка

ЧЕРНЕНЬКАЯ, ХВОСТАТЕНЬКАЯ,  
НЕ ЛАЕТ, НЕ КУСАЕТ,  
А ИЗ КЛАССА В КЛАСС  
НЕ ПУСКАЕТ.

ОТВЕТ

2



# Молодцы!

