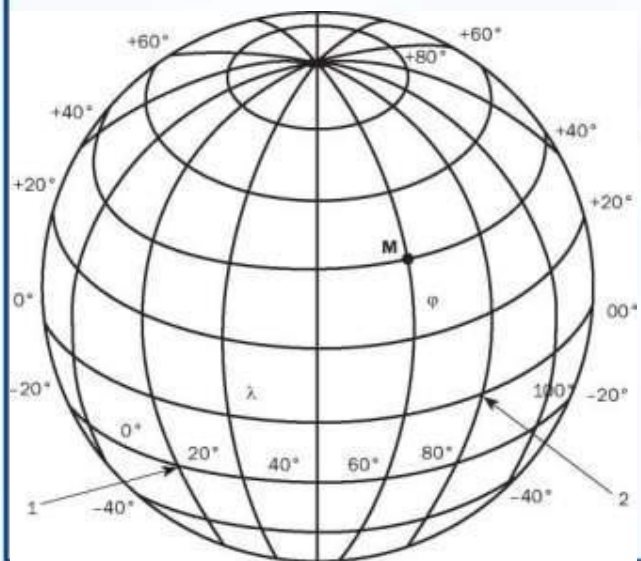


Координаты

Математика 6 класс.



Учитель математики:
Минаева Е.Г.

Оставьте мне свои координаты.

- Что означает эта фраза?



- Что указано на билете пассажира?
- Можно ли данную информацию назвать «координатами» пассажира?

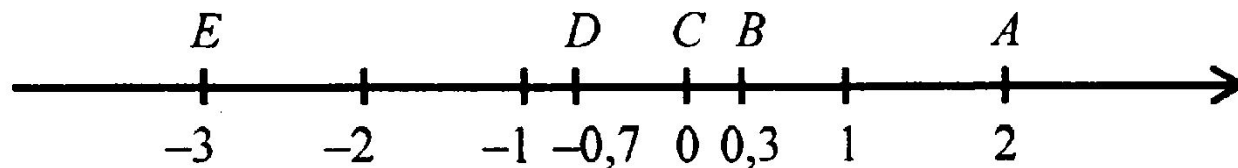
Что называют координатами?

Описание того,
где расположен
тот или иной
объект
(предмет, место)
называют его
координатами.



Белая ладья – c1; f7

Мы раньше говорили про координаты?



- Сколько координат задают точку на координатной прямой?
- А сколько координат мы называли в игре «Морской бой»?

Задание:

Запишите координаты кораблей из игры «Морской бой».

Ответ:

1-клеточные:

а10;в10;и4;к10.

2-клеточные:

б5в5;в2в3;ж2з2

3-клеточные:

а7б7в7;д7д8д9

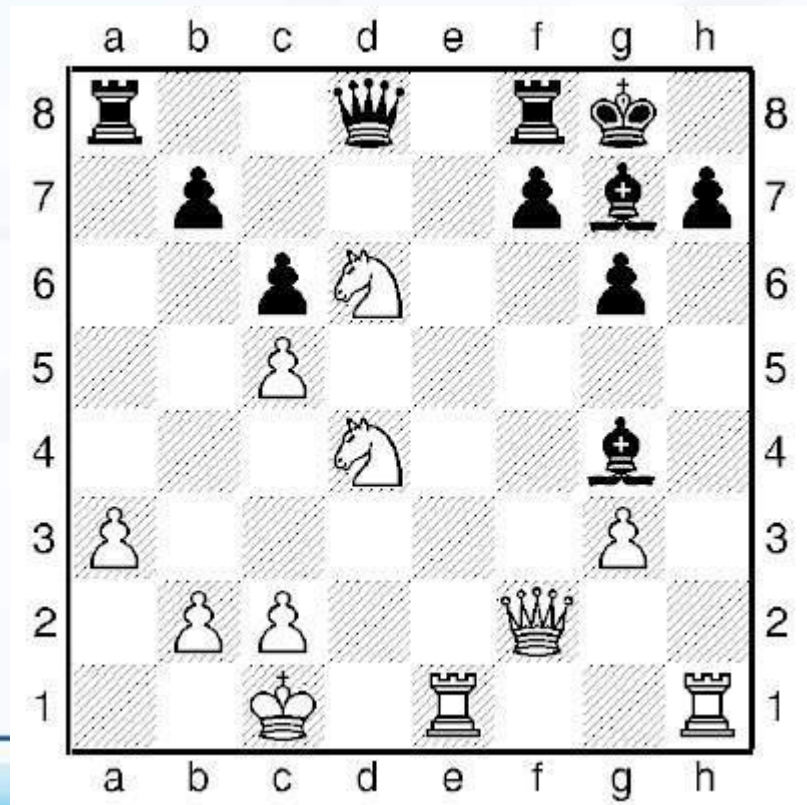
4-клеточные:

ж5ж6ж7ж8.

	а	б	в	г	д	е	ж	з	и	к
1										
2			■				■	■		
3			■							
4									■	
5		■	■	■			■	■		
6							■	■		
7	■	■	■	■		■	■	■		
8							■	■		
9					■	■				
10	■		■							■

Задание:

Запишите координаты фигур,
расположенных на шахматной доске



ИСТОЧНИКИ:

- Математика 6 кл,: Учебник для общеобразовательных учреждений/ И.И. Зубарева, А.Г.Мордкович.- М.:Мнемозина,2014.
- Шаблон презентации Автор: Горяйнова Екатерина
- http://pedsovet.su/_ld/344/00863211.jpg
- Рисунки:
- http://bookz.ru/authors/natal_a-nagornaa/astrolog_499/i_005.jpg
- <http://fotoham.ru/img/picture/Oct/14/460073c01ccb79047aa627039c55651c/1.jpg>
- <http://megaobzor.com/uploads/stories/94561/teatr1685.jpg>
- <http://abali.ru/wp-content/uploads/2010/11/cirk.jpg>
- <http://www.kinobusiness.com/upload/iblock/1c1/1c1a28447d7da170a49d7a296665c8cd.jpg>
- <http://www.picshare.ru/uploads/140821/q685Z2cO04.png>
- <http://school429.narod.ru/nachalka/vorontsova/informatika-statia.files/image004.jpg>
- <http://schoolsar48.ucoz.ru/Novosti3/7b/Morskoj-boj-4.jpg>
- <http://play-people.ru/wp-content/uploads/2012/03/%D0%9C%D0%912.jpg>
- <http://geobib.ru/wp-content/uploads/2012/12/Fresine-Ivanchuk-300x300.jpg>
- http://globuss24.ru/web/userfiles/image/doc/hello_html_m4262a521.jpg