

ВЫПОЛНИ СРАВНЕНИЕ

*МКОУ «Краснинская школа интернат»,
Ленинск – Кузнецкий район,
Кемеровская область
Черепанова Елена Николаевна,
учитель математики.*



Математический



**Сравни числовые
выражения**

$$12 \cdot 3 \overset{36}{<} 12 \cdot 4 \overset{48}$$

**Выбери
знак:**






**Сравни числовые
выражения**

84

84

$$4 \cdot 21 \quad \text{=} \quad 21 \cdot 4$$

**Выбери
знак:**





**Сравни числовые
выражения**

64

34

$$32 \cdot 2 \quad > \quad 32 + 2$$




**Выбери
знак:**



**Сравни числовые
выражения**

$$40 \cdot 0 \quad < \quad 7 \cdot 2$$




**Выбери
знак:**



**Сравни числовые
выражения**

$$14 \cdot 2 \overset{28}{>} \overset{14}{14} \cdot 1$$



**Выбери
знак:**



**Сравни числовые
выражения**

$$23 \cdot 2 \overset{46}{<} \overset{69}{23 \cdot 3}$$




**Выбери
знак:**



**Сравни числовые
выражения**

$$42 \cdot 2 \overset{84}{>} \overset{21}{42 : 2}$$



**Выбери
знак:**



**Сравни числовые
выражения**

$$62 : 2 \overset{31}{<} \overset{64}{32 \cdot 2}$$

**Выбери
знак:**






Сравни числовые
выражения

22

14

$88 : 4$  $48 : 4$

Выбери
знак:



Интернет - источники

<http://i44.tinypic.com/8vypmg.jpg>

