



Математика во 2 классе

"Сложение и вычитание в пределах 100"

Обобщающий урок


Российская Федерация

**Министерство образования Московской области муниципальное специальное
(коррекционное) образовательное учреждение
для обучающихся воспитанников с ограниченными возможностями здоровья
специальная (коррекционная) школа-интернат VII вида
Павлово-Посадского района Московской области**


Составила учитель начальных классов Суманева В.В.



**Долгожданый дан звонок-
Начинается урок.
Игры, шутки, всё для вас!
За работу, в добрый час!**



Записать числа в порядке
возрастания 20, 17, 39, 61, 58, 49.



1	20	39	49	58	61
7					
Д	Р	У	Ж	Б	А



Игра "Домино"



1 2	$8+8=$
--------	--------

1 6	$7+4=$
--------	--------

1 1	$7+9=$
--------	--------

1 6	$8+4=$
--------	--------

1 2	$5+8=$
--------	--------

1 3	$9+9=$
--------	--------

1 8	$3+8=$
--------	--------

1 1	$9+8=$
--------	--------


1 7	$7+7=$
--------	--------

1 4	$8+7=$
--------	--------

1 5	$7+9=$
--------	--------

1 6	$5+7=$
--------	--------

12



Математическая туманность



$87-20 =$

67

$42+7 =$

49

$44-40=$

4

$43+30$

=

73

$79-8=$

71

$50+2$

52

$97+3=$

10

0



40

-
20

+30

-
40

+2
0

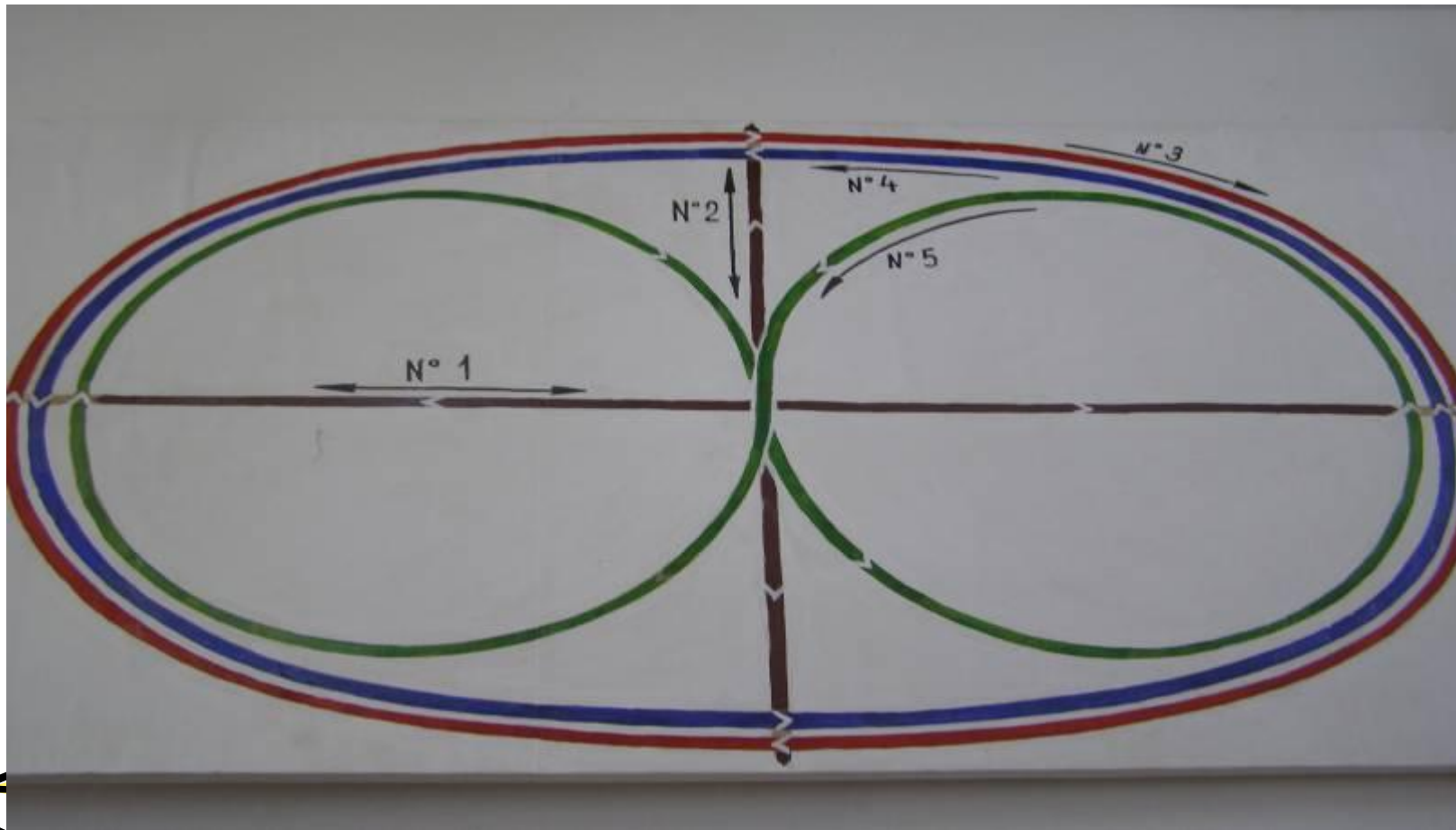
+5
0

=8
0

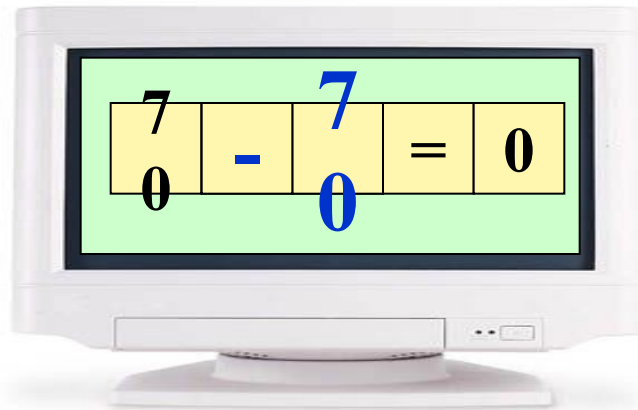
Орёл-100б. Альбатрос-80б. Аист-90б.



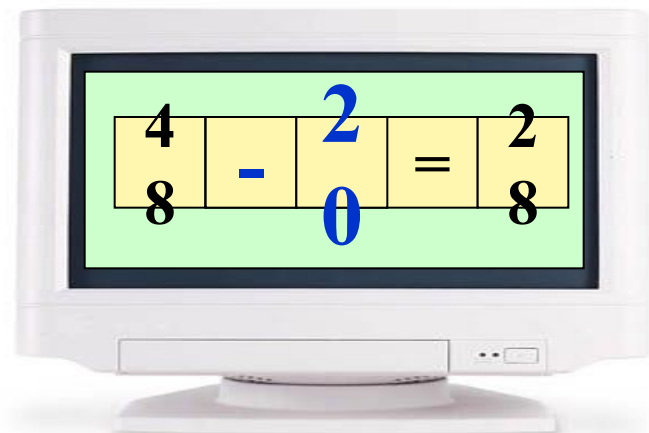
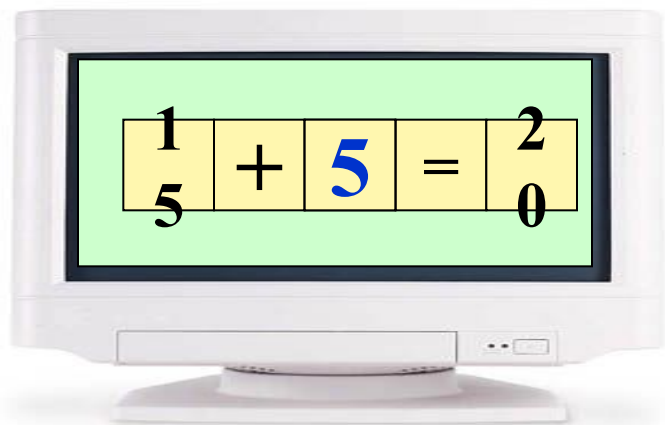

Физминутка для глаз



Смп



иш



Математический лабиринт



49-28



54+37 78-26

34+25 48-23

81+15



Волшебное солнышко





Первый лучик «ЗАДАЧА»



IM-20-25

5




Было пятнадцать цветков,
сорвали — десять.
Сколько цветков осталось?

IM-20-6

10

Всего шестнадцать шариков.
Синих — шесть.
Остальные — жёлтые.
Сколько жёлтых шариков?



IM-20-20

10

Было восемнадцать яблок.
Восемь — съели.
Сколько яблок осталось?



IM-20-5

16

На одной полке — шесть книг,
на другой — десять.
Сколько всего книг?



IM-20-2

18

На одной полке — восемь кувшинов,
на другой — десять.
Сколько кувшинов на двух полках?



IM-20-11

11

Купили шесть груш и пять помидоров.
Сколько человек могут получить по одному овощу или фрукту?



IM-20-19

19

На одной полке — десять мячей,
на другой — девять.
Сколько всего мячей?



10

16

11

10

18

19



Второй лучик «ПОСЧИТАЙКА»



$$5+5+5+5+5+5=30$$

$$5 \times 6 = 30$$

Что такое умножение?

Этот умное сложение.

Ведь умней умножить раз,

Чем слагать весь целый час.





Третий лучик «СМЕКАЛКА»



3 ТОН

тритон

100 ЛБ

столб

ЯЯЯЯЯЯ

семья

40 А

сорока



ВОЛШЕБНОЕ ДЕРЕВО



Понравился урок



*Не понравился
урок*



Литература:

1. «Раз, два, три—отвечай»
(математические развлечения для младших школьников)- Перкова О.И.. Москва : 1994г.
Издательство Учебно-научного
производственного центра «Энергомаш»
- 2.Т.Г.Жигалкина «Система игр на уроках
математики в 1 и 2 классах». М.,: Новая школа,
1997г.
- 3.Т.И.Линго «Игры. Ребусы, загадки для мл.
школьников.»--Ярославль: Академия
- 4.Интернетресурсы

