



Математика



Задачи.

Вот задумал еж друзей

Пригласить на юбилей.

Пригласил двух медвежат,

Трех зайчат и пять бельчат.

Посчитайте поскорей:

Сколько у ежа друзей?

$$2+3+5=10$$

Под гармошку пляшут польку

Два волчонка, три лисы.


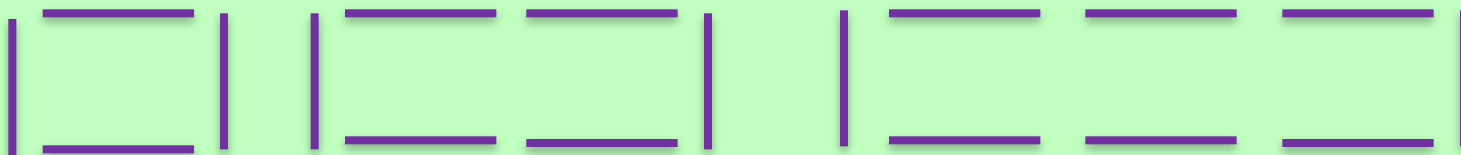
А всего танцоров сколько

На поляне у сосны?

$$2+3=5$$



Какая фигура следующая?




Распредели фигуры по группам разными способами.



Верно или неверно?

Все оранжевые фигуры — круги.

Все большие фигуры одного цвета.



Верно ли, что записи в каждой строке составлены в порядке уменьшения результата? Как проверить?

$$6 - 1, 6 - 2, 6 - 3, 6 - 4, 6 - 5$$

$$5 - 5, 5 - 4, 5 - 3, 5 - 2, 5 - 1$$

5, 4, 3, 2, 1.

0, 1, 2, 3, 4.



Я – знак УМНОЖЕНИЯ
Для облегченья сложения.
Таблица умножения
Достойна уважения.
Она всегда во всем права:
Что б ни случилось в мире,
А все же будет дважды два
По-прежнему четыре.



Тема урока: Умножаем числа.



1.  Сколько? Выберите карточку с записью.



$2 + 3$

$2 \cdot 3$



$2 + 4$

$2 \cdot 4$

2. Сколько утят нужно нарисовать, чтобы около каждой утки было по 2 утёнка?



Сколько всего утят?

По 2 утёнка **3** раза — это **6** утят.



Подбери карточку с записью.

Из числа 8 вычесть 2.

$$8 - 2$$

2 умножить на 8.

$$2 \cdot 8$$

К числу 2 прибавить 8.

$$2 + 8$$

8 умножить на 2.

$$8 \cdot 2$$

