

Тема урока

Сложение и вычитание в
пределах 100

Подготовка к умножению

Подготовила учитель начальных классов Зеленчук Е.С.

Цель урока

- Совершенствовать умения и навыки в сложении и вычитании в пределах 100
- Продолжить работу по подготовке к умножению
- Развивать общеучебные умения и навыки

Урок - путешествие

- Мне нравится проводить вместе с детьми уроки путешествия. Эти уроки соответствуют требованиям времени:
- Ребёнок учится думать, учится добывать знания, а не принимать их в готовом виде
- Учится применять учебные умения в нестандартной ситуации, найти нестандартное решение

Эти уроки в основном интегрированные, они связаны с уроками окружающего мира, литературного чтения, музыки. Дети особенно любят путешествия по сказкам. Эти уроки требуют очень большой подготовки: помогают родители, дети. Поэтому часто их проводить невозможно. Но с приходом в школу компьютерных технологий всё изменилось. Мы провели такой урок.

5



4



9



ΚΤΟ ?

- $8-6=$

- $2+7=$

- $3+8 =$

- $11-7=$

- $9-6=$

- $8-6=2$

- $2+7=9$


- $3+8=11$

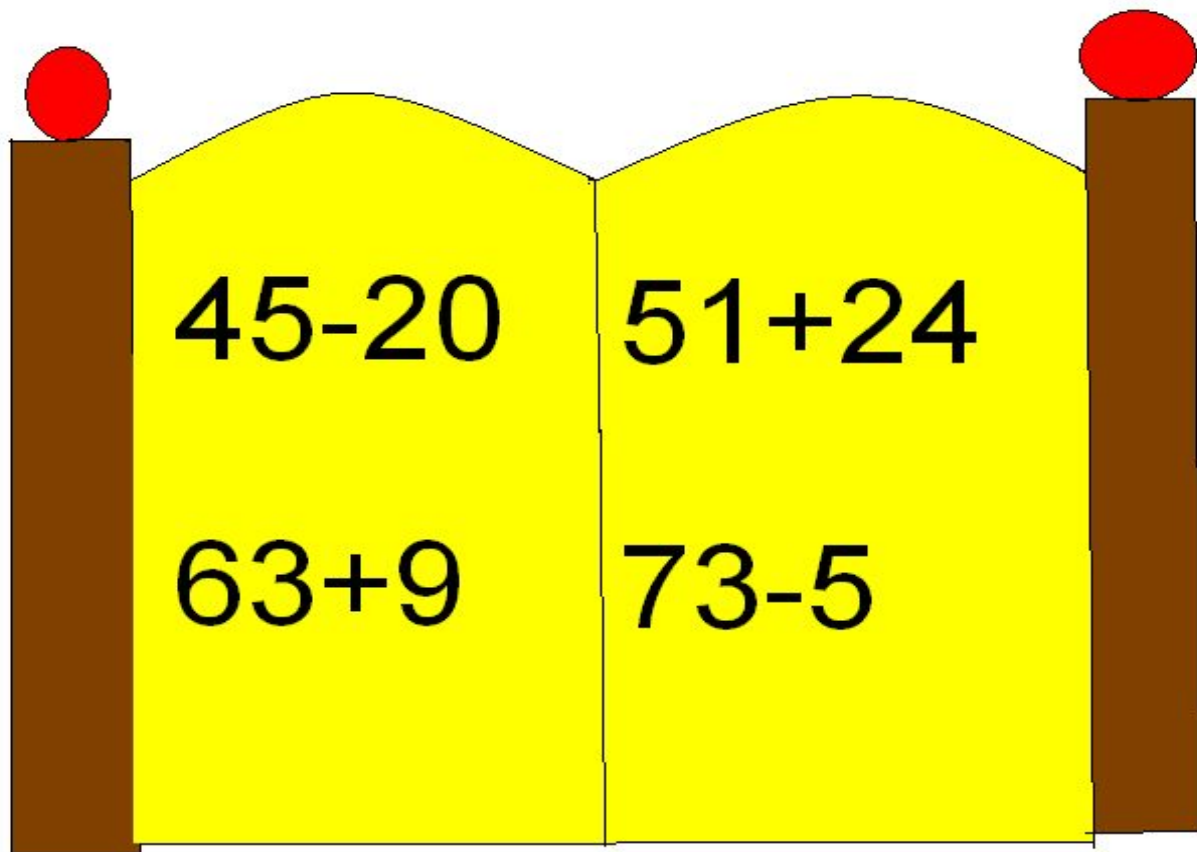
- $11-7=4$

- $9-6=3$



Сказка начинается...





$45 - 20 =$

25

$63 + 9 =$

72



$51 + 24 =$

75

$73 - 5 =$

68

Принёс я домой 16 морковок, а потом ещё
7 морковок. 15 морковок зайчата съели.
Сколько морковок осталось зайчатам на
ужин?



1 способ: $(16+7)-15=8$

2 способ: $(16-15)+7=8$





$$16=8+8$$

$$16=4+4+4+4$$

$$16=2+2+2+2+2+2+2+2$$



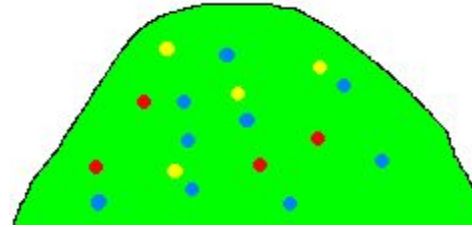
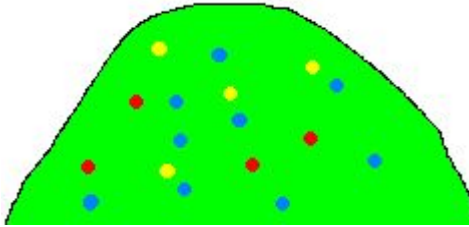
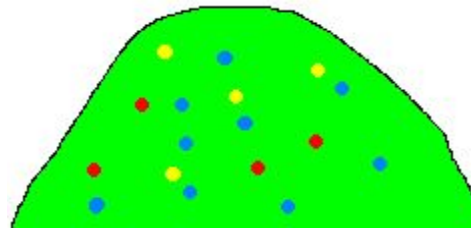
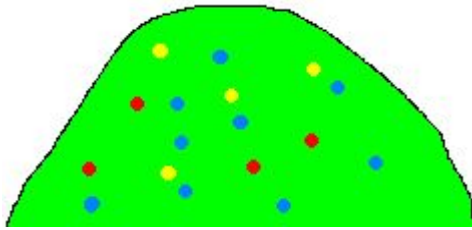
$$12=6+6$$

$$12=3+3+3+3$$

$$12=4+4+4$$

$$12=2+2+2+2+2+2$$

Молодцы!!!





3 гуся летят над нами,
3 других над облаками,
2 спустились на ручей,
Сколько было всего гусей?



Сбежала от Федоры посуда:
3 стакана, 3 чашки, 3 блюда.
Кто сосчитать готов?
Сколько всего беглецов?

Белка устроила гнездо в дупле дуба. Днём она принесла туда 25 грибов, а вечером 32 гриба.

Сколько всего грибов принесла белка?

$$32+25=57$$

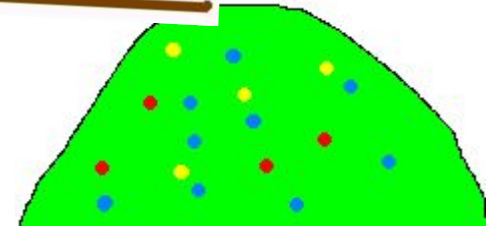
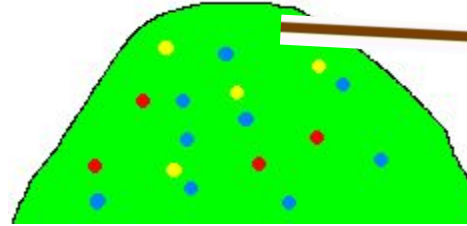
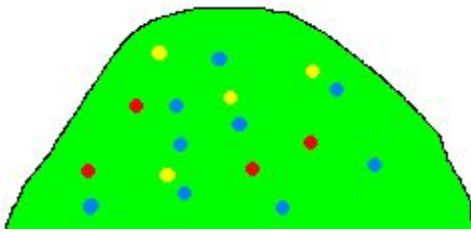
На сколько больше грибов принесла белка?

$$32-25=7$$



- Мы считали и устали
- Дружно все мы тихо встали.
- Ручками похлопали: 1, 2, 3.
- Ножками потопали: 1, 2, 3.
- Сели, встали, сели, встали
- И друг друга не задели.
- Мы немножко отдохнули
- И опять считать начнём.





- На одном дереве сидело 15 сорок, а на другом дереве 9 сорок. На сколько больше сорок на первом дереве, чем на втором?

- I д. – 15с. I д. -15с. I д. – 15с.] НА?
- II д. – 9с. II д. – 9с. II д. – 9с.]
- 15 -9=6(с.) ?



- 1 ГРУППА: $52+36=$
- $97-61=$

$$63+18=$$
$$72-29=$$

$$14=\dots+\dots$$

- 2 ГРУППА: $23+45=$
- $27+46=$

$$89-31=$$
$$52-38=$$

$$10=\dots+\dots+\dots+\dots+\dots$$

- 3 ГРУППА: $13+46=$
- $70-24=$

$$55+17=$$
$$89-44=$$

$$9=\dots+\dots+\dots$$

СПАСИБО, РЕБЯТА!

