

К

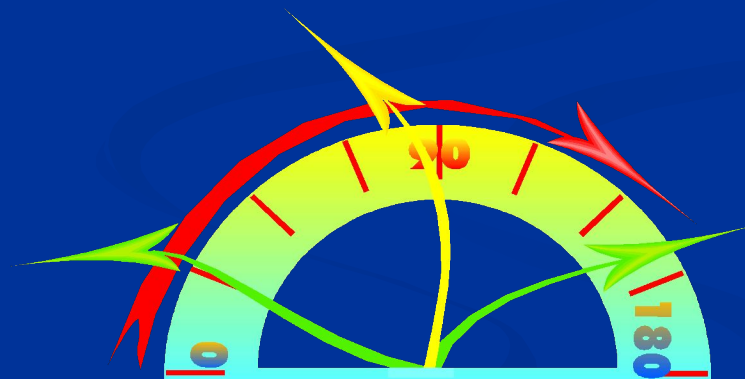
М

В



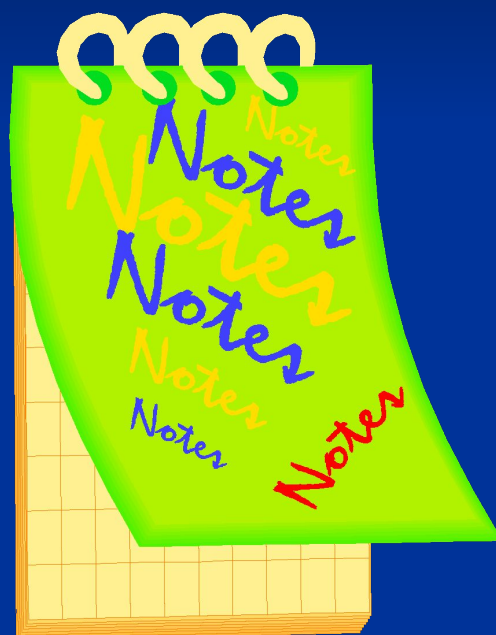
клуб весёлых математиков

Интеллектуальная разминка



- Во что ставят цветы
- Сладости в обёртках
- Геометрическая фигура без углов
- Прямая линия с точками на концах
- Сумма 40 и 100 равна ...
- Разность 80 и 20 равна ...
- Что чистят дважды в день
- Слуховой аппарат человека – это ...
- Семь дней – это ...
- Четыре недели – это ...
- Куда несут посылки?
- Как называется бумага для стен?
- Посчитай тройками до 30
- Посчитай четвёрками до 40

Загадки



Один костёр весь свет согревает.

**Танцует крошка,
А всего одна ножка.**

**Возле ёлок и иголок
Летним днём построен дом,
За травой не виден он,
А жильцов в нём миллион.**

Две антенны на макушке,

А сама сидит в избушке.

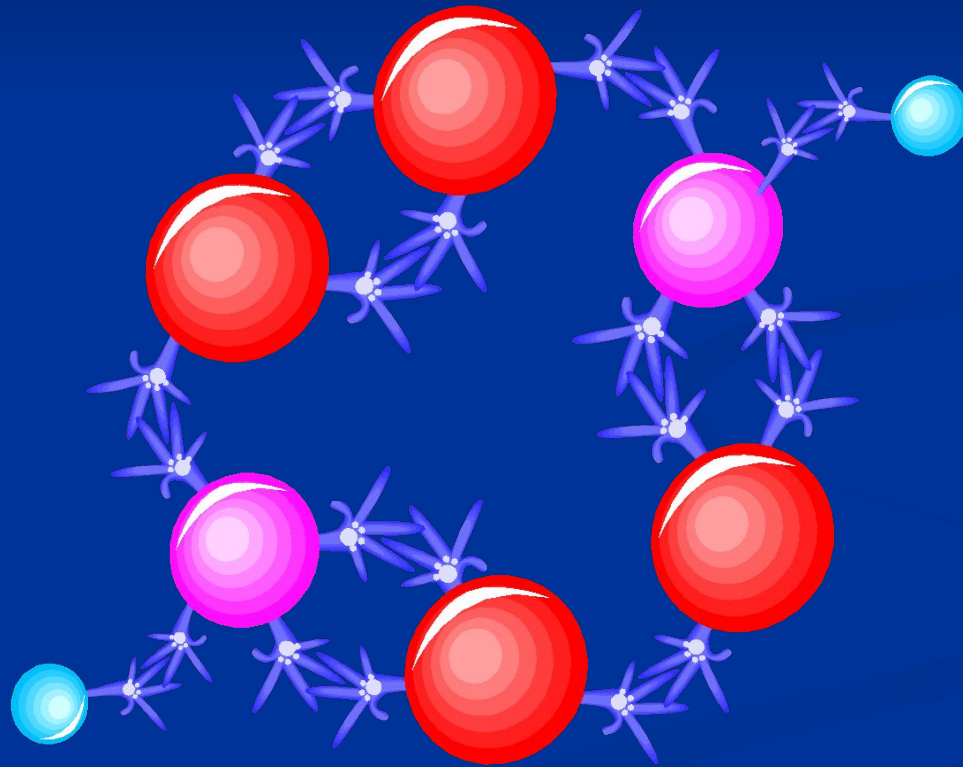
На себе её везёт,

Очень медленно ползёт.

**Имеет четыре зуба. Каждый день
появляется за столом, а ничего не ест.**

**Два братца в воду глядятся, а всё не
сойдутся.**

«Магический квадрат»



Впишите в клетки числа так, чтобы их сумма по вертикали, горизонтали и диагонали была одинаковой.

12		
	16	
28		20


ОТВЕТ

12	32	4
8	16	24
28	0	20

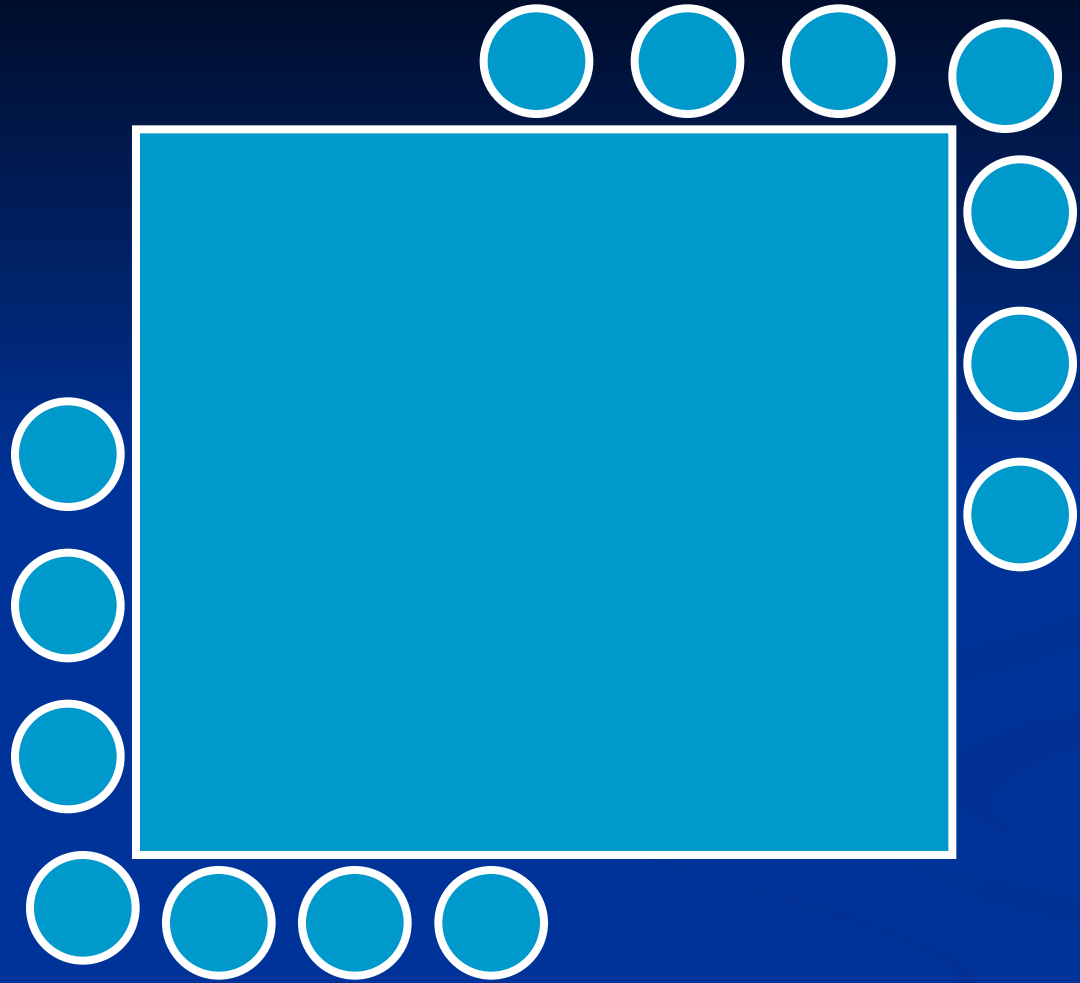
Минутка занимательной геометрии



Вокруг квадратной клумбы надо расставить 14 ваз так, чтобы вдоль каждой стороны было одинаковое количество ваз. Как это сделать?



ОТВЕТ

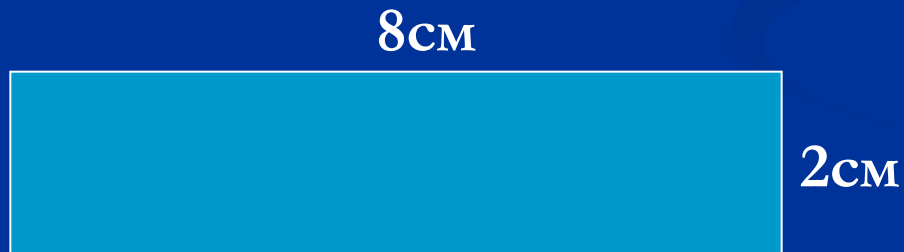


Блиц - турнир



Бабушка испекла 4 противня пирожков с капустой по 14 штук на каждом и 3 противня пирожков с вареньем по 19 штук на каждом. Каких пирожков бабушка испекла больше и на сколько?

Найди периметр и площадь
прямоугольника со сторонами
8 см и 2 см.



2 шоколадки стоят столько же, сколько и 14 булочек.
Сколько стоит шоколадка, если булочка стоит 7 рублей?

Буквы заменены цифрами. Даны 4 слова:

1234, 5678, 9608, 9494 Это слова:

папа, Женя, Петя, Дима,

только, возможно, они

расположены в другом порядке.

Определи, какая цифра заменяет
какую букву? Расположи слова так:

Дима, Женя, Петя, папа

1) $14 * 4 = 56$ (п) – с капустой

2) $19 * 3 = 57$ (п) – с вареньем

3) $57 - 56 = 1$ (п) – разность

Ответ: на 1 пирожок с
вареньем >.

$$P = 8 + 8 + 2 + 2 = 20 \text{ cm}$$

$$S = 8 * 2 = 16 \text{ cm}^2$$

1) $7 * 14 = 98$ (руб.) – стоят
булочки

2) $98 : 2 = 49$ (руб.) – стоит
шоколадка

Ответ: 49 рублей.

9 –П, 6- Е

9608 – Петя (0 –Т, 8- Я)

5678 – Женя (5 – Ж, 7 – Н)

9494 – папа (4 – А)

1234 - Дима

МОЛОДЦЫ!!!

