

**Тест**  
**«Прямоугольник**  
**»**

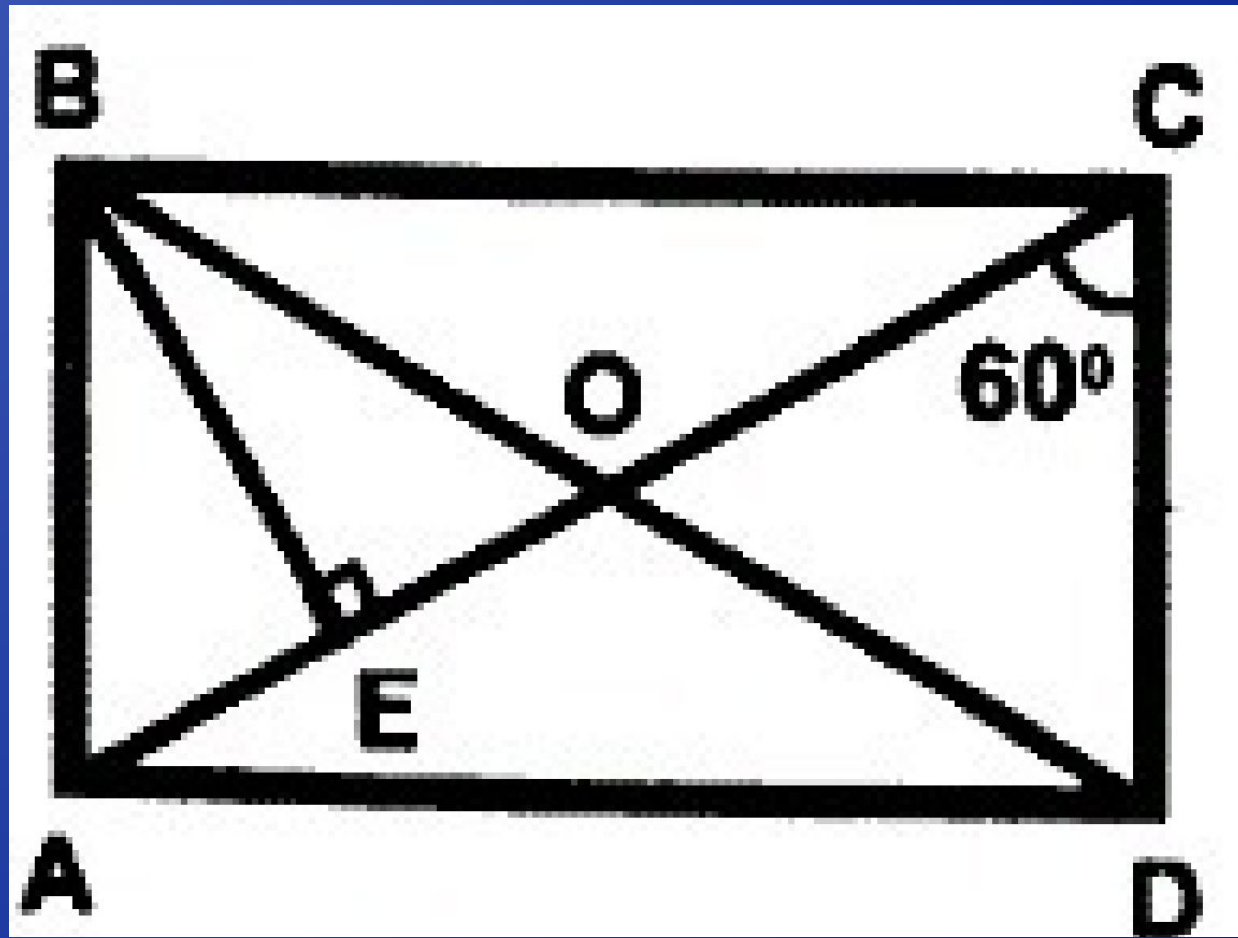
**прямоугольника со  
сторонами 5 см и 10 см  
равен:**

- а) 15 см;**
- б) 25 см;**
- в) 30 см;**
- г) 50 см.**



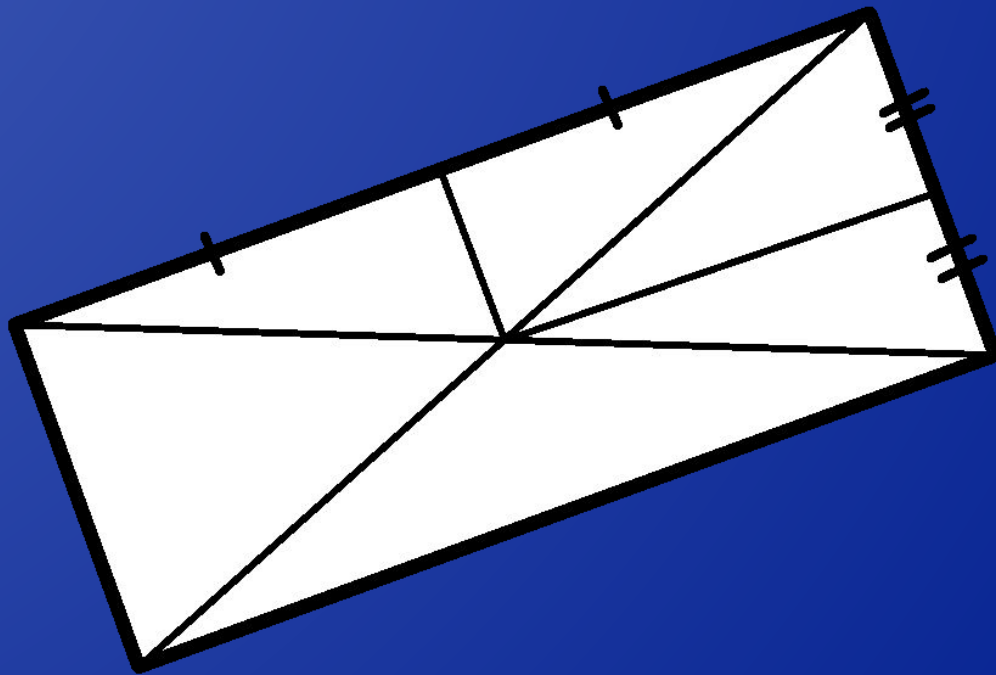
4. ABCD – прямоугольник. OE = 2 см. Тогда AC равно:

- а) 12 см;
- б) 4 см;
- в) 16 см;
- г) 8 см.



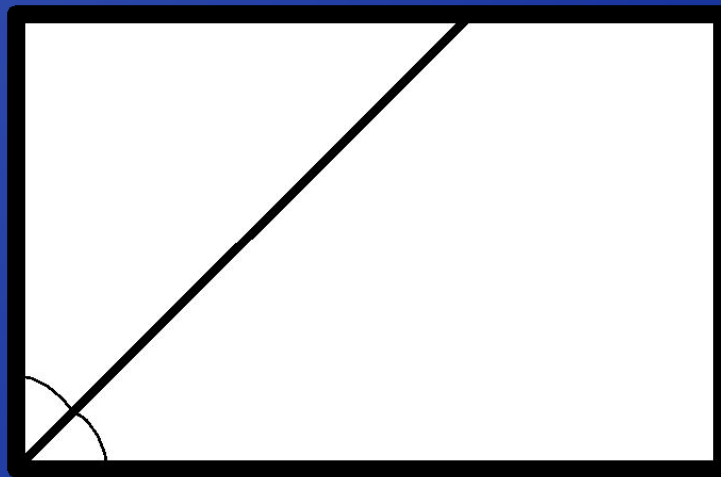
3. ABCD – прямоугольник.  
Найдите его периметр:

- а) 24 см;
- б) 64 см;
- в) 32 см;
- г) 12 см.



## 2. Периметр прямоугольника равен:

- а) 20 см;
- б) 24 см;
- в) 60 см;
- г) 32 см.



**точка пересечения  
диагоналей  
прямоугольника. Найдите  
периметр треугольника  
АОВ.**

- а) 25 см;
- б) 15 см;
- в) 17 см;
- г) 7 см.