

Четырёхзначные числа

УМК «Гармония» 3 класс



Подготовила: учитель начальных классов МБОУ СОШ п.Усть-Уда
Виноградова Ольга Дмитриевна

Цель урока:

- совершенствовать вычислительные умения и навыки, умение решать задачи, проверить усвоение нумерации четырехзначных чисел;
- развивать умения сравнивать, классифицировать;
- расширить знания по окружающему миру и стимулировать к поиску новых знаний.

По какому признаку можно разбить числа на две группы?

8540

408

2970

2901

604

107

780

208

3750



Запиши предыдущее и последующее числа для каждого из данных чисел

5008

5009

5010

7998

7999

8000

5999

6000

6001

1288

1289

1290

3498

3499

3500

9088

9089

9090



Пион тонколистый. Цветки очень хороши – крупные, нарядные, темно-малиновые. Диаметр их достигает 7 см

Увеличь каждое число на 24 сотни и запиши
Запиши числа в порядке убывания
верные равенства

5013

5203

5701

5010

5001

5109

5009

$$5701 + 2400 = 8101$$

$$5203 + 2400 = 7603$$

$$5109 + 2400 = 7509$$

$$5013 + 2400 = 7413$$

$$5010 + 2400 = 7410$$

$$5009 + 2400 = 7409$$

$$5001 + 2400 = 7401$$



Ирис карликовый

Используя цифры 1, 0, 9, 6, запиши самое
Запиши каждое число в виде суммы
маленькое и самое большое четырёхзначное
разрядных слагаемых
число

1069

9601

$$1069 = 1000 + 60 + 9$$

$$9601 = 9000 + 600 + 1$$




Венерин башмачок настоящий





Венерин башмачок крупноцветный

ФИЗМИНУТКА

«ЛОВИ СНЕЖИНКУ!»







Задача

В понедельник в киоске было продано 24 лотерейных билета, во вторник – на 25 билетов больше, чем в понедельник, а в среду – в 7 раз меньше, чем во вторник. Сколько всего билетов было продано за 3 дня?



Сон - трава

Выбери верное решение

I

- 1) $24 + 25 = 49$ (б.)
- 2) $49 : 7 = 7$ (б.)
- 3) $24 + 49 + 7 = 80$ (б.)

III

- 1) $24 + 25 = 49$ (б.)
- 2) $49 + 7 = 56$ (б.)
- 3) $49 + 56 + 24 = 129$ (б.)

II

- 1) $24 + 25 = 49$ (б.)
- 2) $49 - 7 = 42$ (б.)
- 3) $49 + 42 + 245 = 115$ (б.)

Подведем итоги

Что повторили?

Что узнали?

Что запомнили?

спасибо за урок!

