

УСТНЫЙ СЧЁТ



16

В каких числах сумма цифр
равна 18?

для тела 0/2.

49
5

68
0

78

95
4

23
0

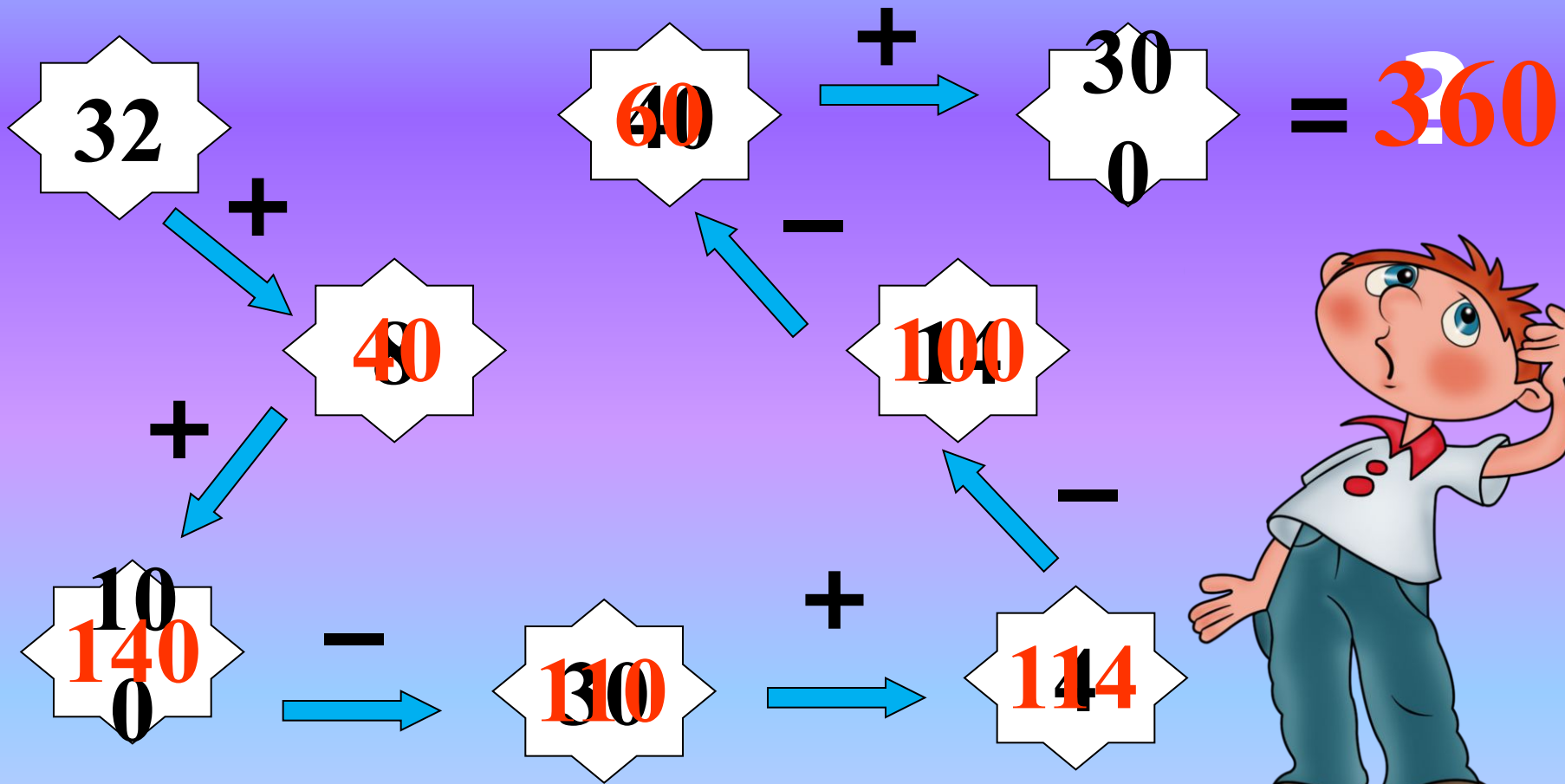
10
8

33
6

46
0



ВЫЧИСЛИ



Вычисли и расшифруй название сказки.

А $84 - 16 = 68$

Ш $75 - 49 = 26$

К $64 - 37 = 27$

У $28 + 43 = 71$

О $56 + 27 = 83$

Е $12 + 66 = 78$

З $72 + 13 = 85$

Н $36 - 14 = 22$

Л $17 + 63 = 80$

85	83	80	71	26	27	68
З	О	Л	У	Ш	К	А



Заполни таблицы:

Уменьшаемое	3	5	37	6	7	50	8	8	8	86
Вычитаемое	5	0	7	1	2	3	1	2	8	0
Разность	2	46	3	4	66	1	68	3	6	8
	33	4	0	50	6	8	3	7	0	6
Слагаемое	6	17	9	5	7	1	2	0	9	9
Слагаемое	2	2	39	5	60	2	4	2	3	4
Сумма	0	4	4	3	6	0	7	5	4	9
	80	0	8	7	7	81	2	25	5	4

УРОК № 56

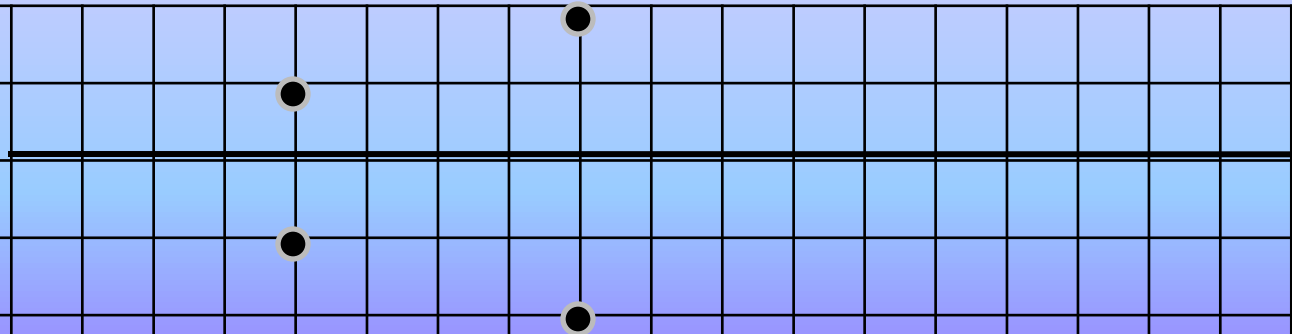
Тема «Симметрия на клетчатой бумаге»

Автор презентации – Субаева Е.В., учитель начальных классов

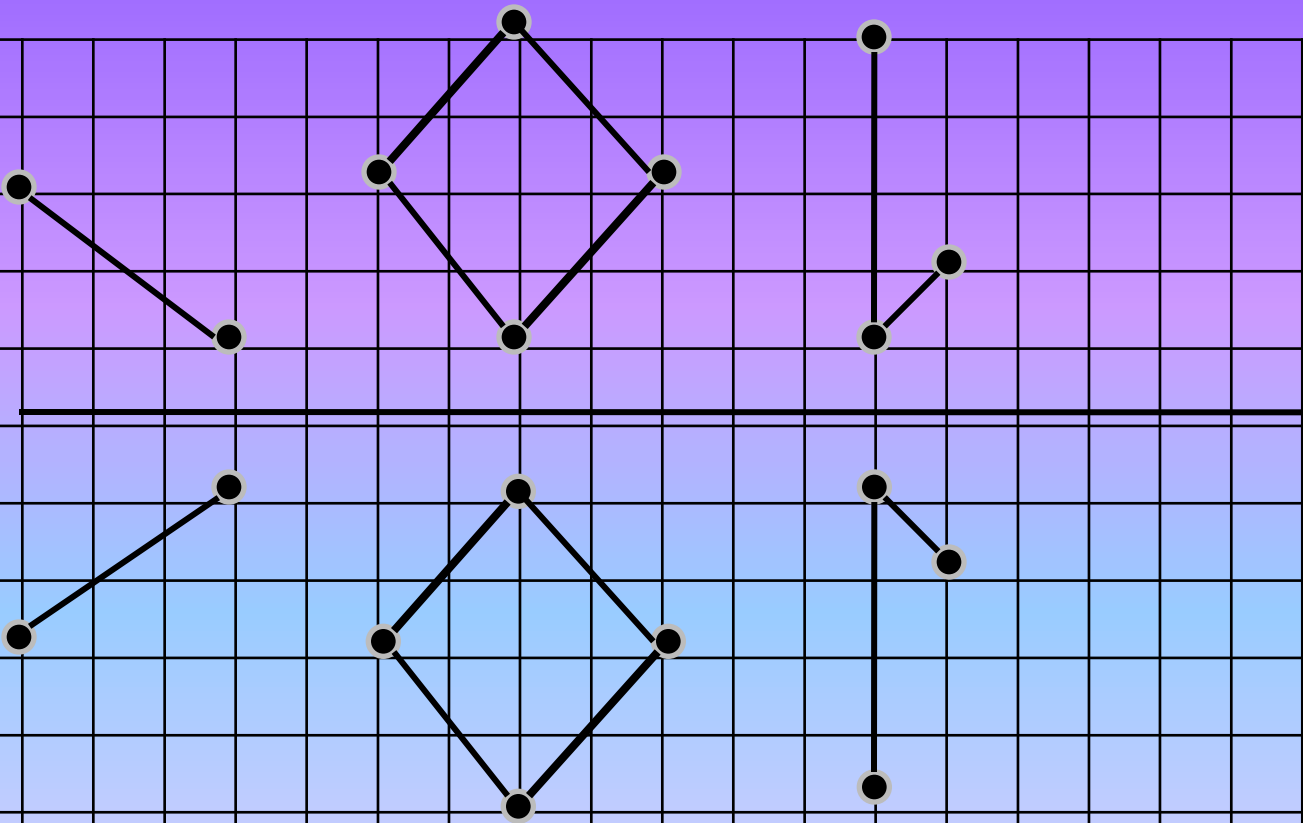
ПОВТОРЕНИЕ

ПРОЙДЕННОГО МАТЕРИАЛА

1



2

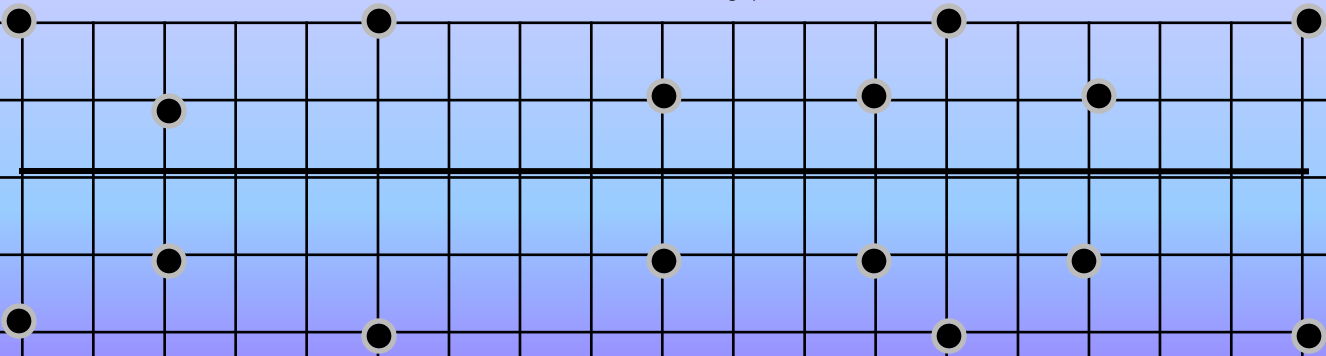


ВЫПОЛНИТЕ

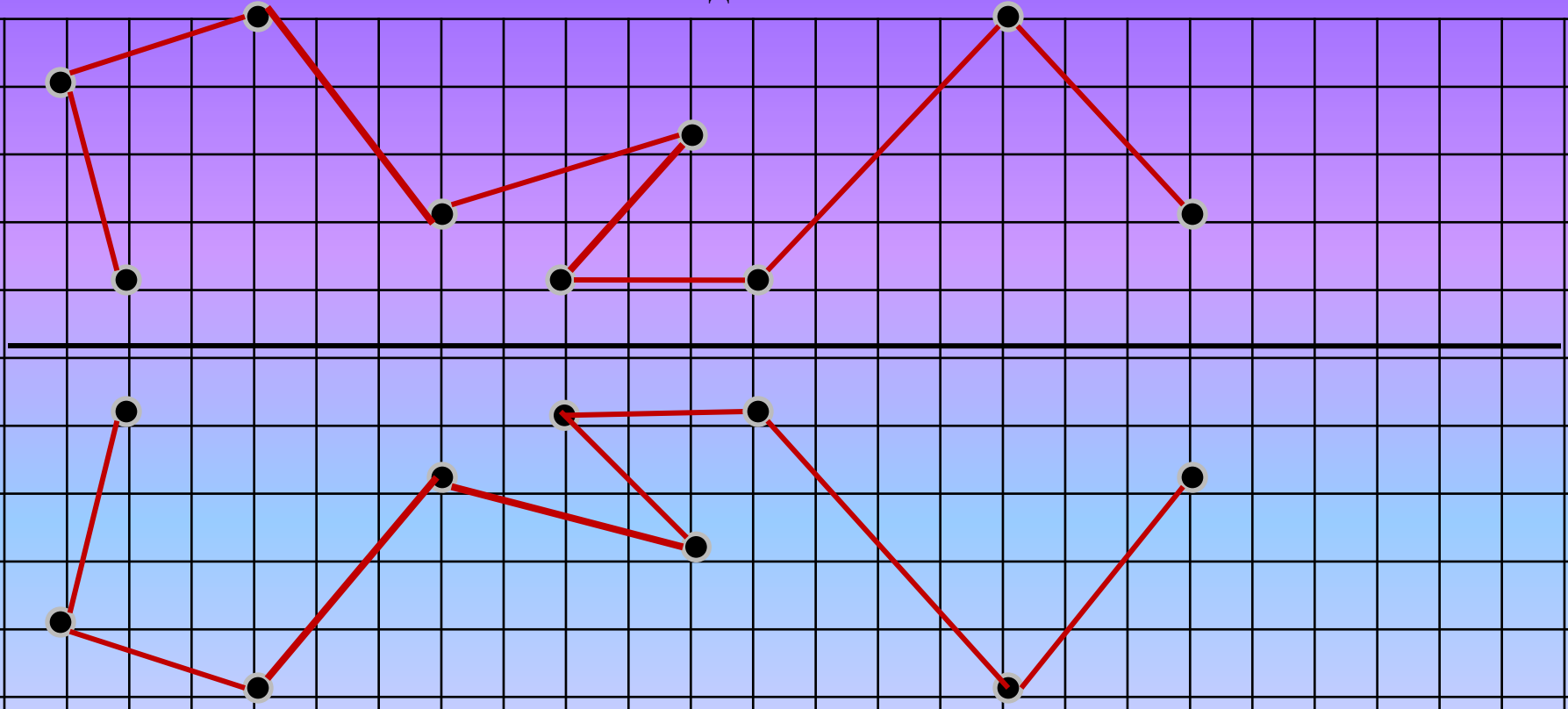
ЗАДАНИЯ



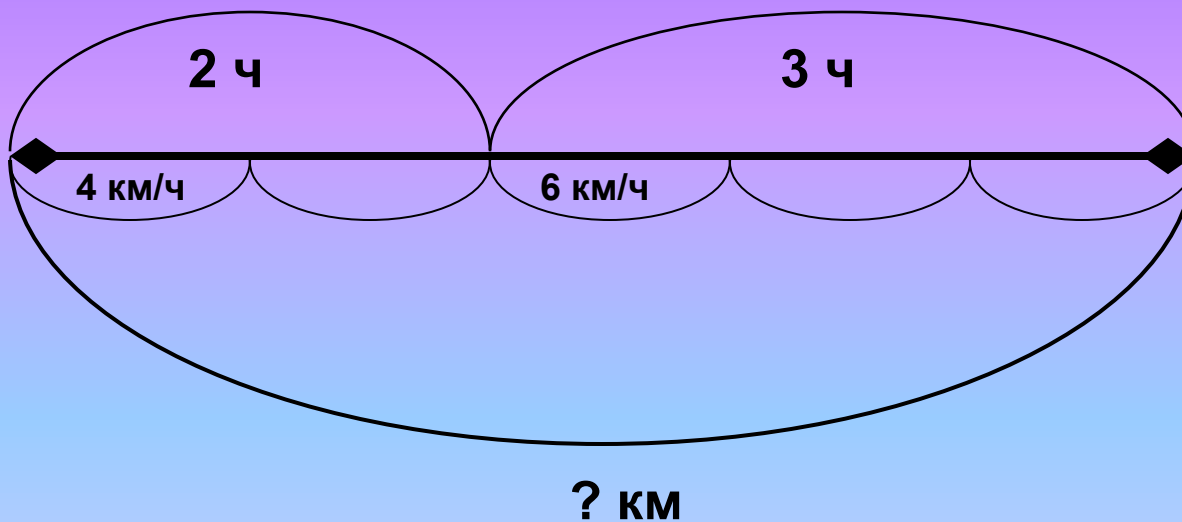
№ 1



Задание № 2



с. 104 задача № 8



Проверим:



Выражением:

$$(4 \diamond 2) + (6 \diamond 3) = 26(\text{км})$$

Ответ: 26 км проехали наши друзья.

Проверим:



По действиям:

1. $4 \diamond 2 = 8(\text{км})$ – передвигались на плоту.
2. $6 \diamond 3 = 18 (\text{км})$ – прошли пешком.
3. $18 + 8 = 26 (\text{км})$ – проехали наши друзья.

Ответ: 26 км.

с. 104 задача № 11 (устно)



Петя

Федя

Таня



с. 104 задача № 12 (устно)

15	1
14	2
13	3
12	4
11	5
10	6
9	7
8	8
7	7
6	6
5	5
4	4
3	3
2	2
1	1



Будильник поставили на 7 часов утра, а спать легли в 9 часов вечера. Сколько времени ушло на сон?

- 1) $12 - 9 = 3$ (ч.) – до 12 часов вечера
- 2) $3 - 7 = 10$ (ч.) – ушло на сон

Оцени свою работу!

1.



Старался , у меня всё
получилось!

2.



Старался,
но были ошибки.

3.



У меня
не получилось,
но я буду стараться!

Домашнее задание

стр. 105 № 15, 16,

Спасибо!!!

ЗА РАБОТУ