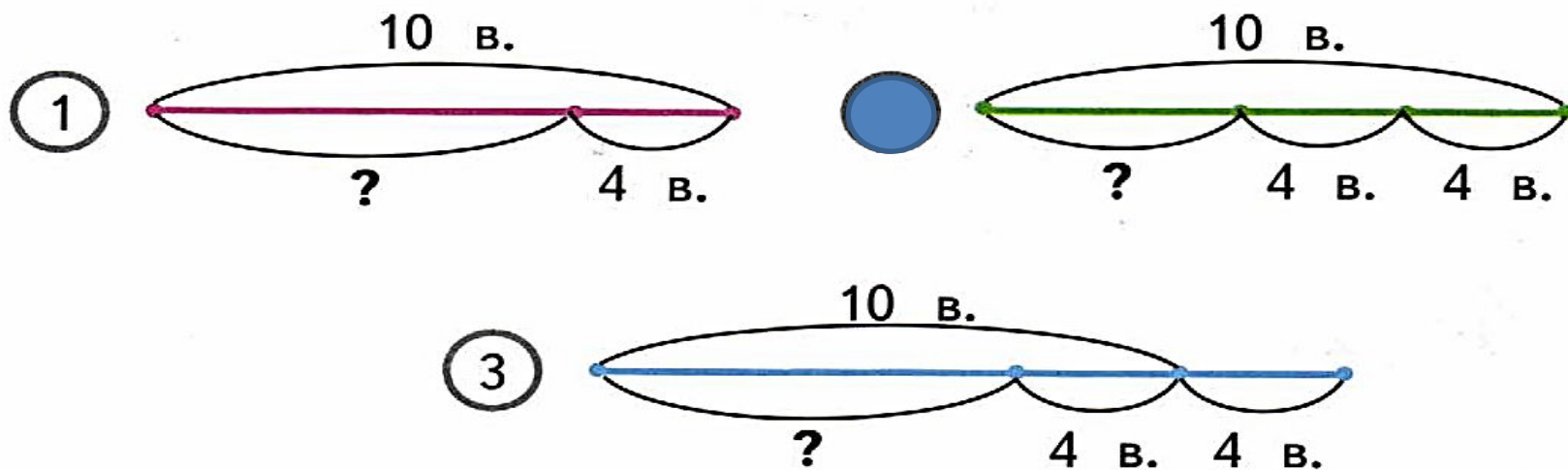


Что узнали. Чему научились.

- 45** На тарелке было 10 вафель. Таня съела несколько вафель и оставила по 4 вафли для сестры и брата. Сколько вафель съела Таня? Выбери схематический чертёж к задаче и раскрась его номер. Реши задачу.

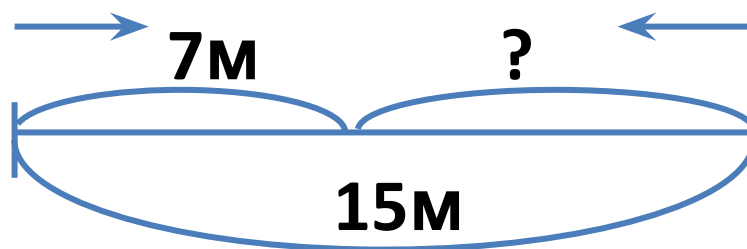


$$10 - (4 + 4) = 2 \text{ (в.)}$$

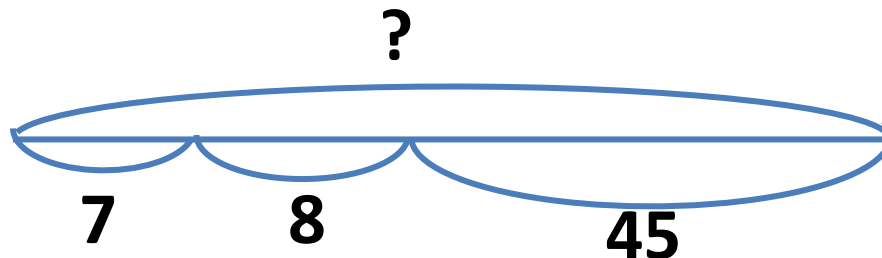
Ответ: 2 вафли.

Работа по учебнику с.26

35. Брат и сестра поливали грядку длиной 15 м, двигаясь с разных сторон навстречу друг другу. Сколько метров грядки полил брат, если сестра до встречи с ним полила 7 м?



36. Юра подарил одному товарищу 7 значков, другому 8 значков, и у него осталось 45 значков. Сколько значков было у Юры?



$$45+(7+8)=60(\text{зн.})$$

Ответ: 60 значков было у Юры.

42. Дети играли в слова. Аня назвала 30 слов, Ира — 25 слов, а Саша — на 20 слов меньше, чем Аня и Ира вместе. Сколько слов назвал Саша?



- 30 слов



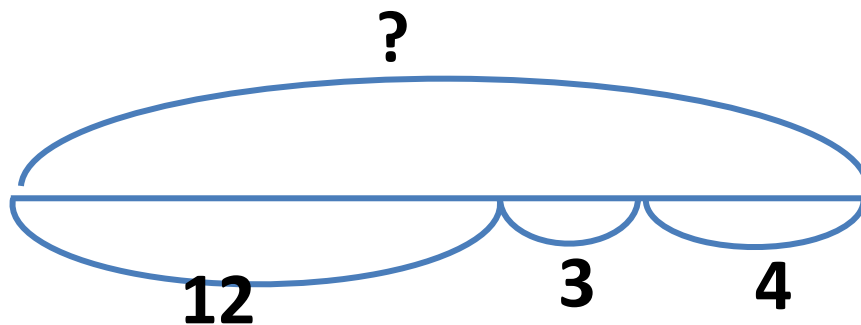
-25 слов



? на 20 <



43. В прятки играли 12 ребят. К ним присоединились 3 девочки и 4 мальчика. Сколько всего ребят стали играть в прятки?
Реши задачу разными способами.



1 способ

$$12+3+4=19(\text{р.})$$

2 способ

$$12+(3+4)=19(\text{р.})$$

Ответ: 19 ребят стали играть в прятки.

Самостоятельная работа

33. $(18 - 9) + 3$
 $(3 + 8) - 9$

$15 - (7 + 4)$
 $15 + (13 - 6)$

34. $87 - (37 + 50)$
 $69 - (46 - 46)$

$70 + (15 + 15)$
 $70 - (15 - 15)$

$39 + (59 - 50)$
 $44 - (20 - 16)$

$63 + (17 + 0)$
 $63 - (0 + 13)$

Домашнее задание Р.т.

Стр 10

- 48) 1) Альбом стоит 27 р., а краски — на 3 р. дороже. Сколько стоят краски?

Ответ:

- 2) К условию задачи, обратной данной, запиши вопрос. Реши эту задачу

Условие: Альбом стоит 27 р., а краски 30 р.
Вопрос:
Решение: Ответ:

- 3) Устно измени записанный тобой вопрос так, чтобы задача решалась сложением. Реши задачу.

Решение: Ответ:

- 49) В школьном зале в одном ряду 26 кресел. После того как зрители заняли несколько кресел в этом ряду, свободными остались 10 кресел. Сколько кресел заняли зрители в этом ряду?

Ответ:

ИСТОЧНИКИ

https://img.lovepik.com/element/40151/6450.png_1200.png

<https://avatars.mds.yandex.net/get-pdb/2402172/2d86721a-7c87-4782-b370-80b2d419bc09/s1200?webp=false>

<https://previews.123rf.com/images/blueringmedia/blueringmedia1601/blueringmedia160100486/51020011-little-boy-pointing-his-finger-up-illustration.jpg>

https://4.bp.blogspot.com/-pTSen_6lhtQ/WN8pAMnVLLI/AAAAAAAAACsY/W378lwx9kUA0pifVff7DDNqqZ-BqBI40QCPcB/s1600/1.jpg

<https://avatars.mds.yandex.net/get-pdb/1723351/bf1525ed-d9c4-49e1-85ed-18fe32670fb2/s1200>