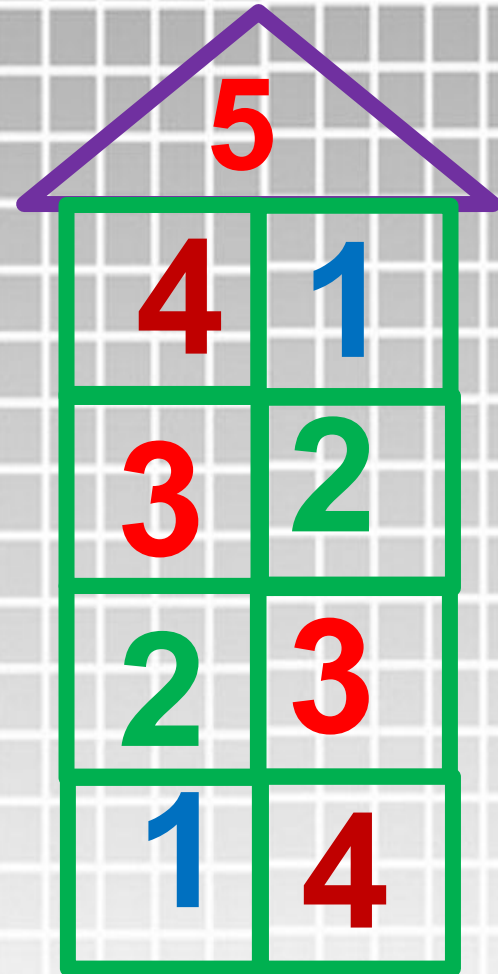
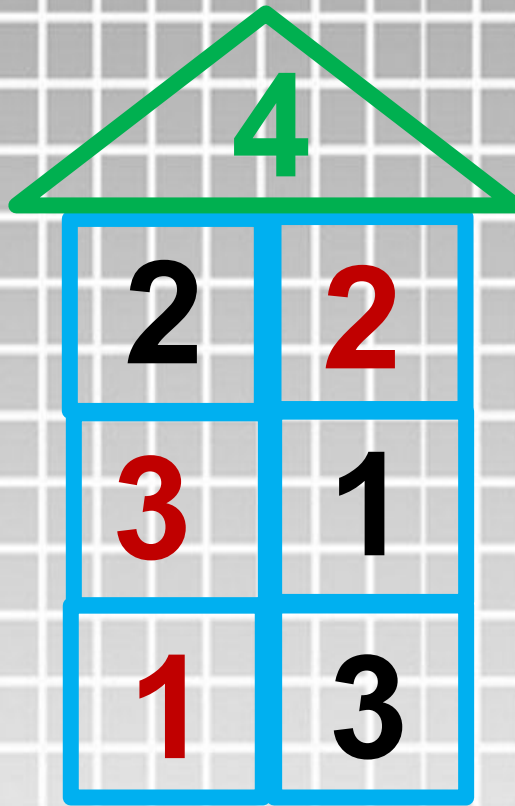
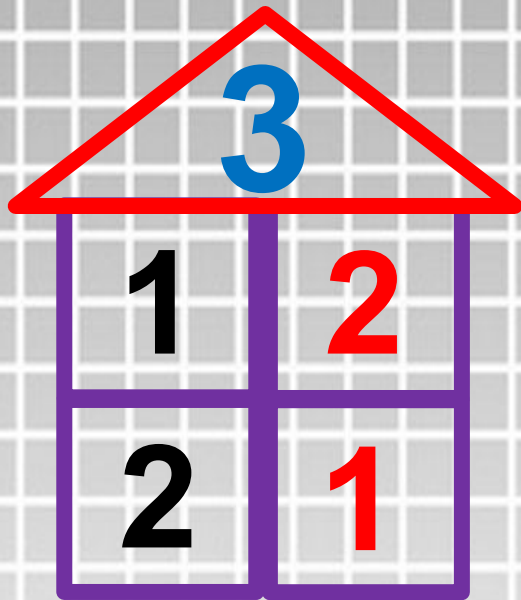


## Числа 6 и 7.

Выполнила: Соболева  
Наталья Викентьевна  
МАОУ СОШ№8 г. Белебей







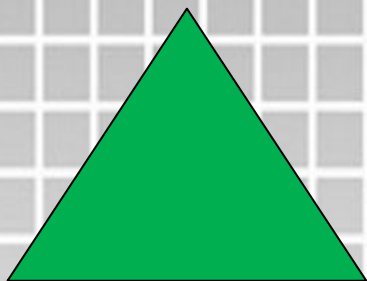
# ЧТО ЛИШНЕЕ?

сентябрь

понедельник

октябрь


ноябрь



1 2 3 4 5 6 7



СРАВНИ:



Как можно получить число 6? число 7?



$5 + 1 = 6$   
 $6 + 1 = 7$

$6 - 1 = 5$   
 $7 - 1 = 6$



6



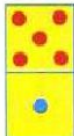
5




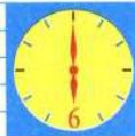
7



4



6666 6666  
1,2,3,4,5,6



$5 + 1 = 6$

$6 + 1 = 7$

1 2 3 4 5 6 7



Какое время показывают каждые часы?



Которым по счёту будет красный квадрат, если считать справа налево? синий квадрат? Сколько всего квадратов? Которым по счёту будет зелёный кружок, если считать слева направо?



В лесной школе белочка и заяц начертили по одной фигуре каждый. Эти фигуры были разными.

 не стал чертить .  не стала чертить  и . Кто какую фигуру на чертил?

«Проверочные работы», с. 12, 13.



КАКОЕ  
НЕРАВЕНСТВО  
ПРОПУЩЕНО?

$6 > 5$   
 $5 > 4$   
 $4 > 3$   
 $2 > 1$

