



Математический КВН

Девизы:

Математика – гимнастика ума.

Математику затем учить следует,
что она ум в порядок приводит.

М. В. Ломоносов

Конкурс «разминка»

1. На грядке сидели 4 воробья. К ним прилетели ещё 2 воробья. Кот Васька подкрался, схватил одного воробья и убежал. Сколько воробьёв осталось на грядке?



[0, остальные улетели]

2. четверо играли в домино 4 часа. Сколько часов играл каждый?




[4 часа]

3. шли по дороге два мальчика, и нашли 2р. За ними ещё четверо идут, сколько они найдут?



[Ничего не найдут].

4. петух, стоя на одной ноге, весит 3 кг. Сколько он весит, стоя на двух ногах?



[3кг]

5. Найти 2 числа, произведение и частное которых равно 24.



[Числа 24 и 1]

6. Сколько получится десятков, если 2 десятка умножить на 3 десятка?



[60 десятков]

7. Пассажир автобуса ехал в село. По дороге он встретил пять грузовиков и три легковые машины. Сколько всего машин ехало в село?



[Один автобус, остальные ехали из села]


8. ребята пилят бревно на части определённой длины. Отпиливание одного такого куска занимает одну минуту. За сколько минут они распилят бревно длиной 5 м на пять частей?



[За 4 минуты]







Ж



Ч

3, 2, 1, 4



Конкурс «художники»

- * Команде необходимо нарисовать картину, используя только математические фигуры, знаки, цифры и т.д.



6. Конкурс «весёлые нотки»

Каждая команда должна спеть песню, в которой есть числительные. Учитывается как правильный выбор песни, так и качество исполнения.



7. Конкурс « угадай-ка»

Команде предлагается решить ребусы.



8.Конкурс болельщикам

Задачи

1. (1 очко) на одной чаше весов кирпич, а на другой – половина такого же кирпича и гиря в 1 кг. Весы находятся в равновесии. Сколько весит кирпич?



[2к2]

2 . (1 очко) в комнате 4 угла. В каждом углу сидит кошка. Напротив каждой кошки по три кошки. На хвосте каждой кошки по одной кошке. Сколько же всего кошек в комнате?



[4 кошки]

3. (2 очка) имеется кусок сукна длиной 16м, от которого каждый день отрезают по 2 м. по истечении скольких дней отрежут последний кусок?



[7дней]

4 .(2 очка) у отца 6 сыновей. Каждый сын имеет одну сестру. Сколько всего детей у отца?



[7 детей]

5. (2 очка) разделить 5 яблок между пятью детьми так, чтобы каждый получил по яблоку и одно яблоко осталось в корзине?

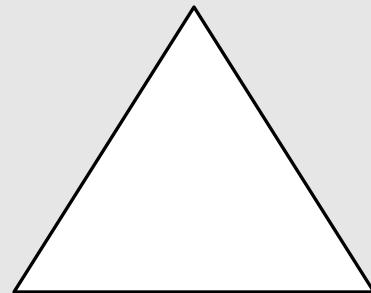

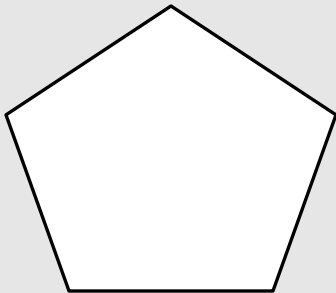
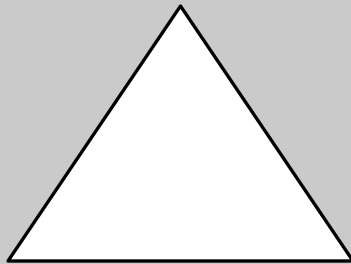

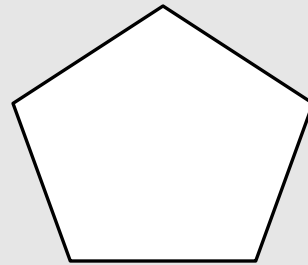

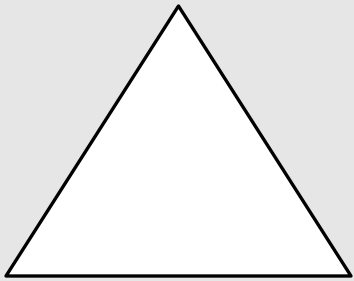


[Четырём детям раздать по яблоку, а пятому отдать яблоко в корзине]

Конкурс «Смотри не ошибись.»



Посмотрите на таблицу в течение 30 секунд. Все что запомнили, воспроизведите в своей таблице.



Составьте новые слова из
слова



математика




Давайте поиграем

Каждой руке свое дело



6. Конкурс «Борьба за цифру»



Исправьте ошибку в спичечной записи,
переложив всего одну спичку

1) VI – IV = IX

2) IX – V = VI

3) VIII – III = X

ответ: 1) V+IV=IX

ответ: 2) X-IV=VI

ответ: 3) VIII+II=X



КОНКУРС

**Вспомнить загадки и пословицы с математическим
СМЫСЛОМ**



Конкурс «домашнее задание»



Итоги конкурсов. Награждение.

