

Работа над ошибками. Сотня

УРОК № 10

УСТНЫЙ СЧЁТ



Назови соседей
чисел.

21

87

45

90

21

79

Сколько десятков в данных
числах?



91

37

65

90

25

70

Сосчитай, назови ответы.



$$40 + 3 =$$

$$20 + 2 =$$

$$30 - 1 =$$

$$90 - 2 =$$

$$70 - 1 =$$

$$80 - 1 =$$

$$34 + 1 =$$

$$94 - 1 =$$

СКОЛЬКО ММ В ...?



5 CM 3 CM 7 CM

4 CM 5 MM

7 CM 8 MM

9 CM 1 MM

СКОЛЬКО СМ В ...?



60 мм

30 мм

50 мм

5 дм

8 дм

3 дм

У Саши в саду было 8 яблонь, а груш на 2 меньше.

Сколько было груш в саду?

6 груш

$$8 - 2 = 6 \text{ (гр.)}$$

Сколько было всего вместе груш

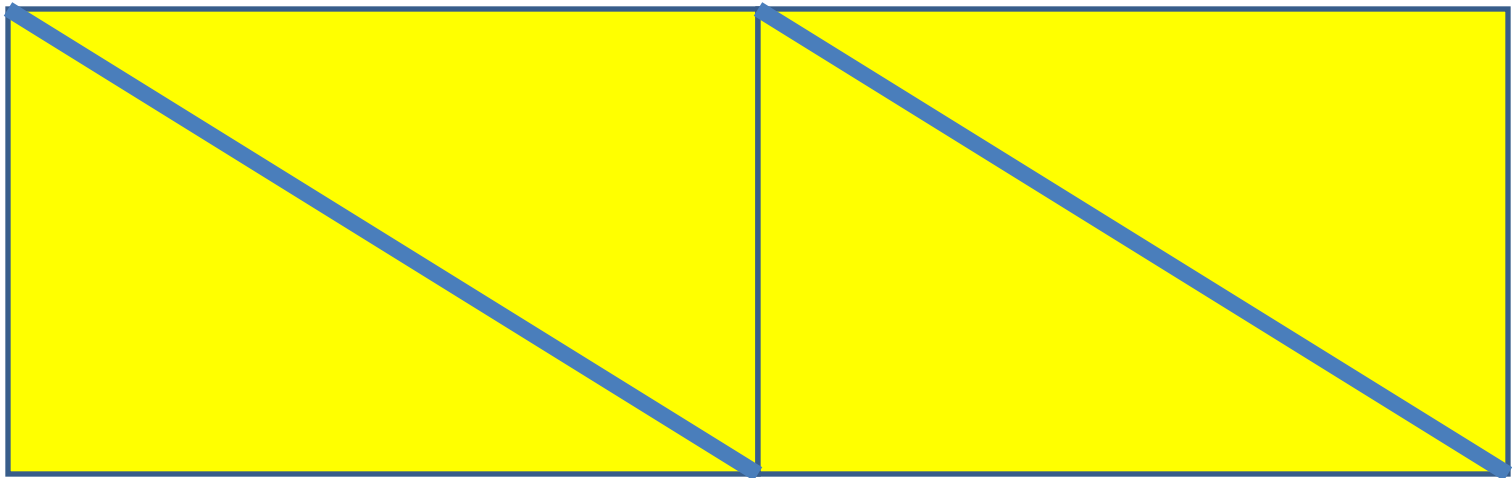
и яблонь в саду?

14

$$8 \text{ деревьев} + 6 = 14 \text{ (д.)}$$



Сколько четырёхугольников на рисунке?



6

ЗАДАНИЯ НА СМЕКАЛКУ




В первом поддоне не хватает **4** яйца, а во втором таком

же **2** яйца. В каком поддоне яиц больше?



Во втором больше

Зайчонок пересёк поляну за **5** прыжков, а лягушонок эту поляну за **4** прыжка. У кого из них прыжок длиннее?




У лягушонка

Повар разрезал палку колбасы, сделав 4
разреза.



Сколько кусков колбасы получилось?



5 кусков

конец