



5



7



3



# Углы. Градусное измерение углов. Виды углов.

*МКОУ «Краснинская школа  
интернат»,  
Ленинск – Кузнецкий район,  
Кемеровская область  
Черепанова Елена Николаевна,  
учитель математики.*

Тест по математике для 8 класса  
СКОШ VIII вида.



Угол  $125^\circ$  - ?

острый

Молодец!



тупой

Подумай  
ещё!



прямой



5



7




3



# Какой угол больше прямого?

острый

Молодец!



тупой

Подумай  
ещё!



прямой



5



7



3



Какой угол находится  
между прямым и  
развёрнутым?

$60^\circ$

Молодец!



$100^\circ$

Подумай  
ещё!



$80^\circ$



5



7



3



Сколько градусов  
составляет полный угол?

90°

Молодец!

80°

Подумай  
ещё!

360°



5



7



3



Сколько градусов  
составляет развёрнутый  
угол?

180°

Молодец!



120°

Подумай  
ещё!



90°



5



7



3



Угол  $20^\circ$  - ?

острый

Молодец!



тупой

Подумай  
ещё!



прямой



5



7



3



Угол  $90^\circ$  - ?

острый

Молодец!



тупой

Подумай  
ещё!



прямой



5



7



3





# Любой тупой угол




Молодец!



меньше  $90^\circ$

больше  $90^\circ$

Подумай  
ещё!



равен  $90^\circ$



5



7



3




# Любой острый угол



Молодец!

меньше  $90^\circ$



больше  $90^\circ$

Подумай  
ещё!



равен  $90^\circ$



5



7



3





5



7



3



## Интернет – источники:

[http://pedsovet.su/\\_id/296/35939792.jpg](http://pedsovet.su/_id/296/35939792.jpg)

<http://fantasyflash.ru/anime/index.php?kont=milash&n=3>

<http://fantasyflash.ru/anime/index.php?kont=milash&n=10>

## Литература:

Залялетдинова Ф. Р. Нестандартные уроки в коррекционной школе: 5 – 9 классы. – М.: ВАКО, 2007. -128с. – (Мастерская учителя)