



Натуральные числа.5 класс

Жернова Т.А.

МКОУ «Пешковская средняя
школа»

Математический диктант

1. Сколько сотен в числе 2961?
2. Запишите цифрами число триста сорок восемь тысяч пять.
3. Является ли число 0 натуральным числом?
4. Пять миллиардов сто миллионов два.
5. Запишите неравенство: 10 больше 7.
6. Сравните числа 3782 и 3702.
7. Запишите все натуральные числа, которые больше 12, но меньше 15.

Укажите в предложенных рядах
чисел натуральный ряд.

А) 1, 3, 5, 7...

Б) 0, 1, 2, 3...

В) 1, 2, 3, 4...

Укажите числа, расположенные в порядке убывания:

А) 375; 100; 83; 41.

Б) 10; 30; 53; 71.

В) 632; 82; 4; 20.



Среди данных чисел укажите
пятизначные и прочитайте их:

5678	4	53209	12704		
5679		345	670		32
5680	1	90546	8709	12	17054



Запишите цифрами число:

1. Два миллиона сто восемьдесят три тысячи пять;
2. Один миллиард пять тысяч пять;
3. Триста миллиардов сорок миллионов семьдесят три тысячи один;
4. Одиннадцать миллиардов восемнадцать миллионов три тысячи тридцать три.

Выбери и укажи правильный вариант ответа

4т 20 кг

4200кг

4020кг

4002кг

5430 г

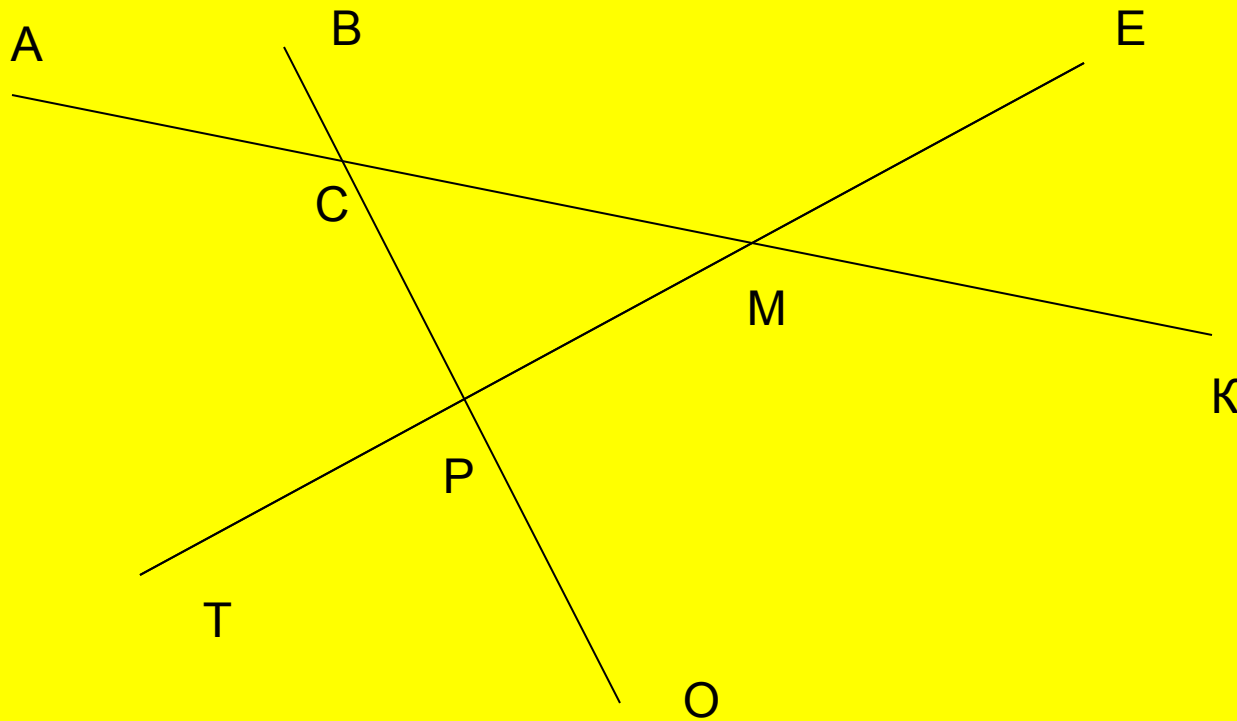
54кг30г

5кг430г

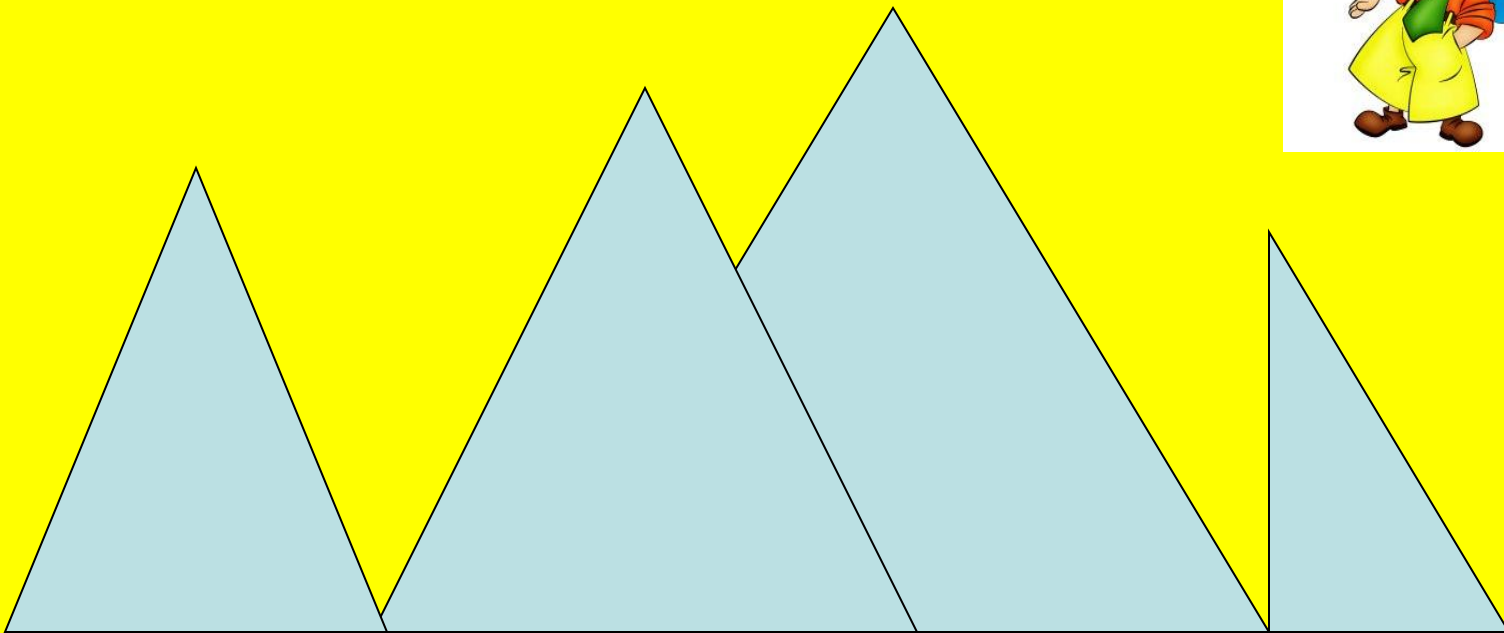
5кг43г



На сколько частей прямые АК,
ВО, ТЕ делят плоскость?



Сколько на рисунке
треугольников?



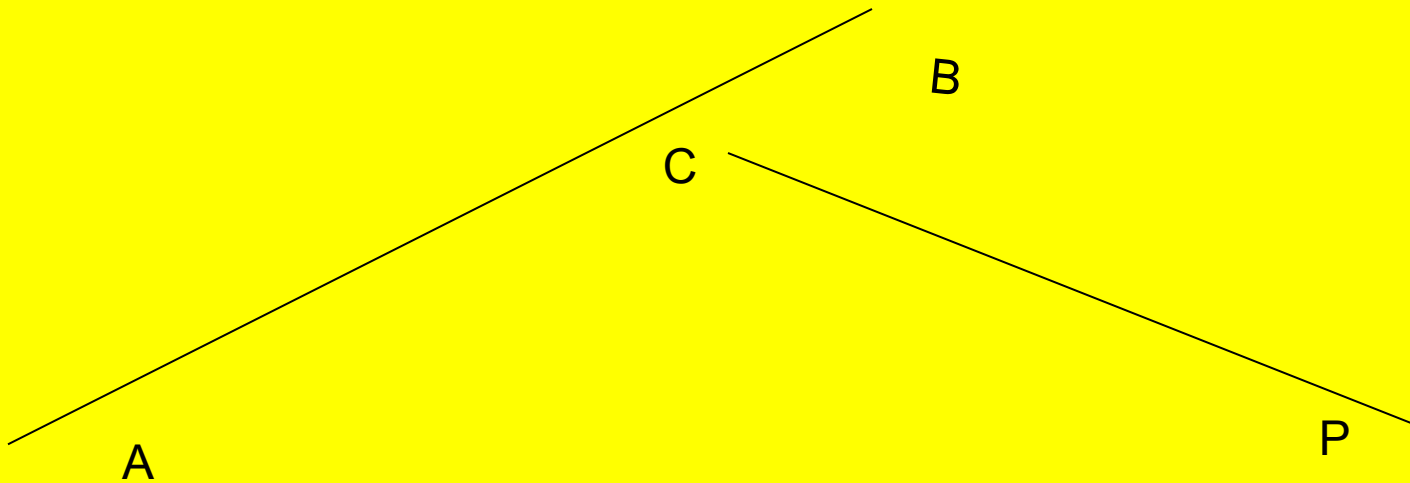
Выбери и укажи правильный

ответ:

В

А) прямые АВ и СР пересекаются

Б) прямые АВ и СР не пересекаются



Какая из точек А и В лежит левее на координатном луче:

1. А(2) или В(7)
2. А(13) или В(31)
3. А(1) или В(0)
4. А(567) или В(576)
5. А(1990) или В(1989)
6. А(283) или В(265)



Как с помощью двойного неравенства записать, что число 10 больше, чем 8, и меньше, чем 13?

$$10 > 8 > 13$$

$$13 > 10 > 8$$

$$10 > 8 < 13$$

$$8 < 10 < 13$$

А теперь пройдите тест. Удачи!

- Образовательные тесты. Тест «Натуральные числа и шкалы»

<http://testedu.ru/test/matematika/5-klass/naturalnyie-chisla-i-shkalyi.html>

