

Математика



Разгадай шифр

З	Е	Н	А	Л	К	И	Р	Е	П	Е
100-40	3+2+3	39-19	15+16	50-10	35+15	28-23	49-25	9-4-2	60+30	78-22

Прочитай зашифрованное слово:

60 31 50 24 8 90 5 3 20 40 56

закрепление



Вычисляем в пределах десятка



1 2 3 4 5 6


7 8 9 0

Записываем числа

Решаем задачи



Считаем десятки





Сравниваем числа

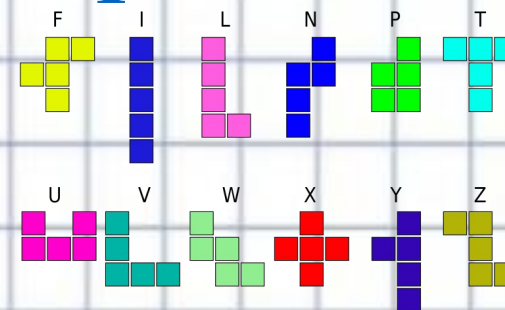
меньше

равно

больше

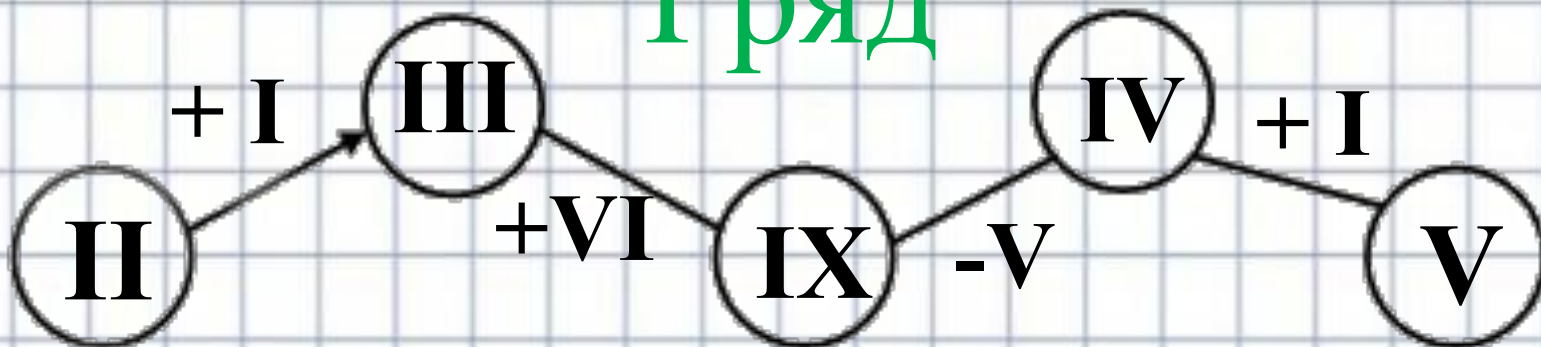


Семь раз отмерь



Сосчитай по цепочке

I ряд



II ряд



III ряд



Дополни до ближайшего десятка

I ряд

76+

23+

6+

II ряд

43+

57+

9+

III ряд

86+



2+

35+


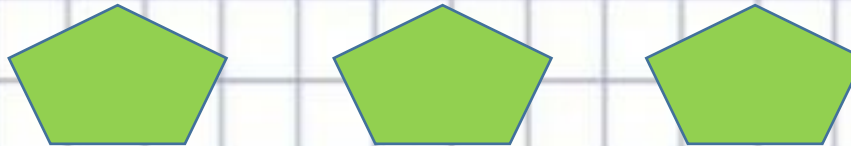



Назовите нарисованные числа цифрами

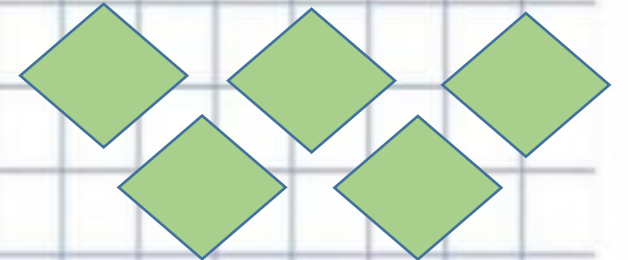

I ряд



II ряд



III ряд



Найдите верные и неверные
неравенства

I ряд

$23=35$

$56 > 49$

$76 < 67$

II ряд

$48 > 84$

$36=46$

$23 < 93$

III ряд


$50=50$

$56 > 97$

$12 < 2$



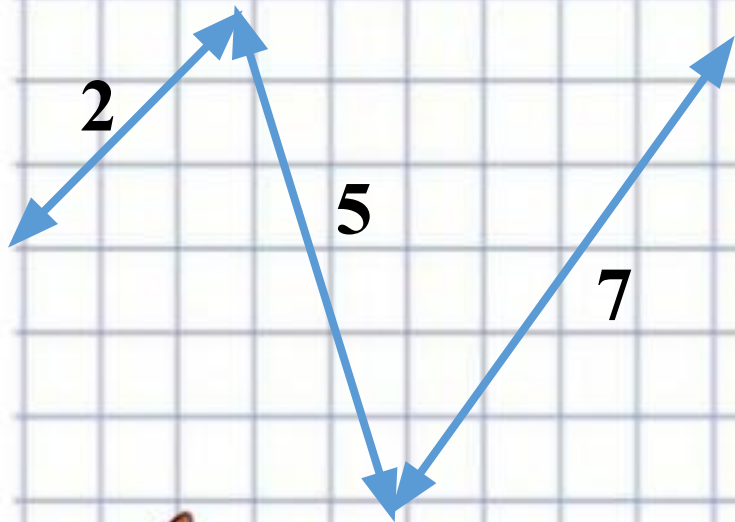
В зоопарке было 12 кроликов и 15 уток.
Сколько кроликов и уток было в
зоопарке?



Назовите нарисованные числа цифрами

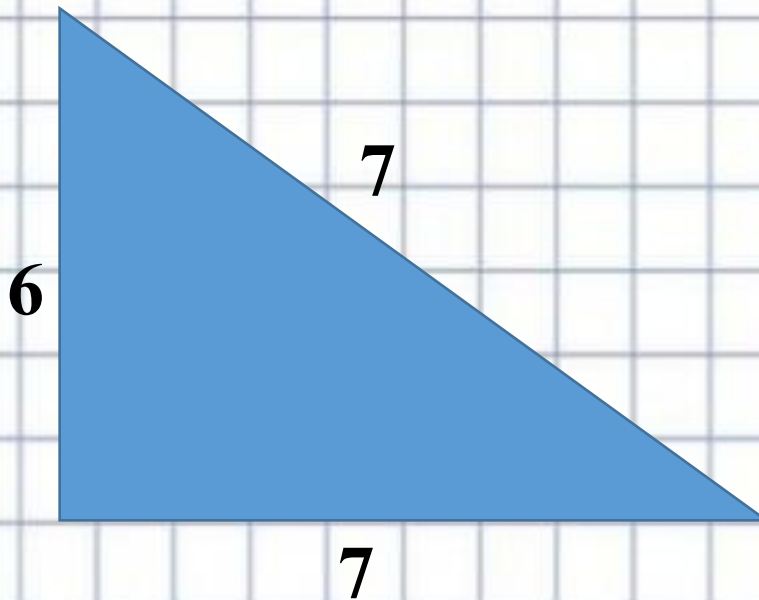
I ряд

Найдите длину
ломанной линии



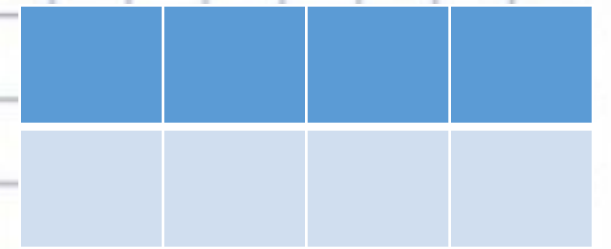
II ряд

Найдите периметр
фигуры



III ряд

Найдите
площадь фигуры



Продолжите предложения:

- ❖ Мне было интересно ...
- ❖ Мне понравилось ...
- ❖ Мне показалось трудным...

