

- Образец текста

**УРОК МАТЕМАТИКИ  
В 3 КЛАССЕ  
УМК « ПЕРСПЕКТИВА »  
ТЕМА УРОКА: « ЦЕНА ,  
КОЛИЧЕСТВО,  
СТОИМОСТЬ. »**



Составила : учитель начальных  
классов

Дзюба Ритта Васильевна




# ИГРА «


# ФОТОХОТ



45-30




48-30



9:3




39-30



15:3



30:3



60-30



18:3



4. Цена карандаша 6 р. Сколько таких карандашей можно купить на 18 р.?

| цена  | количество | стоимость |
|-------|------------|-----------|
| 6 руб | ?          | 18 руб    |

$$K = C : \text{Ц}$$

| цена | количество | стоимость |
|------|------------|-----------|
| ?    | 3 к.       | 18 руб    |

$$\text{Ц} = C : K$$

| цена  | количество | стоимость |
|-------|------------|-----------|
| 6 руб | 3 к.       | ?         |

$$C = \text{Ц} * K$$





2. Запиши выражения столбиком и выполни вычисления.

$74 - 24$

$56 + 39$

$81 - 35$

$60 - 19$

$72 - 27$

$$\begin{array}{r} 74 \\ - 24 \\ \hline 50 \end{array}$$

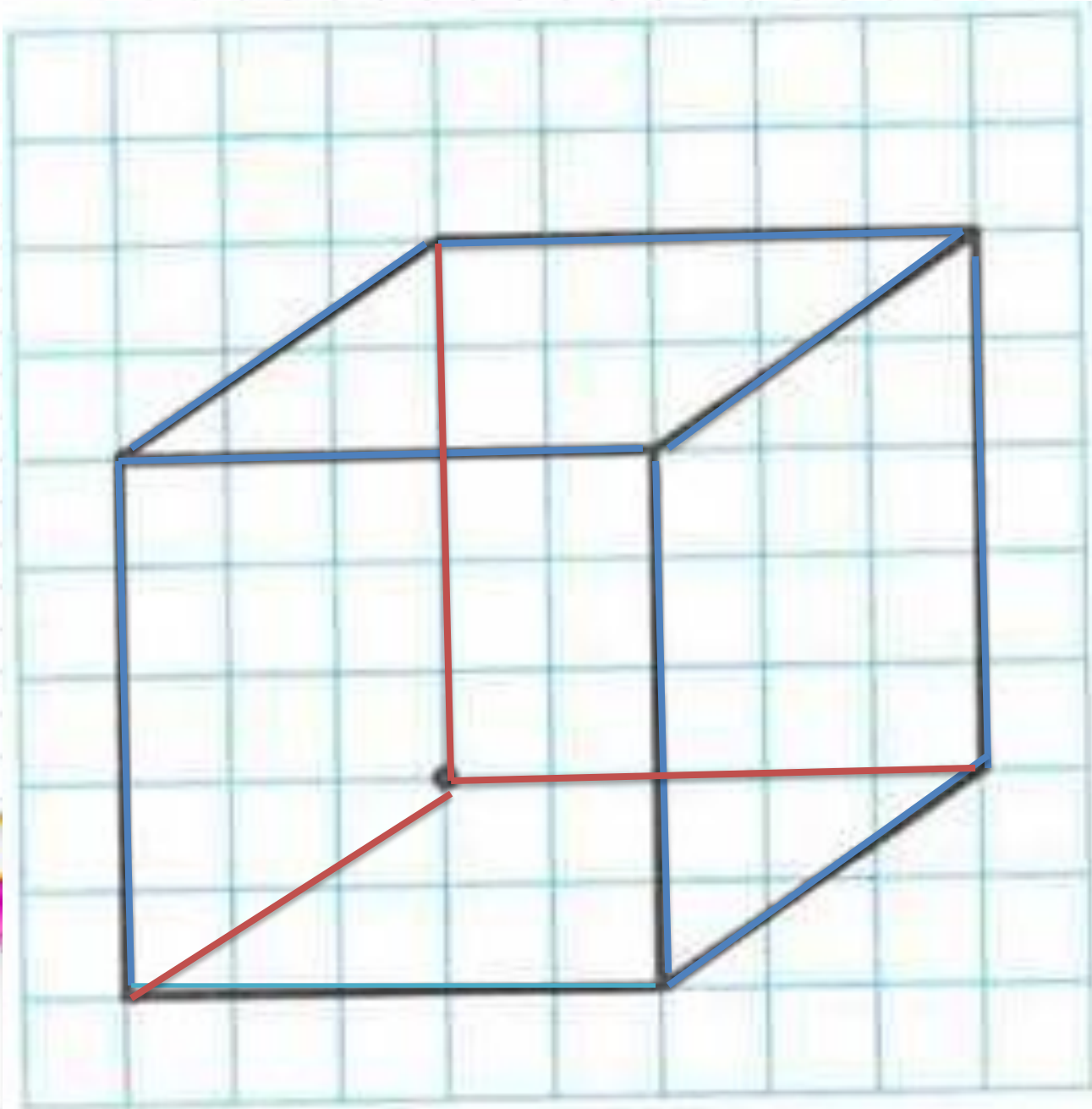
$$\begin{array}{r} 56 \\ + 39 \\ \hline 95 \end{array}$$

$$\begin{array}{r} 81 \\ - 35 \\ \hline 46 \end{array}$$

$$\begin{array}{r} 60 \\ - 19 \\ \hline 41 \end{array}$$

$$\begin{array}{r} 72 \\ - 27 \\ \hline 45 \end{array}$$





*www.4ka.ru*

6. В трёх коробках было 18 пирожных, во всех поровну. Из двух коробок пирожные выложили в вазу.

Объясни, что означают следующие выражения:

$$18 : 3$$

$$(18 : 3) : 2$$

$$18 - 18 : 3$$

**$18 : 3 = 6$**  - в одной коробке пирожных



**$(18 : 3) : 2 = 3$**  пирожных из одной коробки получают 2 человека

**$18 - 18 : 3 = 12$**  - пирожных останется в двух коробках.

**3.** Вычисли значения выражений.

$$54 - (47 - 9) = 16$$


$$70 - (28 + 27) = 15$$

$$81 - (8 + 59) = 14$$

$$12 : 3 \cdot 4 = 16$$

$$20 : 4 \cdot 3 = 15$$

$$2 \cdot (14 : 2) = 14$$











**Спасибо за внимание!**

**Домашнее задание: стр21 № 3 (3,4 столб.), стр. 22 № 7, учить таблицу**