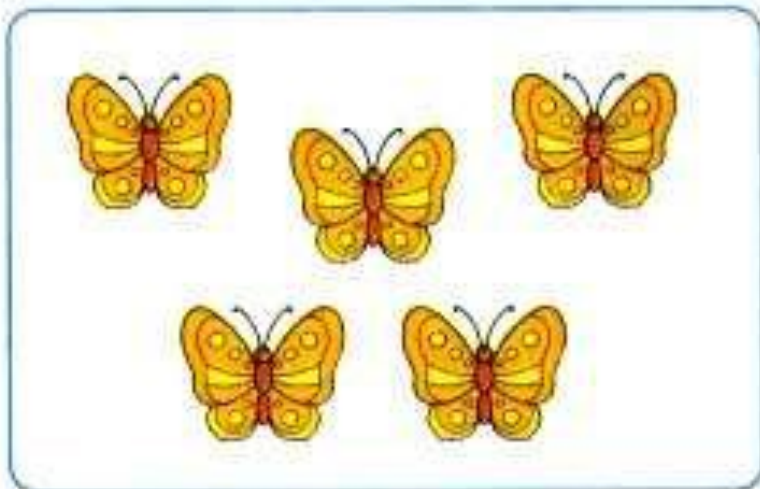



Увеличить на ... Уменьшить на ...

- Рассмотри рисунки. Рамку с равенством для перехода от рисунка слева к рисунку справа закрась жёлтым цветом, а от рисунка справа к рисунку слева зелёным.



$$7 - 2 = 5$$



$$5 + 2 = 7$$

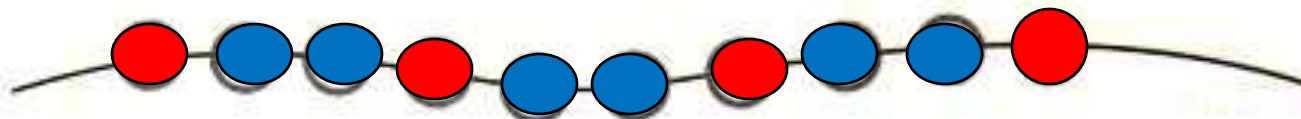
Увеличь на 1:

3	6	8	5	7
4	7	9	6	8

Уменьши на 1:

4	9	10	7	8
3	8	9	6	7

- Раскрась бусинки: одна — красная, две — синие, одна — красная, две — синие ...



Сколько красных бусинок?

Сколько синих бусинок?

Сколько всего бусинок?

Увеличь на 1:

6	8	1	3	9	0

Увеличь на 2:

2	0	3	1	5	8

Уменьши на 1:

10	8	6	1	9	7

Уменьши на 2:

4	2	5	3	10	6

$$8 + 1 = 9$$



Сделай рисунок к записи.

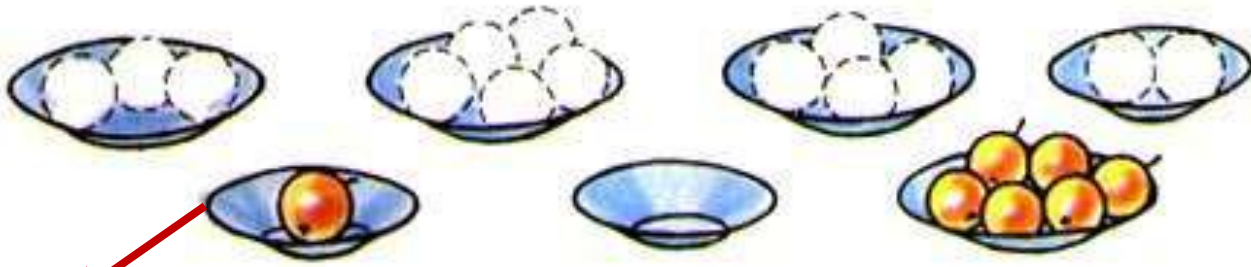
$$9 + 1 = 10$$




$5 - 2 < 4$

$6 + 1 > 5$

$9 + 1 = 10$



0 1 2 3 4 5 6 7 8 9 10



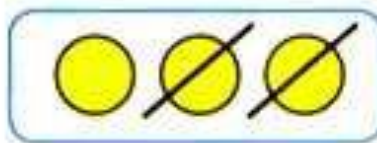
0 0 0 0 0 0 0

1, 2, 3, 4, 5, 6, 7, 8, 9, 10.


- Используя рисунки, запиши в окошки нужные числа.



$$\boxed{3} - \boxed{1} = \boxed{2}$$



$$\boxed{3} - \boxed{2} = \boxed{1}$$



$$\boxed{3} - \boxed{3} = \boxed{0}$$

- Измерь отрезок и запиши его длину.



8 см

На сколько сантиметров надо увеличить длину отрезка, чтобы получить отрезок длиной 9 см?

На **1** см. Начерти этот отрезок.

