




# Урок математики





Заполни  
таблицу

Уменьшаемое	8	9	5	9	10	9
Вычитаемое	2	3	3	5	1	6
Разность	6	6	2	4	9	3










# Тема урока



				<b>л</b>	<b>е</b>	<b>й</b>	<b>к</b>	<b>а</b>
<b>ч</b>	<b>а</b>	<b>й</b>	<b>н</b>	<b>и</b>	<b>к</b>			
			<b>с</b>	<b>т</b>	<b>а</b>	<b>к</b>	<b>а</b>	<b>н</b>
	<b>в</b>	<b>е</b>	<b>д</b>	<b>р</b>	<b>о</b>			

# Литр

1. Чем похожи и чем отличаются кувшин и чашка на рисунке ?



? Где помещается больше воды?



2. Куда больше вместится воды?



3. Сколько воды вмещается в бочонок?



3. Рассмотрй рисунок и ответь на вопрос .  
- Сколько вёдер воды помещается в бочонке?



1 ведро

3. Рассмотрй рисунок и ответь на вопрос.  
- Сколько вёдер воды помещается в бочонке?



2 ведра

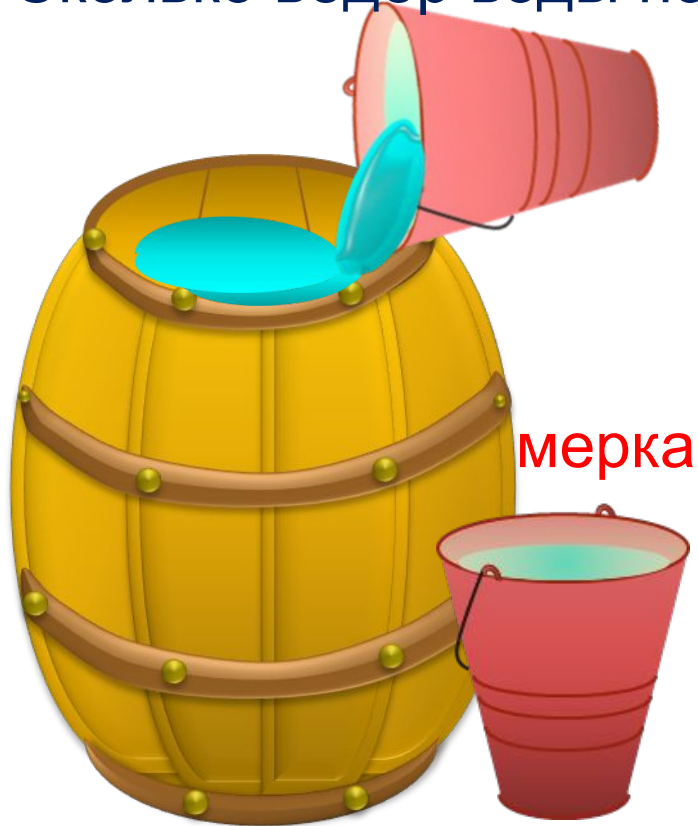
3. Рассмотрй рисунок и ответь на вопрос.

- Сколько вёдер воды помещается в бочонке?




3 ведра

3. Рассмотрй рисунок и ответь на вопрос .  
- Сколько вёдер воды помещается в бочонке?



3 ведра

3. Рассмотрй рисунок и ответь на вопрос .  
- Сколько вёдер воды помещается в бочонке?



1 бочонок = 5 вёдер

3. Рассмотрни рисунок и ответь на вопрос .  
- Сколько вёдер воды помещается в бочонке?



1 бочонок = 5 вёдер

! Вместимость можно измерить и результат измерения записать с помощью числа.



4. Вместимость этого бочонка измерили банкой. Сколько банок воды помещается в бочонке?



1 бочонок = 5 вёдер

4. Объём этого бочонка измерили банкой. Сколько банок воды помещается в бочонке?



1 бочонок = 10 банок  
1 бочонок = 5 вёдер

4. Объём этого бочонка измерили банкой. Сколько банок воды помещается в бочонке?



1 бочонок = 10 банок

1 бочонок = 5 вёдер

? Что нужно сделать, чтобы выполнить это задание?

**Выбрать одинаковую мерку!**


мерка



мерка



! Одна из мерок объёма - 1 литр (л).



6. Выполни теперь задание Пети. В одну банку входит 1 литр воды, а в другую – 3 литра. Какая банка больше?

**! Одна из мерок вместимости - 1 литр (л).**

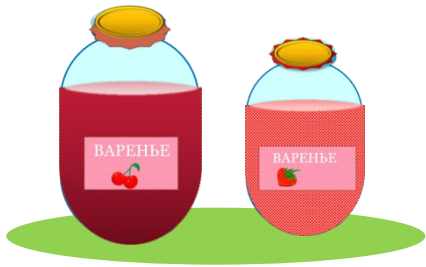


1 л  3 л

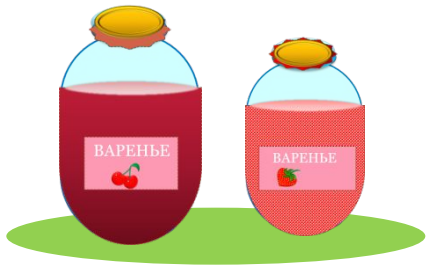
---

> = <

7. Мама сварила **5 л** вишнёвого варенья и **3 л** клубничного.  
Сколько всего литров варенья сварила мама?



7. Мама сварила 5 л вишнёвого варенья и 3 л клубничного.  
Сколько всего литров варенья сварила мама?



5 л    3 л

$$5 + 3 = 8 \text{ (л)}$$

Ответ: 8 л всего.



**Работа по учебнику  
на стр. 38, №5**



