
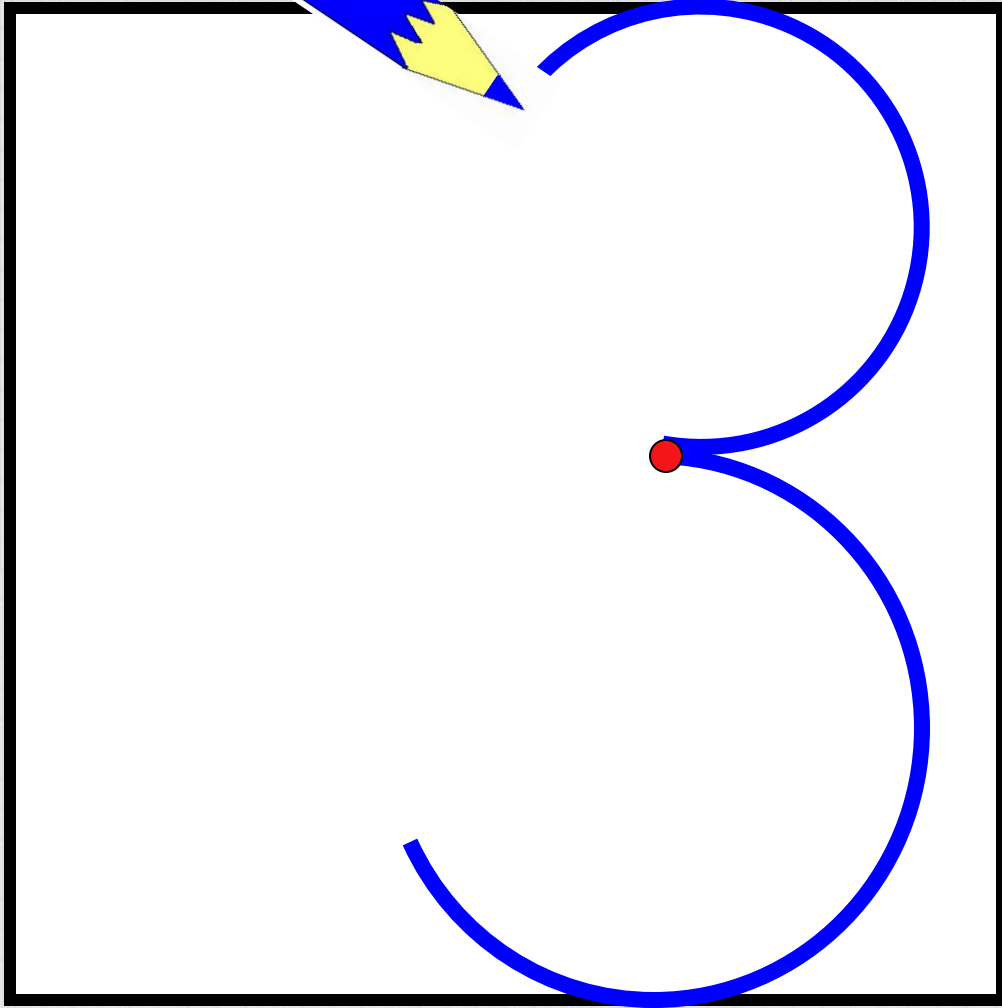
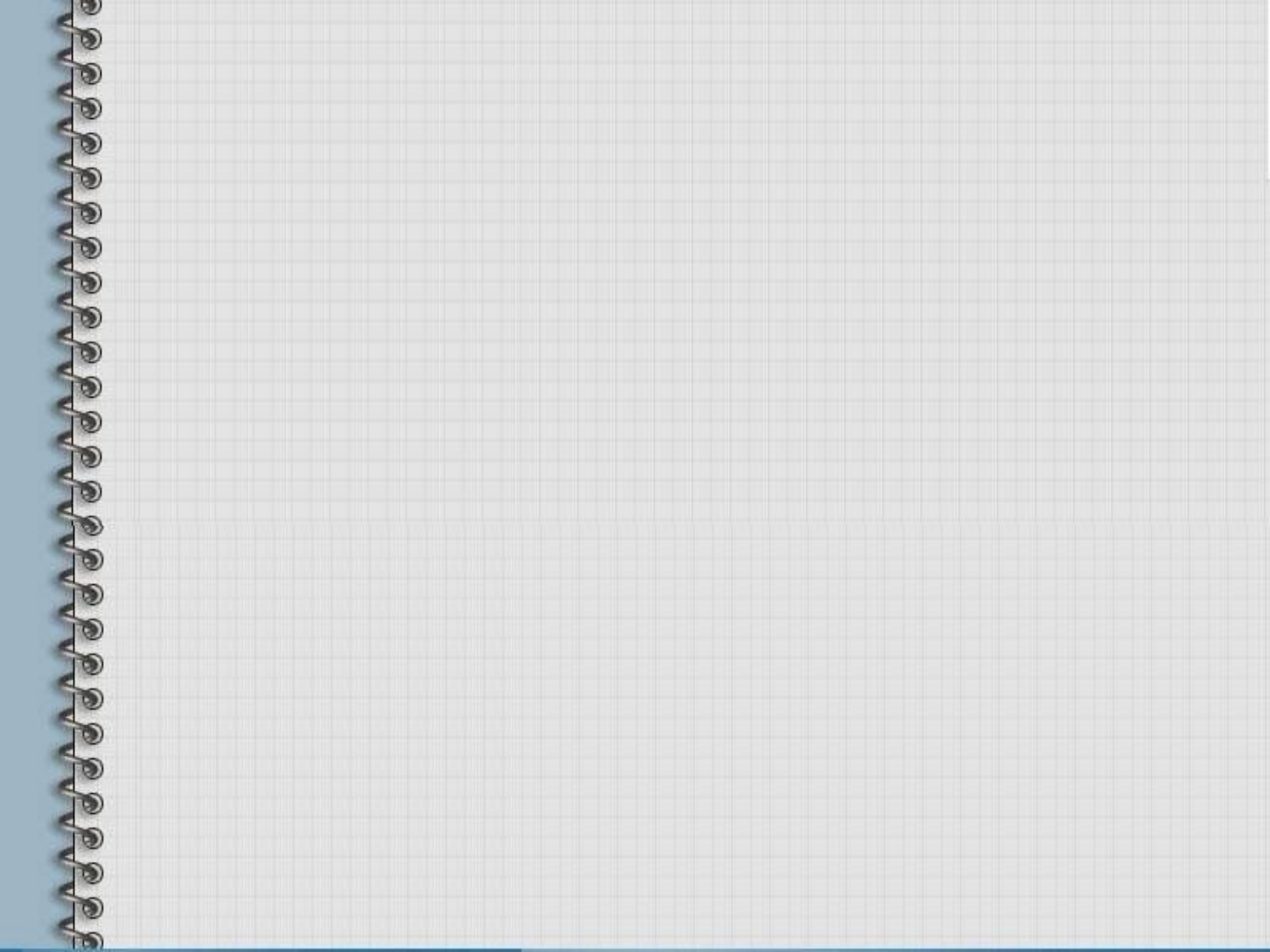


*14 февраля*



*14 февраля*

*З З З З З З З З З З З З З З З*







# ТРИ ТОЛСТЯКА









$$2 + 1 = 3$$

$$3 + 1 = 4$$

$$4 + 2 = 6$$

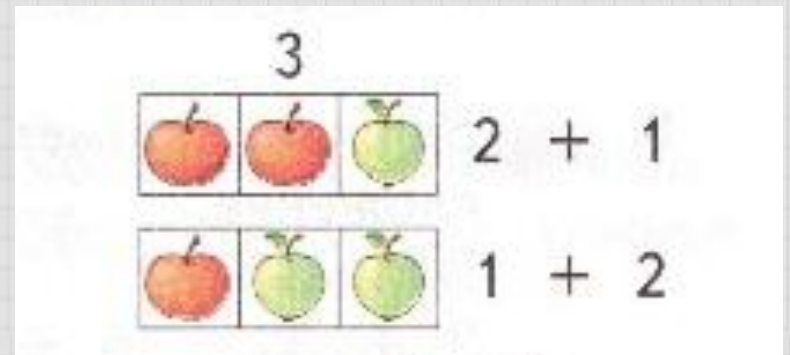
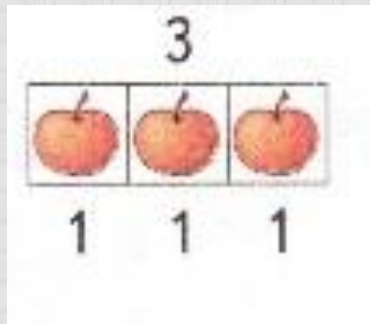
$$5 + 2 = 7$$

$$6 + 3 =$$





# Как сложить число 3 разными способами


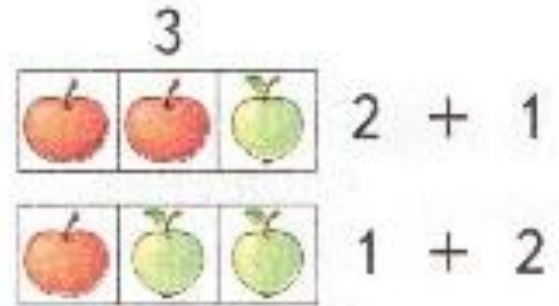
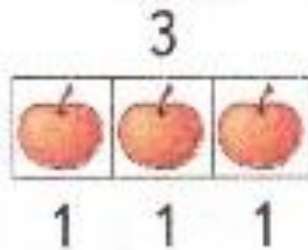






Откройте учебник на странице 47  
и выполните № 1.

1. Объясни, как можно к числам прибавлять число 3.



*Прибавим к числу 6  
число 3 разными способами*

$$6 + \begin{array}{l} \diagup +1 \\ \diagdown +2 \end{array} = 9$$

$$6 + 1 + 1 + 1 = 9$$

$$6 + \begin{array}{l} \diagup +2 \\ \diagdown +1 \end{array} = 9$$















Запиши в рабочую тетрадь  
и реши.

$$4 + 3 = 7$$



*1 4 февраля*

*3 3 3 3 3 3 3 3 3 3 3 3 3 3 3*

$$4 + 3 = 7$$



Запиши в рабочую тетрадь  
и реши.

$$4 + 3 = 7$$

$$7 + 3 = 10$$





*14 февраля*

*3 3 3 3 3 3 3 3 3 3 3 3 3 3 3*

$$4 + 3 = 7$$

$$7 + 3 = 10$$

Запиши в рабочую тетрадь  
и реши.



$$4 + 3 = 7$$

$$7 + 3 = 10$$

$$2 + 3 = 5$$



*14 февраля*

*3 3 3 3 3 3 3 3 3 3 3 3 3 3 3*

$$4 + 3 = 7$$

$$7 + 3 = 10$$

$$2 + 3 = 5$$





Решите задачу.

Мишка утром собрал  
5 банок меда,  
а вечером еще 3.

Сколько всего банок мёда  
собрал мишка?



*14 февраля*

3 3 3 3 3 3 3 3 3 3 3 3 3 3 3

$$4 + 3 = 7$$

$$7 + 3 = 10$$

$$2 + 3 = 5$$



$$5 + 3 = 8 \text{ (б.)}$$

*Ответ:*