

Урок математики

1 «А» класс

Учитель: Гайтурова Т.А.

Вспомни состав числа

$$8 = 6 + 2$$

$$4 = 2 + 2$$

$$5 = 3 + 2$$



Каллиграфическая минутка



У Кати было 4 куклы, ей
подарили еще 2 куклы.

Сколько кукол стало у Кати?






$$4 + 2 = 6$$

У Вали было 6 игрушечных самолетов,
2 сломалось.

Сколько самолетов осталось?




$$6 - 2 = 4$$

Присчитывание и отсчитывание по 2



Условие

Вопрос

Решение

Ответ

**было 4 красных
мяча и 2 синих**

**Сколько всего
мячей стало?**


$$4 + 2 = 6$$

$$4 - 2 = 2$$

$$4 + 2 = 7$$

ФИЗМИНУТКА

Буратино потянулся,
Раз- нагнулся, два-
нагнулся,
Руки в стороны развел
Видно ключик не нашел.
Чтобы ключ ему достать,
Надо на носочки встать.
Крепче Буратино стой,
Вот он – ключик золотой



Молодцы!