



# 19 ноября

## Математика





1. Запиши число : тридцать одна тысяча девяносто девять.
2. Запиши его предыдущее и последующее число.
3. Представь число 7909 в виде суммы разрядных слагаемых.
4. Запиши число, где 8тыс. 3сот. 5дес. 4ед.
5. Уменьши 700 000 в 100 раз.
6. Сравни 400см и 40дм.
7. Вычисли площадь прямоугольника со сторонами 60см и 10см.
8. Вычисли периметр данного прямоугольника.
9. Замени сумму числом:  $60000+700+4$ .
10. Запиши, сколько всего десятков в числе 70032.

**31099      31100,31098      7000+900+9      8354**

**7000    =    600<sub>кв.см</sub>    140<sub>см</sub>    60704    7003**

## ЕДИНИЦЫ ВРЕМЕНИ

$$1 \text{ мин} = 60 \text{ с}$$

$$1 \text{ ч} = 60 \text{ мин}$$

$$1 \text{ сут} = 24 \text{ ч}$$





## ЕДИНИЦЫ ДЛИНЫ

$$1 \text{ см} = 10 \text{ мм}$$

$$1 \text{ дм} = 10 \text{ см}$$

$$1 \text{ м} = 10 \text{ дм}$$

$$1 \text{ м} = 100 \text{ см}$$

$$1 \text{ км} = 1000 \text{ м}$$



A cartoon illustration of a man in a grey suit and pink tie, pointing with his right hand towards a large white scroll. The scroll is held up by a hand at the top center. The background is a blue grid pattern.

## ЕДИНИЦЫ ВЕСА

$$1 \text{ кг} = 1000 \text{ г}$$

$$1 \text{ ц} = 100 \text{ кг}$$

$$1 \text{ т} = 1000 \text{ кг}$$

$$1 \text{ т} = 10 \text{ ц}$$





# Исправь ошибки

1 650 см = ~~16~~ ~~мм~~ ~~650~~ ~~см~~

4 ч 15 мин = ~~4~~ ~~15~~ ~~мин~~


7 дм 5 см    75 см

3 т = ~~3000~~ ~~кг~~



# Задача.

За I квартал года строители сдали **3 дома**, по **300 квартир** в каждом доме. Во II квартале им нужно сдать **в 2 раза больше**, чем сдано в I квартале. **Сколько всего** квартир сдадут строители за два квартала этого года.

I кв. 3 д. по 300 кв.  } **? кв.**  
II кв. В 2 раза б.



- 1)  $300 \cdot 3 = 900$  (кв.) – в I квартале
- 2)  $900 \cdot 2 = 1\,800$  (кв.) – во II квартале
- 3)  $900 + 1\,800 = 2\,700$  (кв.) – всего

**Ответ: всего сдадут 2 700 квартир.**



16

кг



13

кг

8

кг








# Задача.

16  
кг



13

8  
кг

- 1)  $16 - 8 = 8$  (кг) — весит тыква
- 2)  $13 - 8 = 5$  (кг) — весит арбуз
- 3)  $16 - 13 = 3$  (кг) — весит дыня

Ответ: 8 кг весит тыква, 5 кг весит арбуз, 3 кг весит  
дыня.