

# МАТЕМАТИКА

## 3 класс



9 м

? м<sup>2</sup>

6 м

Пукова Светлана Александровна  
учитель начальных классов МБОУ  
«Полянская СШ»

*Двадцать девятое ноября*  
*Классная работа*



$$35 \xrightarrow{:7} \textcircled{5} \xrightarrow{+22} \textcircled{\begin{matrix} 2 \\ 7 \end{matrix}} \xrightarrow{:9} \textcircled{3} \xrightarrow{*10} \textcircled{\begin{matrix} 3 \\ 0 \end{matrix}} \xrightarrow{-5} \boxed{25}$$

$$45 \xrightarrow{:5} \textcircled{9} \xrightarrow{*6} \textcircled{\begin{matrix} 5 \\ 4 \end{matrix}} \xrightarrow{+18} \textcircled{\begin{matrix} 7 \\ 2 \end{matrix}} \xrightarrow{:8} \textcircled{9} \xrightarrow{+16} \boxed{25}$$

$$81 \xrightarrow{:9} \textcircled{9} \xrightarrow{*5} \textcircled{\begin{matrix} 4 \\ 5 \end{matrix}} \xrightarrow{-25} \textcircled{\begin{matrix} 2 \\ 0 \end{matrix}} \xrightarrow{:2} \textcircled{\begin{matrix} 1 \\ 0 \end{matrix}} \xrightarrow{:10} \boxed{1}$$



# Сравни


8см5мм ... 85мм

2м3дм ... 32дм


1) >

2) <


3) =



# Срани площади фигур



$S_1$



$S_2$

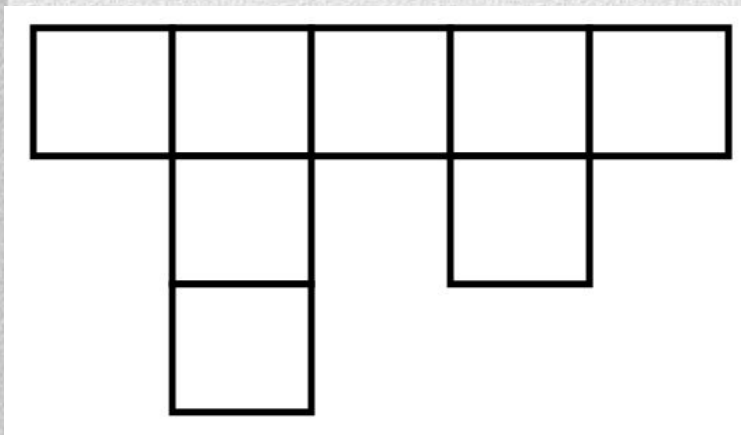
меньше

больше

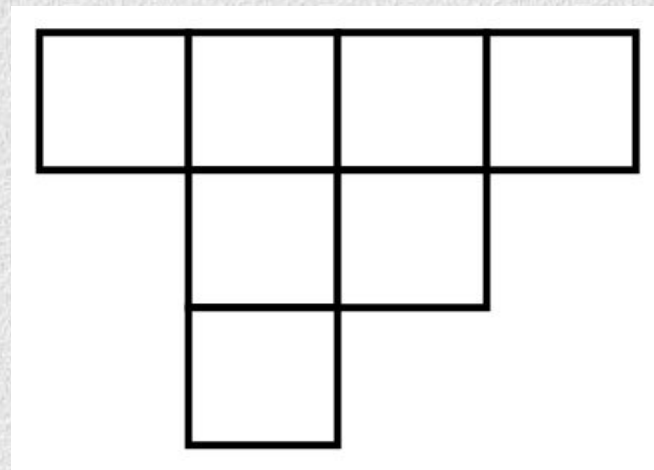
равно



# Сравни площади фигур



$S_1$



$S_2$

меньше

больше

равно



# Сколько $\text{см}^2$ в фигуре



$\text{см}^2$

5

4

7

3

6





$1\text{ дм}^2$

?

$1\text{ см}^2$

$1\text{ см}^2$

$1\text{ дм}^2$

?





# Найти лишнее

Килограмм, центнер, тонна,  
грамм

квадратный метр

**КВАДРАТНЫЙ  
МЕТР**



1 M

1 M

1 M<sup>2</sup>

2 M<sup>2</sup>

8 M<sup>2</sup>


30 M<sup>2</sup>



1 дм

1 м  
↓

1 м



1 м



1 м

10 дм

1 кв. м

=

100 кв. дм

1 кв. м = 100 кв. дм





**Береги  
зрение!**



На плане 1 клетка = 1 м<sup>2</sup>



## Решение:

1)  $6 \times 9 = 54$  (м<sup>2</sup>)

площадь дома

2)  $8 \times 5 = 40$  (м<sup>2</sup>)

площадь сада

3)  $6 \times 2 = 12$  (м<sup>2</sup>)

площадь огорода

Найдите площадь всего участка,  
изображённого на плане.

4 м

4 м

Решение:

1)  $4 \times 4 = 16$  ( м ) занято  
капустой

2)  $2 \times 4 = 8$  ( м ) занято  
помидорами 2

3)  $4 \times 6 = 24$  ( м )<sub>2</sub> занято  
цветной капустой

4)  $16 + 8 + 24 = 48$  ( м )<sub>2</sub>  
площадь всего участка

Ответ: 48 м

4 м

2 м




**Что нового узнали на уроке?**





# Твоё настроение



*На уроке узнал новое,  
всё было понятно*



*На уроке было много непонятного, устал*



*Хочу ещё узнать что-нибудь  
о площади.*



**Окончен урок, и выполнен план.  
Спасибо, ребята, огромное вам.  
За то, что упорно и дружно трудились,  
И знания точно уж вам пригодились.**

