



Логика

Составила:
Чувакова Лариса Ивановна,
учитель начальных классов
МБОУ «Северская гимназия»
Томской области

Для следующего высказывания
«Только плохие люди обманывают
или крадут. Екатерина хорошая.»
выбери истинное умозаключение

Значит, Екатерина – девочка.

Значит, Екатерина любит
читать книги.

Значит, Екатерина
не обманывает.



Для следующего высказывания

«Некоторые кочаны капусты являются шарами. Некоторые шары умеют летать.»

выбери истинное умозаключение

Следовательно, некоторые кочаны капусты умеют летать.

Следовательно, некоторые шары являются капустой.

Следовательно, все шары умеют летать.



Для следующего высказывания

«Все школьники могут читать.

**Все дети старше семи лет
являются школьниками»**

выбери истинное умозаключение.

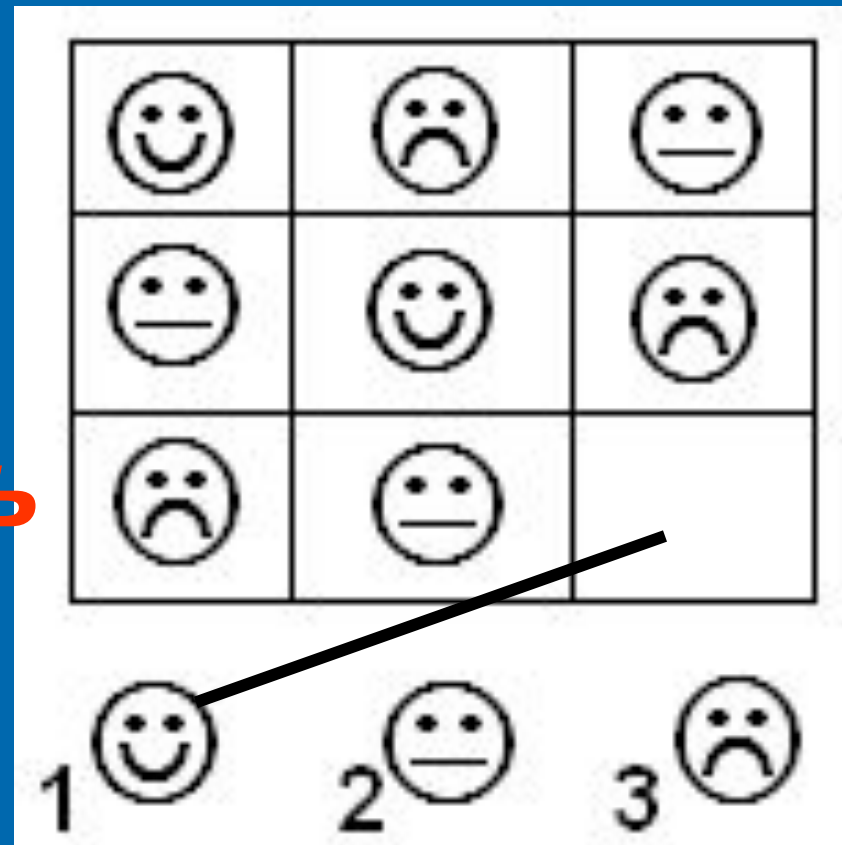
Некоторые дети могут читать.

**Все дети старше семи лет
могут читать.**

**Все дети, которые умеют
читать, являются школьниками.**



**Найди
закономерность
в размещении
смайликов в
таблице.**



**Какой смайлик должен быть
размещен в пустой клетке?**


**Слово, зашифрованное
в ребусе, означает:**



**устройство обработки
информации;**

**место размещения
микросхем;**


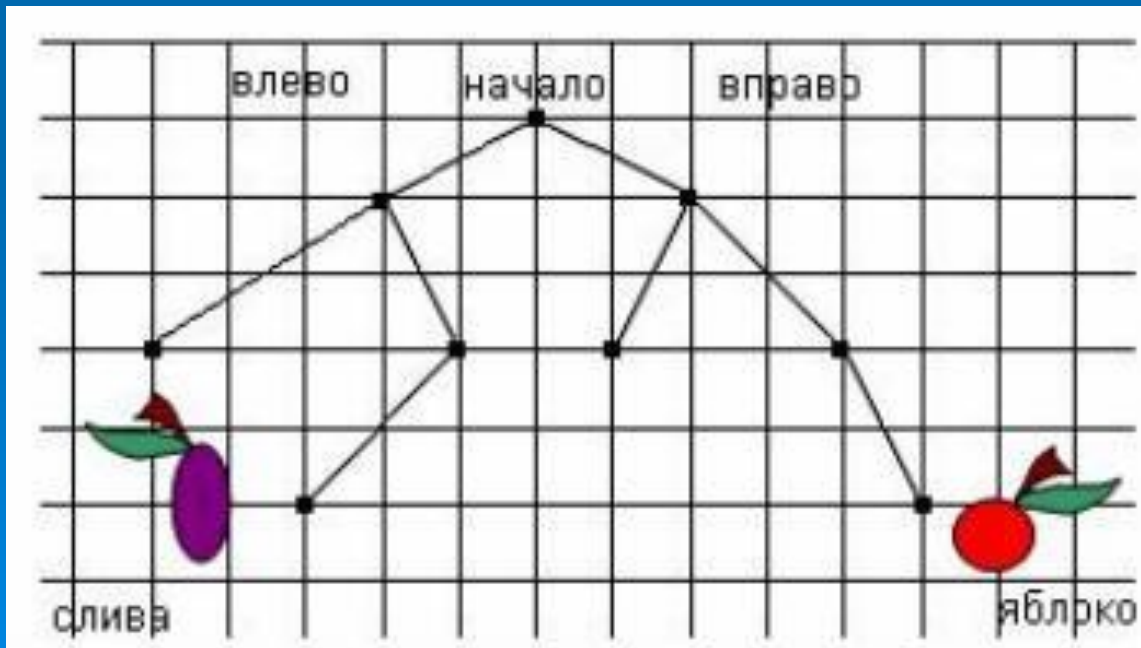
**устройство управления
компьютером.**



*В большой корзине лежали клубки с нитками, чтобы Герде и Каю связать новые носки.
Какого цвета носки свяжет бабушка Каю?*



Маленький Мук обнаружил на волшебном дереве яблоки и сливы. Ему была известна чудо-последовательность чисел, по которой определялся путь по веткам дерева: 0 - означал переход по левой ветке, а 1 - по правой ветке от одной к другой вершине. Выбери последовательность, по которой Маленький Мук доберется до сливы.



Неожиданно осветилась стена над камином, и Золушка увидела следующую надпись:

«ФПТЗСЯЛЫЬЪД СТУДЛЫЙЗ».

Помоги ей прочесть сообщение, если известно, что для его составления использовались 33 буквы, а само сообщение было искажено при прохождении через волшебный канал передачи информации одинаковым способом для каждой буквы.



«ФПТЗСЯЛЫЬЪД СТУДЛЫЙЗ».

МАЛЕНЬКИЙ ВОЛШЕБНИК

ПРИГОТОВЬСЯ ЗОЛУШКА

ХРУСТАЛЬНАЯ КАРЕТА

ХРУСТАЛЬНЫЕ ТУФЕЛЬКИ



1200*1400*png*1.6Mb

Антошка сорвал большой подсолнух и решил посчитать, сколько в подсолнухе семечек. Просчитав в первом, втором и третьем ряду, он заметил, что в каждом следующем ряду семечек было на 11 меньше, чем в предыдущем. Определи, сколько семечек окажется в 7 ряду, если в первом ряду их было 250 штук

