

Урок математики по теме: «Определение времени по часам»

Автор: Сырейщикова Алена Евгеньевна
г.Кыштым, МОУ С(к)ОШ №5 VIII вида, учитель начальных
классов

Какое слово зашифровано?

$$\begin{array}{r} + 10 \\ 15 \\ \hline \square \end{array}$$

$$\begin{array}{r} - 40 \\ 25 \\ \hline \square \end{array}$$

$$\begin{array}{r} + 25 \\ 15 \\ \hline \square \end{array}$$

$$\begin{array}{r} - 60 \\ 55 \\ \hline \square \end{array}$$

$$\begin{array}{r} + 5 \\ 45 \\ \hline \square \end{array}$$

15	25	40	50	5
р	в	е	я	м



Стрелки часов




Соотношен ия

1 ч =	60	мин
-------	----	-----

1 мин =	60	с
---------	----	---



Какое время показывают



Работа с макетом часов

- 1) 10 минут девятого
- 2) 40 минут третьего
- 3) 35 минут шестого



Утро, день, вечер,



минутная **НОЧЬ**



стрелка
часовая стрелка

Ночь (00.00 – 04.00)



12 часов ночи
(полночь)



1 час ночи



2 часа ночи



3 часа ночи

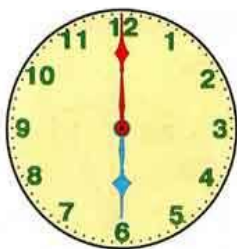


4 часа ночи

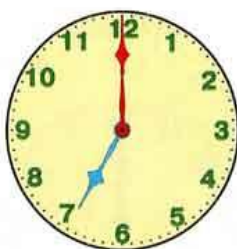
Утро (05.00 – 11.00)



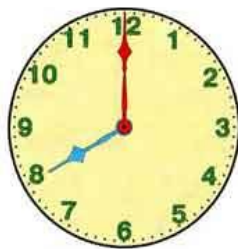
5 часов утра



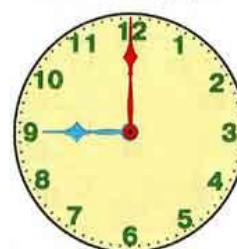
6 часов утра



7 часов утра



8 часов утра



9 часов утра



10 часов утра



11 часов утра

Утро, день, вечер,



минутная **НОЧЬ**



стрелка
часовая стрелка

День (12.00 – 16.00)



12 часов дня
(полдень)



13 часов или
1 час дня



14 часов или
2 часа дня



15 часов или
3 часа дня



16 часов или
4 часа дня

Утро, день, вечер,



минутная **НОЧЬ**



стрелка
часовая стрелка

Вечер (17.00 – 23.00)



17 часов или
5 часов вечера



18 часов или
6 часов вечера



19 часов или
7 часов вечера



20 часов или
8 часов вечера



21 час или
9 часов вечера



22 часа или
10 часов вечера



23 часа или
11 часов вечера

Сутк и

1 сут. = 24 ч

