


Урок математики

2 «Б»

МБОУ «СОШ № 2 ст.Ассиновская»
Сунженского муниципального
района.


Учитель начальных классов
Мухаева Л.С.

A cartoon illustration of several characters behind vertical metal bars. On the left, a character with a large red nose and a white headband looks out. Next to him is a character with a large red nose and a white headband, looking out. In the center, a character with a large red nose and a white headband looks out. To the right, a character with a large red nose and a white headband looks out. On the far right, two smaller characters with large red noses and white headbands look out. The background is a textured yellow wall.

МБОУ «СОШ №2 СТ.
Ассиновская
2 «Б»








**Пожалуйста
займите свои
места**

Закрепление навыков в играх



Математический диктант







$$15-9$$

$$6+8$$


$$13-8$$

$$14-7+3$$

$$9+5$$

$$9+7-10$$





10

20

30

40

50

60

70

80

30

70

40

20

60

10

50

$$20 - (50 + 30) =$$

-

Работа по учебнику стр.

41



Физкультминутка

Работа в парсе



2. Вычисли длину ломаной линии.





Самостоятельная Работа



Работа по учебнику стр. 41

№4



Домашнее задание

Учебник: стр.41 №5



Итог урока.

1. Какие цели нужно было достичь?
2. Возникли ли трудности?
3. Смогли ли с ними справиться?



Спасибо

