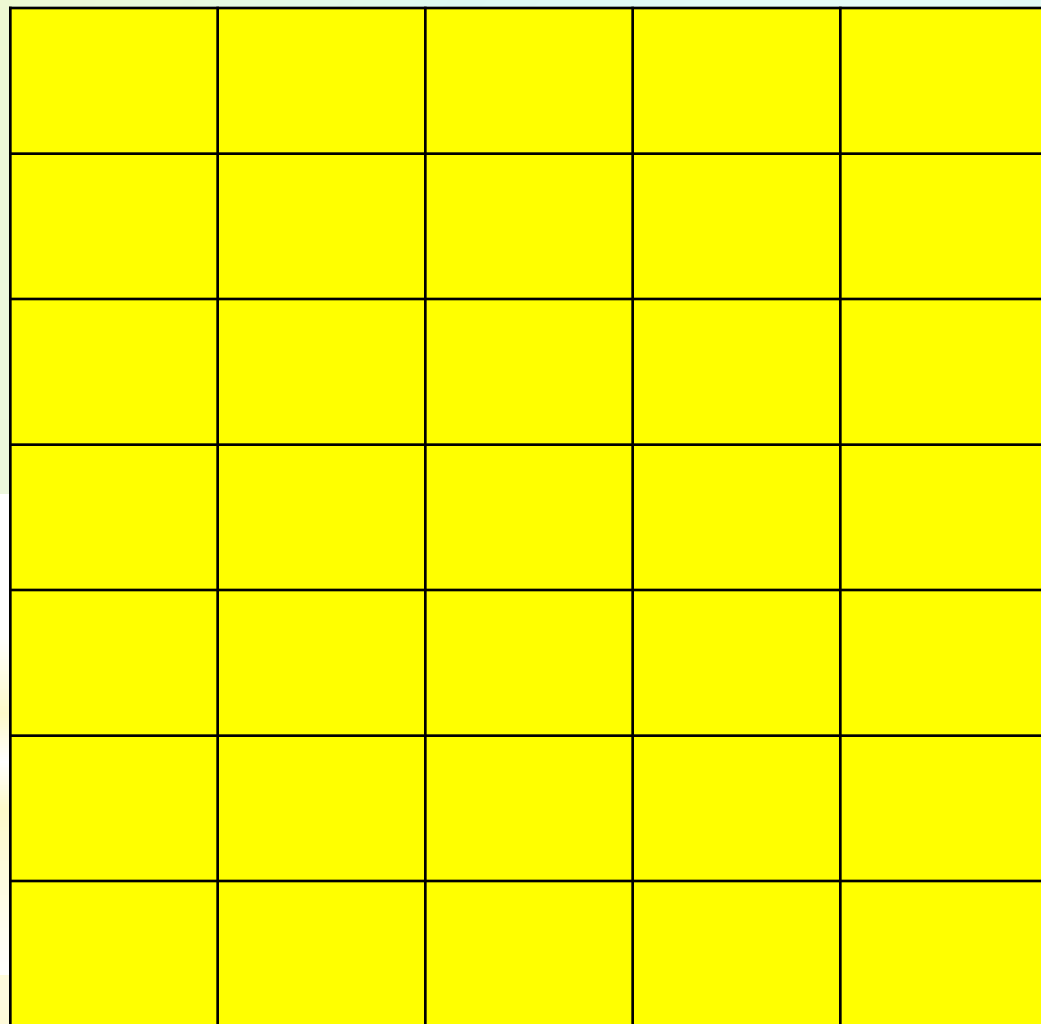


Проблема?

Цель?

1cm²



Найти площадь?

b см






a см

***Запишите
выражение для
нахождения
площади (S)
прямоугольника?***


***Запишите
выражение для
нахождения
периметра (P)
прямоугольника?***

a км/ч

b км/ч



V - скорость сближения



$S - ?$

$$S_{\text{пря́м}} = a \cdot b$$

$$P_{\text{пря́м}} = (a + b) \cdot 2$$

$$S = v \cdot t$$

$$v = a + b$$

Ф
о
р
м
у
л
ы

Как работать с
формулами?

Проблема?

Цель?