

Отгадай слова, решив примеры

К $36 + 2$

Ю $45 + 5$

Я $6 + 5 - 7$

А $36 + 20$

З $45 + 50$

Ж $12 - 8 + 9$

Н $84 - 3$

М $50 - 7$

В $8 + 8 + 6$

Т $84 - 30$

И $50 - 27$

О $17 - 9 + 7$

Ы $39 + 6$

Л $41 + 28$

Ч $30 - (9 + 9)$

П $39 + 60$

Ь $67 - 36$

С $(27 + 7) - 4$

Р $83 - 8$

Б $46 + 18$

Д $(19 + 32) + 11$

Е $83 - 80$

У $75 - 57$

Э $12 + (5 + 8)$

64	31	50	54

3	75	43	23	69	38	18

99	15

95	56	54	45	69	38	18

15	81


81	3

99	69	56	12	3	54

54	15	69	31	38	15


81	15	13	38	18

99	75	4	12	3	54



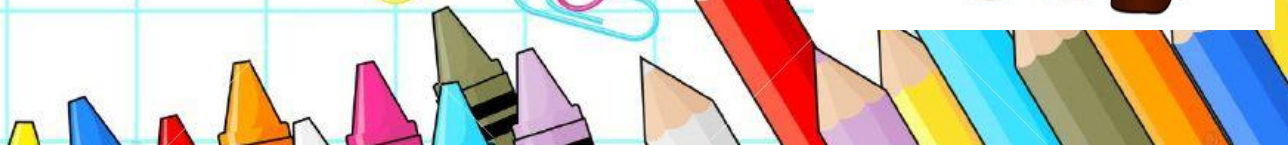
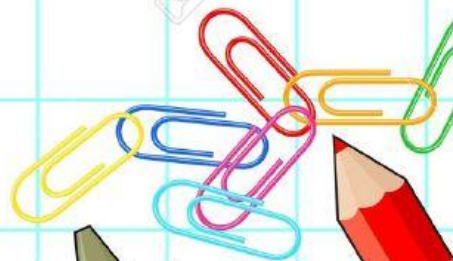
Задача № 2

Кот Леопольд пошел на рыбалку. Он поймал 7 ершей, 5 окуней, карпов столько, сколько ершей и окуней вместе, а форели – в 2 раза меньше карпов. Сколько рыбы принес домой кот Леопольд, если известно, что когда он собрался домой, мыши ста нег



Задача № 3

В столовую привезли клубнику.
Винтик, Шпунтик и Незнайка
прибежали в столовую первые.
Винтик съел 2 кг клубники, Шпунтик –
в 3 раза больше, чем Винтик, а
Незнайка съел столько, сколько
съели вместе Винтик и Шпунтик.
Сколько килограммов клубники
тик, Шпунтик и Незнайка



Задача № 5

Пес Шарик сделал из своего фоторужья 16 портретов дяди Фёдора, а кот Матроски на в 8 раз меньше. Сколько всего портретов сделал Шарик?



Задача № 6

Жил да был молодец – да
лихой удалец. Поехал он себе
искать приключения. Ехал, ехал
до бору доехал. В бору стоит 7
берёз, 3 сосны, а елей – в 2 раза
больше, чем берёз и сосен
вместе. Сколько деревьев в б
ле

