

ЗАДАЧНИК

Григорий Остер.

*Пожарных учат надевать
штаны за 3 секунды.
Сколько штанов успеет
надеть хорошо обученный
пожарный
за 5 минут?*



Если тихонько подкрасться к бабушке и папе сзади внезапно крикнуть: «Ура!», папа подскочит на 18 см. Бабушка подскочит только на 5 см. На сколько сантиметров выше бабушки подскочит папа, услышавши внезапное «Ура!»?



*Два числа 5 и 3 пришли
однажды в такое место, где
валялось много разных разностей
и стали искать свою.*

*Найдите разность этих
чисел.*


53




*Толя поспорил с Колей, что
съест 5 баночек гуталина,
а
съел только 3. Сколько
баночек гуталина не смог
осилить Толя?*



**Воспитывая своего сына
двоечника, папа изнашивает в год 2
брючных ремня. Сколько ремней
износил папа за все 11 лет учёбы,
если известно, что в пятом классе
его сын дважды оставался на второй
год.**



Курочка Ряба снесла яичко, а мышка взяла и разбила. Тогда Ряба снесла ещё 3 яичка. Мышка эти тоже разбила. Ряба поднатужилась и снесла ещё 5, но бессовестная мышка расколотила и эти. Из скольких яиц могли бы приготовить себе яичницу дед и баба, если бы не разбаловали свою мышку?



С одного дерева сняли 164 груши, а со второго 5 мальчиков, каждый из которых сидя на дереве, съел по 27 груш. После этого со второго дерева сняли ещё 94 груши. Сколько груш было на обоих деревьях?




*В бублике одна дырка,
а в кренделе в два ра-
за больше. На сколько
меньше дырок в семи бубликах,
чем
в 12 кренделях?*



*Двадцать две девочки, гуляя
в лесу нашли 88 грибов, а
потом половина девочек*


*потерялась. Во сколько раз количество найденных в
лесу грибов больше, чем количество потерявшихся
там же девочек?*



Мама завела себе несколько кактусов. Когда трёхлетняя Маша папиной бритвой старательно побрила половину кактусов, у мамы осталось ещё 12 колючих кактусов. Сколько небритых кактусов завела себе мама?




У учеников 5 «А» класса 56 ушей, а у их учительницы Марьи Ивановны на 54 уха меньше. Сколько всего ушей можно насчитать во время урока в «А» классе.



*Сколько дырок окажется в клеёнке,
если во время обеда
12 раз проткнуть её
вилкой с 4 зубчиками.*



Марина Боровицкая сделала в диктанте 12 ошибок, а Гриша кружков, который у неё всё списал- 32 ошибки. Сколько своих собственных ошибок в диктанте у Гриши?



№ 14

Чтобы быть всегда чистым, человеку нужно 24 куска мыла в год. Если мыть только пятки и уши, то мыла понадобится в 8 раз меньше. На мытьё каждого уха уходит по одному куску мыла в год. Сколько мыла уходит в год на пятки?



В кухне находится 39 мух. 6 мух пьют чай из лужи на столе, 12 летают вокруг лампочки, остальные идут пешком по потолку. Сколько мух идёт пешком по потолку?



Рост Кати 1 м 75см. Вытянувшись во весь рост, она спит под одеялом, длина которого 155см. Сколько сантиметров Кати торчит из-под одеяла?



**Мама, папа и старшие
сёстры ужинают, а младший брат
Васенька сидит под столом и пилит
ножку стола со скоростью 3 см в
минуту. Через
сколько минут закончится ужин,
если толщина
ножки стола
9 сантиметров.**



*Неутомимый мальчик прошёл 3 км
за 30 мин. За сколько
часов пройдёт 60 км этот
неутомимый мальчик?*



Коля свой дневник с двойками закопал на глубину 5 метров, а Толя закопал – на 12 метров. На сколько метров глубже закопал свой дневник с двойками Толя?




*Коля и Толя разделили пополам
яблоко и увидели, что вместе с ними
это собираются есть ещё два
червяка. Толя отделил от своей час
половину и уступил её червяку. То же
самое сделал Коля. Какую часть
яблока получил каждый червяк?*



**В школьный портфель помещается
не более четырёх взрослых ежей.
Сколько таких портфелей
нужно, чтобы принести в школу за
один раз 316
взрослых ежей?**



**Спасаясь от таксы Дуськи, 40
бабушек забрались на ветвистое
дерево. У дерева 18 веток, на
каждой ветке сидит по две бабушки.
Сколько
бабушек качается на самой
верхушке?**



**40 бабушек пришли на именины к
одному дедушке. Каждая бабушка
принесла в подарок по две расчёски.
Сколько расчёсок получил от
бабушек совершенно лысый
дедушка?**



**В цирке 30 рядов, в каждом ряду по
120 мест.**

**Каждый вечер цирк полон и все
зрители умирают от смеха. Сколько
человек каждый вечер умирает от
смеха в цирке?**



**Когда из кастрюли с компотом
достали 16 брошенных туда Машей
кубиков, в кастрюле осталось ещё 7
кубиков.
Сколько кубиков накидала Маша в
компот?**

