

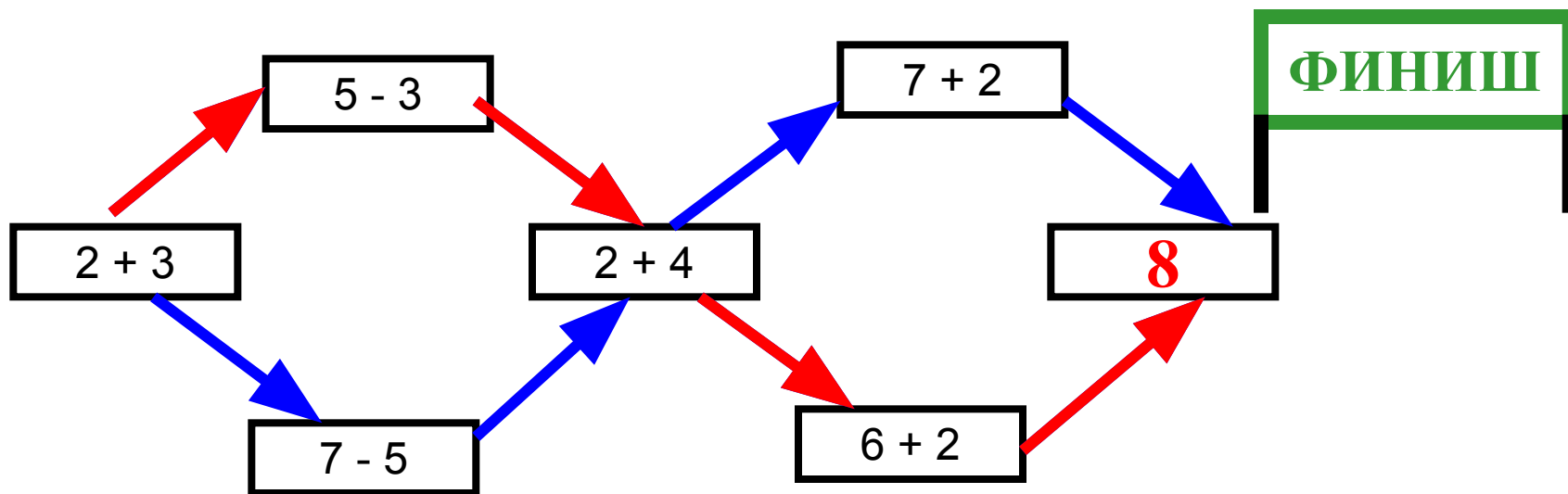


МАТЕМАТИКА

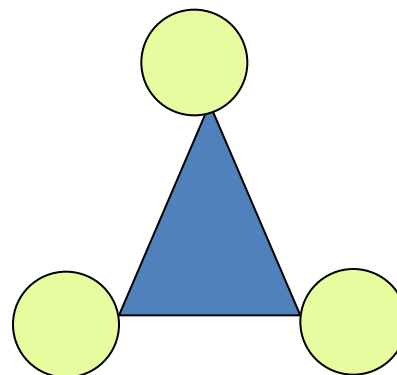
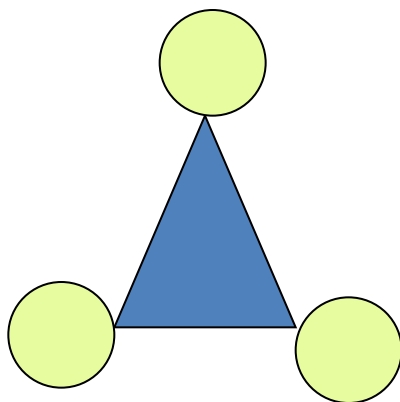
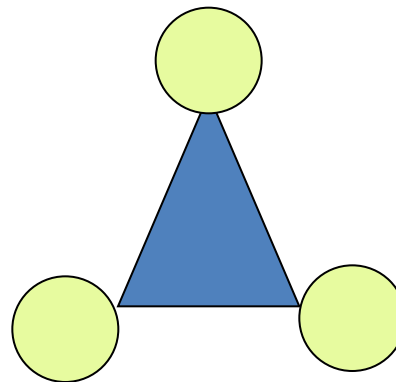
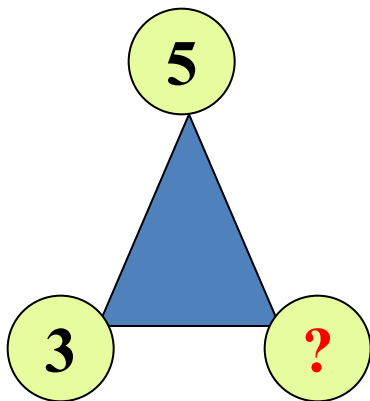


1 клас Шмакова Валентина Борисівна МБОУ СОШ № 6 п.Новий Приморський край Надеждинський район

Игра «Автогонки»



На вершинах треугольников расставьте однозначные числа так, чтобы в сумме получилось 10.



Сравните примеры в каждом столбике и запишите следующий пример:

$1 + 2$

$2 + 2$

$3 + 2$

* * *

$3 + 1$

$4 + 1$

$5 + 1$

* * *

$10 - 2$

$9 - 2$

$8 - 2$

* * *

$8 - 1$

$7 - 1$

$6 - 1$

* * *

• $1 + 2 = \boxed{3}$
• $2 + 2 = \boxed{4}$
• $3 + 2 = \boxed{5}$
• * * *

$3 + 1 = \boxed{4}$
 $4 + 1 = \boxed{5}$
 $5 + 1 = \boxed{6}$
* * *

$10 - 2 = \boxed{8}$
 $9 - 2 = \boxed{7}$
 $8 - 2 = \boxed{6}$
* * *

$8 - 1 = \boxed{7}$
 $7 - 1 = \boxed{6}$
 $6 - 1 = \boxed{5}$
* * *

Сравните примеры в каждом столбике и запишите следующий пример:

$$1 + 2 = 3$$

$$3 + 1 = 4$$

$$10 - 2 = 8$$

$$8 - 1 = 7$$

$$2 + 2 = 4$$

$$4 + 1 = 5$$

$$9 - 2 = 7$$

$$7 - 1 = 6$$

$$3 + 2 = 5$$

$$5 + 1 = 6$$

$$8 - 2 = 6$$

$$6 - 1 = 5$$

$$4 + 2 = 6$$

$$6 + 1 = 7$$

$$7 - 2 = 5$$

$$5 - 1 = 4$$

Решите задачи.

- По озеру плавало 5 уток и 3 гуся.
Сколько всего птиц плавало по озеру?
- На яблоне висело 9 яблок. 4 яблока упало. Сколько яблок осталось на яблоне?

- Начертите два отрезка. Один длиной 3 см, а другой на 2 см длиннее.