

# Задачи. Больше на...




Ромась Юлия Владимировна  
МАОУ СОШ №21  
Г. Асбест





# ЗАДАНИЕ НА ВНИМАНИЕ

Найди  
10 отличий.





# Игра «Какое число пропущено»



$$8 - \quad = 4$$

$$7 - \quad = 3$$


$$3 + \quad = 9$$

$$3 + \quad = 8$$


$$5 - \quad = 3$$

$$10 - \quad = 6$$





? гр.



? гр.




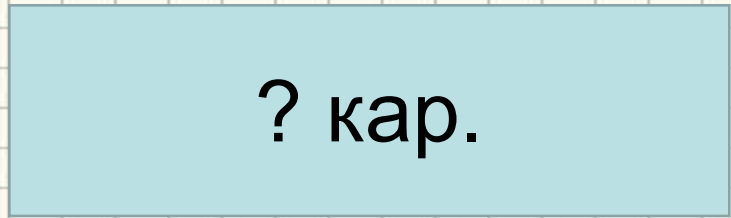
Маша - 5 гр.

Петя - ? гр., на 2 гр. >

$$5 + 2 = 7 \text{ (гр.)}$$

Ответ: у Пети 7 груш.





? кар.










Маша - 4 кар.

Петя - ? кар., на 3 кар. >



$$4 + 3 = 7 \text{ (кар.)}$$

Ответ: у Пети 7 карандашей.





? тетр.



? гр.





Маша - 6 тетр.

Петя - ? тетр., на 4 тетр. >

$$6 + 4 = 10 \text{ (тетр.)}$$

Ответ: у Пети 10 тетрадей.



Начерти отрезок длиной 4 см.



Начерти отрезок на 4 см длиннее предыдущего.

$$4 + 4 = 8 \text{ см}$$





***Работаем в учебнике***

