

Тема : Задачи о покупках



Овощи

ЗЕЛЕНА

СЛУСКИ

ПЕРСКИ

КРАСНА ПИПЕРИЈА

ЖУТА ПИПЕРИЈА

ПЕРСКИ

КАРТОФЛА



КРАСНА ПИПЕРИЈА
196

ЖУТА ПИПЕРИЈА
80

ПЕРСКИ
95

КАРТОФЛА
196

ПЕРСКИ
196

ПЕРСКИ
240

КАРТОФЛА
196

ЖИГА
250

КАРТОФЛА
196

КАРТОФЛА
196

КАРТОФЛА
196

КАРТОФЛА
2200

КАРТОФЛА
196

КАРТОФЛА
196

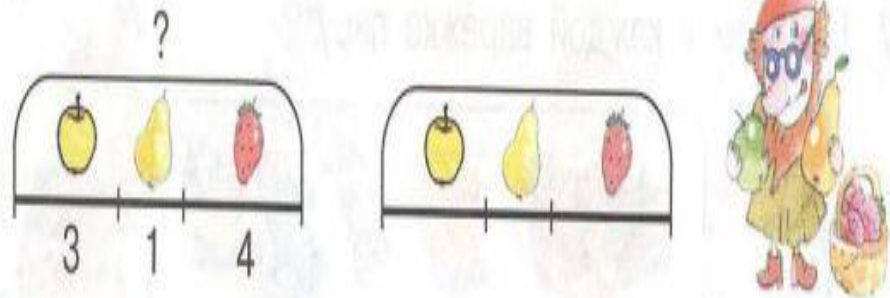
ТЕНГЕ

*-НАЦИОНАЛЬНАЯ ВАЛЮТА
КАЗАХСТАНА.*




Найдите соответствие задач со схемами.

3 Составь задачу и придумай к ней обратную:



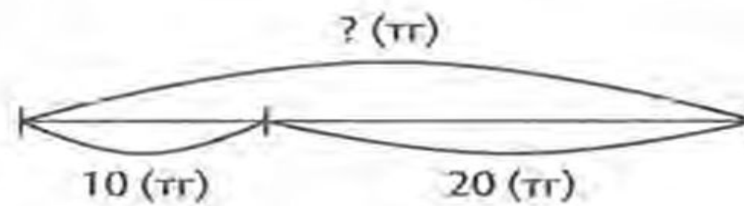
4 Составь задачу по картинке:



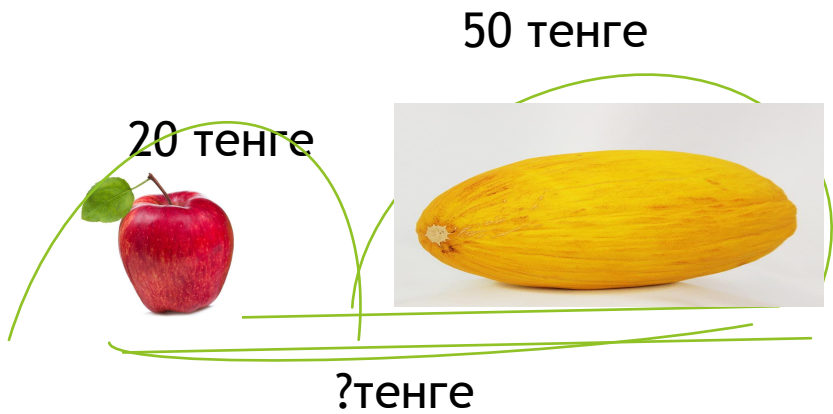
а) $5 + 4$ б) $3 + 6$

в) $9 - 5$ г) $9 - 3$

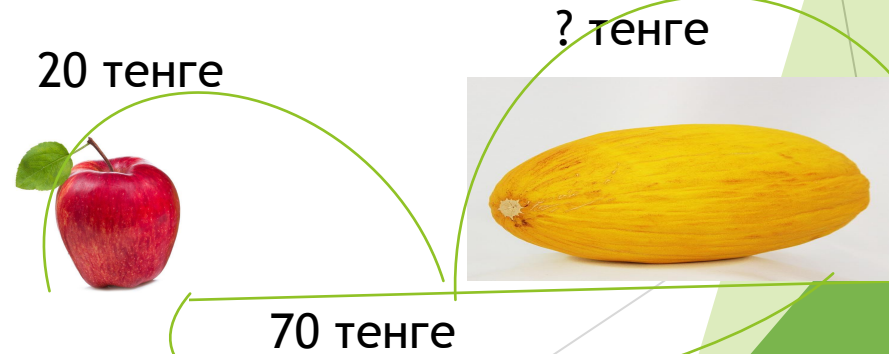
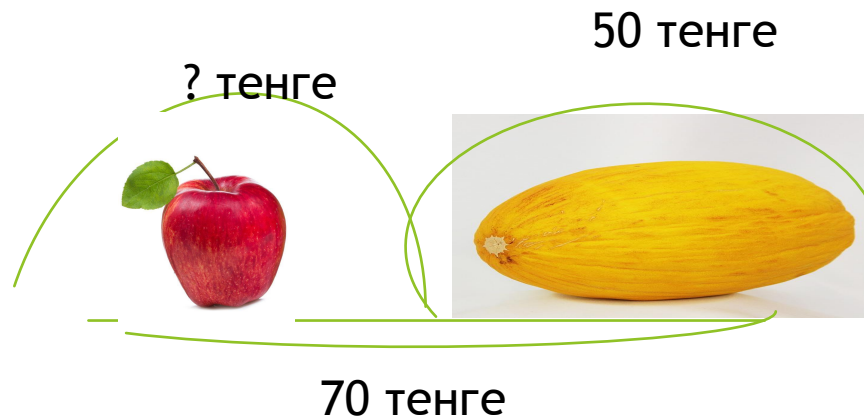
д) $4 + 1 + 2 + 2$



Объясни обратные задачи



$20+50=70$ (тенге)
Ответ: всего 70 тенге.





Составление взаимообратных задач с помощью взаимообратных примеров:



$$1 + 2 = 3$$



$$2 + 1 = 3$$



$$3 - 1 = 2$$



$$3 - 2 = 1$$

Купи канцелярские принадлежности:



5 тенге



10 тенге



Дерево оценивания

