



12 марта Классная

Номер 1* работа

1) Найдите разность чисел 62 и 33

2) Увеличь 76 на 4

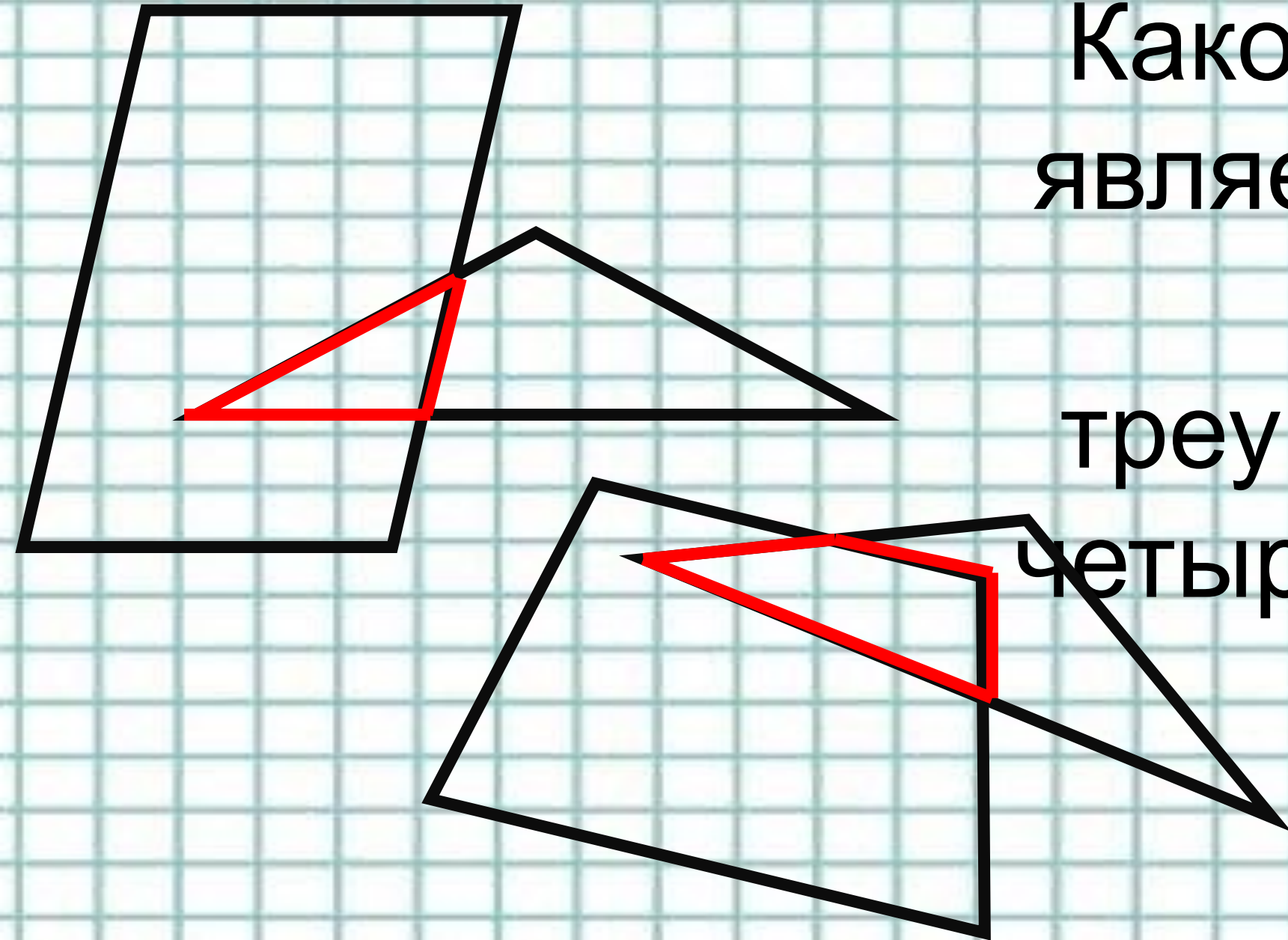
3) Первое слагаемое 23, второе 47.

Чему равна сумма.


4) Уменьшить 96 на 52

5) Умножь 10 на 50

Какой фигурой
является общая
часть
треугольника и
четырехугольника?
а?



Ст. 59 номер 2



Сколько коробок
потребовалось?

$$12:6=2 \text{ (к)}$$

Ответ: потребовалось

Ст. 59 номер 3

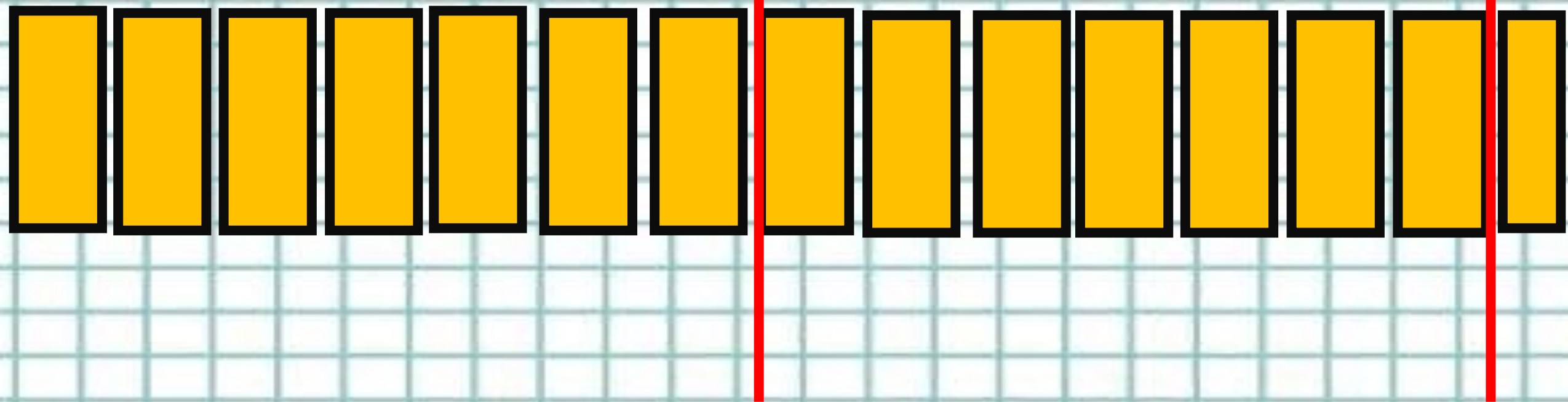
уст



1) Сколько можно сделать скворечников из этих дощечек, если на один уходит 7 дощечек?

1
5

**Значит, можно сделать 2
скворечника....**



И останется 1

попозвоночник

Ст. 59 номер 4

Ваня ~~ада~~ ~~а~~ монеты по 5 рублей

Нина - 20 рублей, на ?

1) Сколько рублей у Вани?

1. $5+5+5=15$ (руб.)

2. $5*3=15$


(руб.)

2) На сколько рублей у Нины

больше чем у Вани?

Самостоятельная работа

Ст. 59 номер 5 и 6



цени с работе
не