



Тема:
«Задача.
Вычисление и
запись ответа»



Найдите задачу

1. У Маши 4 рыбки.
2. У Маши 4 рыбки, а у Миши - 2 рыбки.
3. В аквариуме 10 рыбок. 6 рыбок запустил Миша, а остальные Маша.
Сколько рыбок запустила Маша?
4. Сколько рыбок у Маши и Миши вместе?

ЗАДАЧА

В аквариуме 10 рыбок. 6 рыбок запустил Миша, а остальные Маша. Сколько рыбок запустила Маша?

УСЛОВИЕ

В аквариуме 10 рыбок.
6 рыбок запустил Миша, а
остальные Маша.

ТРЕБОВАНИЕ

Сколько рыбок запустила
Маша?



**Руки подняли и
покачали -**

**Это деревья в лесу.
Руки согнули, кисти
встряхнули -**

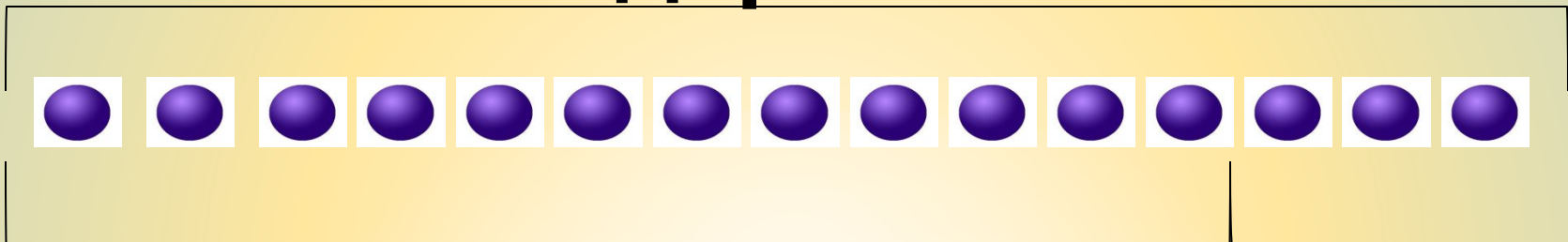
**Ветер сбивает плавно
руки, плавно
помашем -**

**Это к нам птицы летят,
Как они тихо садятся,
покажем -**



Крыльями сложили плесок

Всего деревьев ?



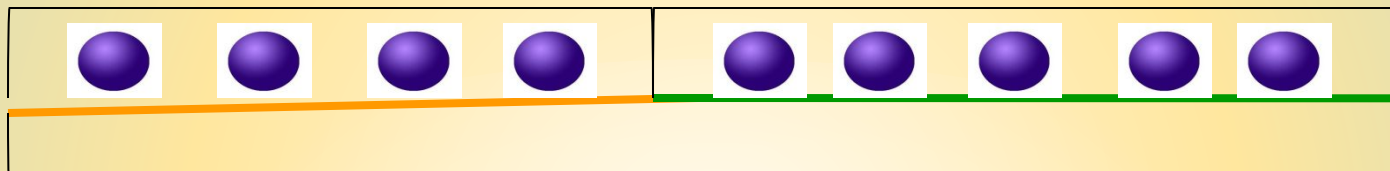
Яблони **12**

Груши **3**

$$12 + 3 = 15$$

Ответ: 15 деревьев.

Унесла **4** ? Осталось



Выросло **9**

$$9 - 4 = 5$$

Ответ: 5 грибов.



УСЛОВИЕ

ТРЕБОВАНИЕ

РЕШЕНИЕ

ОТВЕТ

У Маши и Миши 10 конфет.

У Миши 6 конфет.

Сколько конфет у Маши?

$$10 - 6 = 4 \text{ (к.)}$$

Ответ: 4 конфеты.

**На уроке мне всё было понятно,
я доволен своей работой.**



**Я не всё понял
и допускал ошибки.**





Спасибо
за урок!

