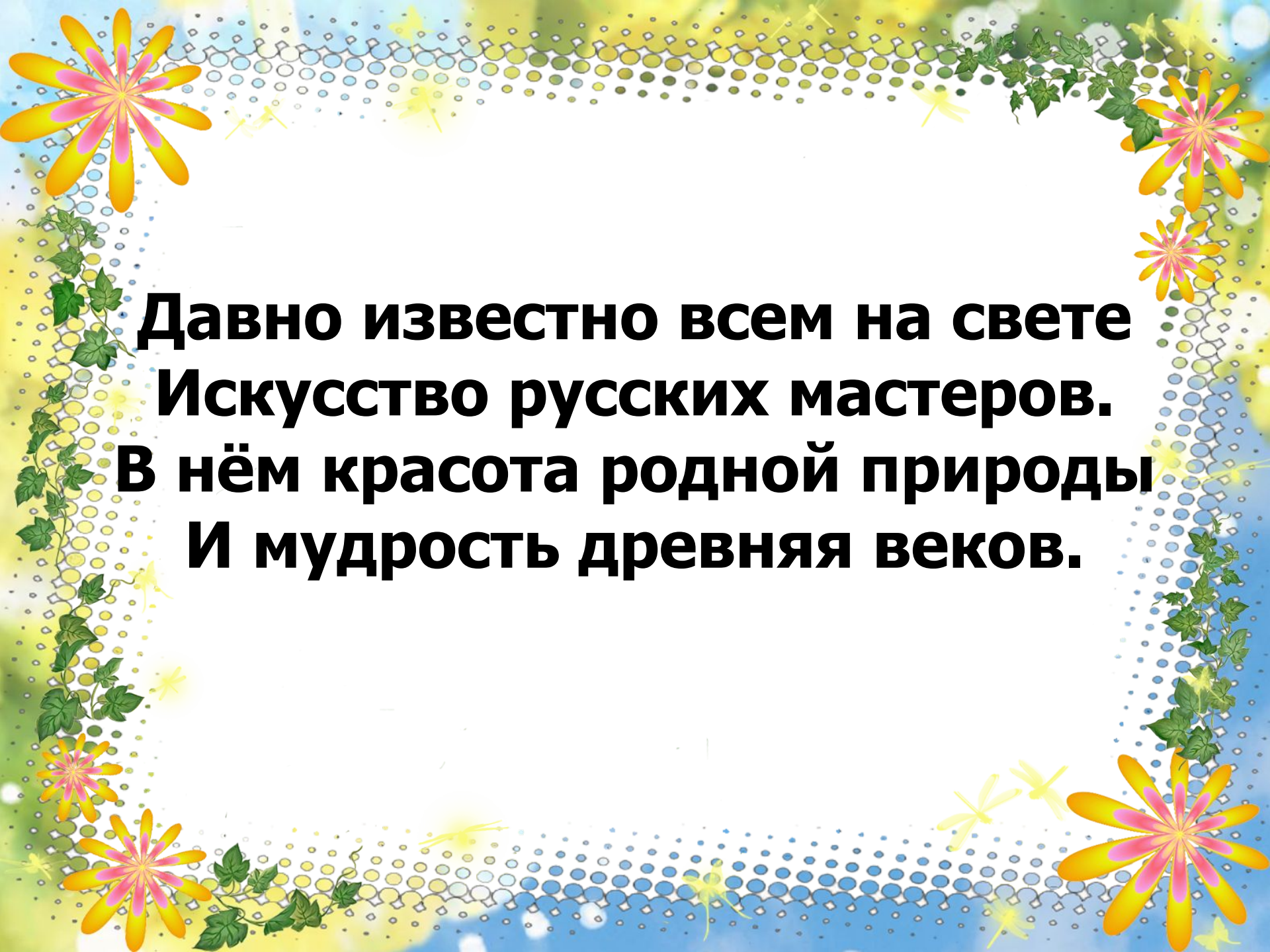


Урок-путешествие в сувенирный магазин

Выполнила: Крикунова Елена
Викторовна

1 класс

A decorative border surrounds the text, featuring large pink and yellow flowers, green vines, and yellow dragonflies on a background of blue and yellow dots.

**Давно известно всем на свете
Искусство русских мастеров.
В нём красота родной природы
И мудрость древняя веков.**



Хохломская роспись- алых ягод россыпь.



Дымковская игрушка



Городецкая роспись



Гжельская роспись



Богородская игрушка



MyShared

ТУЛЬСКИЕ САМОВАРЫ



Берёста (или береста)



$7-3= 4$

$2+3= 5$

$9-3= 6$

$6+3= 9$

$5+3= 1$

$4+3= 7$

$6-3= 3$

$4-3= 8$

9 8 7 6 5 4 3 2 1

МАТРЕШКА

А



ТЕМА УРОКА:

**«СЛОЖЕНИЕ И
ВЫЧИТАНИЕ ЧИСЛА 3»**

ФИЗМИНУТКА



• Хлопают в ладошки дружные
матрешки.

На ногах сапожки,
Топают матрешки.

Влево, вправо наклонись,
Всем знакомым поклонись.

В сарафанах ваших пестр
Вы похожи словно сестры



У Алины



У Иры столько же.

Сколько всего матрешек у девочек?

Решени

$$3+3=6 \text{ (м) } \quad \text{е.}$$

Всего: 6

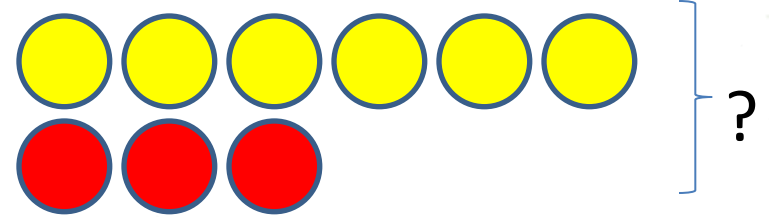

матрешек.

Маша вырезал



Вера вырезала 3 матрёшки.
Сколько

Какая схема подходит к задаче?
Объясни.



-6 уменьшить на 2

**- Число, стоящее между
числами 8 и 6**

**-Сколько нужно
прибавить к 7 чтобы
получилось 9?**

**-Первое слагаемое – 1,
второе слагаемое – 2.
Чему равна сумма?**


-10 без 1



9



4



2



3



7

Домашнее задание

(базовый уровень)



$5-3$

$6+3$

$7+3$

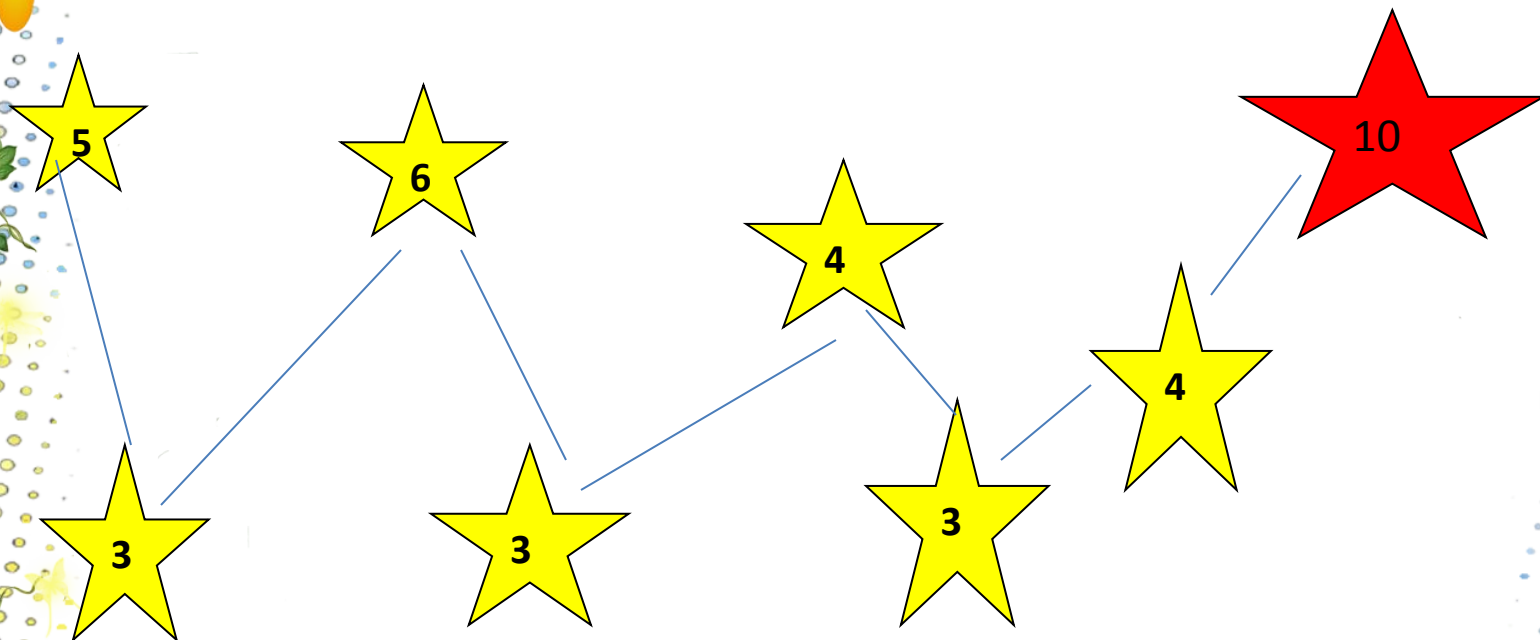
$8-3$

$9-3$

$4+3$

Домашнее задание

(повышенный уровень)



ЛЕСТНИЦА УСПЕХА



Уверен в
СВОИХ
знаниях



Нужно ещё
повторить



Нужна
ПОМОЩЬ

СПАСИБО
за урок!

