

Презентация
к уроку математики
в 3 классе
по теме
«Закрепление умножения и деления двузначных и
трёхзначных чисел на однозначное и двузначное
число»

Выполнила :учитель начальных классов
МБОУ СОШ №7 г.Белгорода
Салтанова Л.В.

Морское путешествие

1. Устный счет



2.

Работа в парах



3.

Работа в группах



Устный счет



Прочитай и вычисли

● $37 - 9$

● $48 : 6$

● $17 + 14$

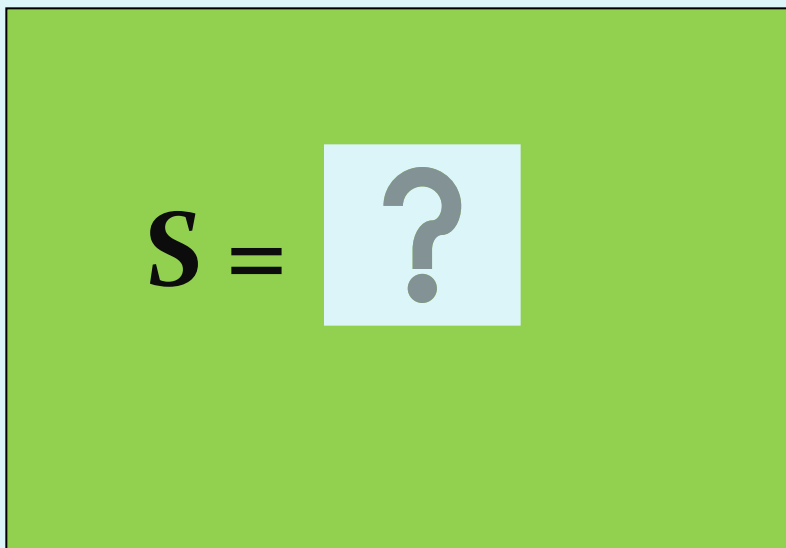
● 4×8

● $(12 + 6) : 9$

● $70 - (8 \times 5)$

Найди площадь прямоугольника

62 см



3 см

Найди площадь прямоугольника


62см



3см

Найди периметр прямоугольника

17 см




P = ?

13 см

Найди периметр прямоугольника

17 см



$$P = 60 \text{ см}$$

13 см

На одной пальме 24 банана, а на другой 8 бананов. На сколько бананов на второй пальме меньше, чем на первой?

на 16

на 3

на 4

на 32



На одной пальме 24 банана, а на другой 8 бананов. Во сколько раз бананов на первой пальме больше, чем на второй?

в 16 раз

в 3 раза



в 4 раза

в 32 раза

На одной пальме 27 бананов, на другой – в 3 раза меньше, чем на первой. Сколько бананов на двух пальмах?

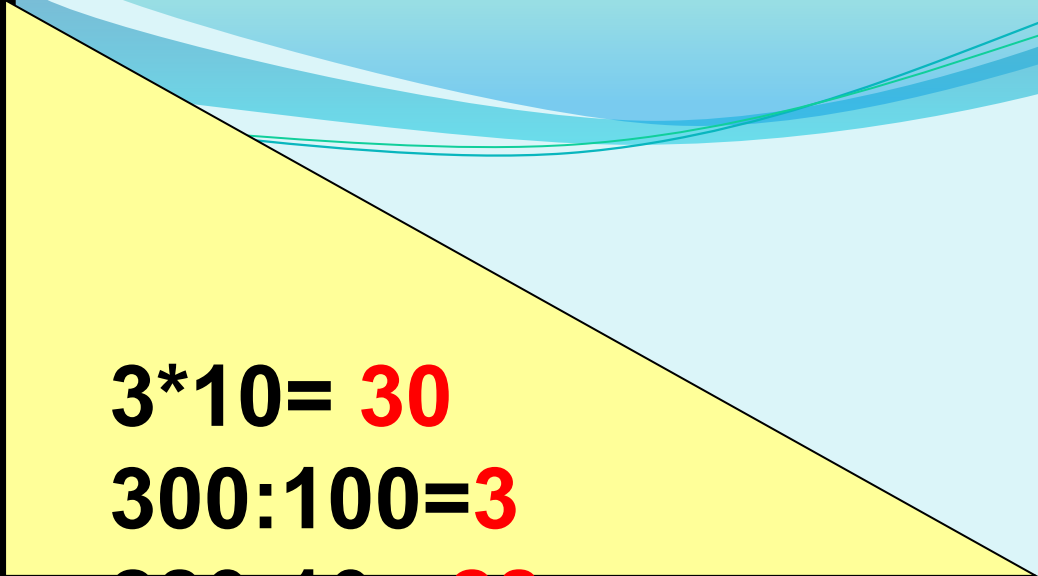
57 бананов

36 бананов

9 бананов

30 бананов




$$3 * 10 = 30$$

$$300 : 100 = 3$$

$$280 : 10 = 28$$


$$100 * 5 = 500$$

$$1000 : 100 = 10$$

$$320 * 10 = 3200$$

$$700 * 10 : 100 = 70$$

$$520 : 10 + 400 : 10 = 92$$



girra22nao.com

**В на овощную базу привезли
25 ящиков киви, по 19 кг в каждом,
а манго в 5 раз меньше , чем киви.
Сколько всего килограммов
фруктов привезли на овощную
базу?**



