

# КОНТРОЛЬНЫЙ ТЕСТ №1

ОБОЗНАЧЕНИЕ НАТУРАЛЬНЫХ ЧИСЕЛ. ОТРЕЗОК. ДЛИНА  
ОТРЕЗКА. ТРЕУГОЛЬНИК. ПЛОСКОСТЬ. ПРЯМАЯ. ЛУЧ.  
ШКАЛЫ И КООРДИНАТЫ. МЕНЬШЕ ИЛИ БОЛЬШЕ.



**1. Какое число следует при счете за числом 30099?**

**40000**

**30100**

**31100**

**31000**



**2.** Число два миллиона шестьсот записывается цифрами так:

2600

2000600

2600000

2000000600



**3. Во сколько раз 1 м больше 1 мм?**

**В 10 раз**

**В 100 раз**

**В 1000 раз**

**В 10000 раз**



**4. От куска материи длиной 8 м отрезали кусок длиной 5 дм. Сколько материи осталось?**

**3 м**

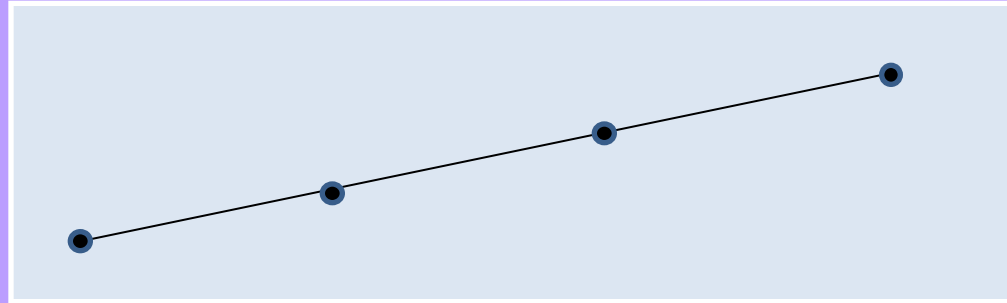
**3 дм**

**7 м 5 дм**

**795 дм**



**5. Сколько всего отрезков изображено на рисунке?**



4

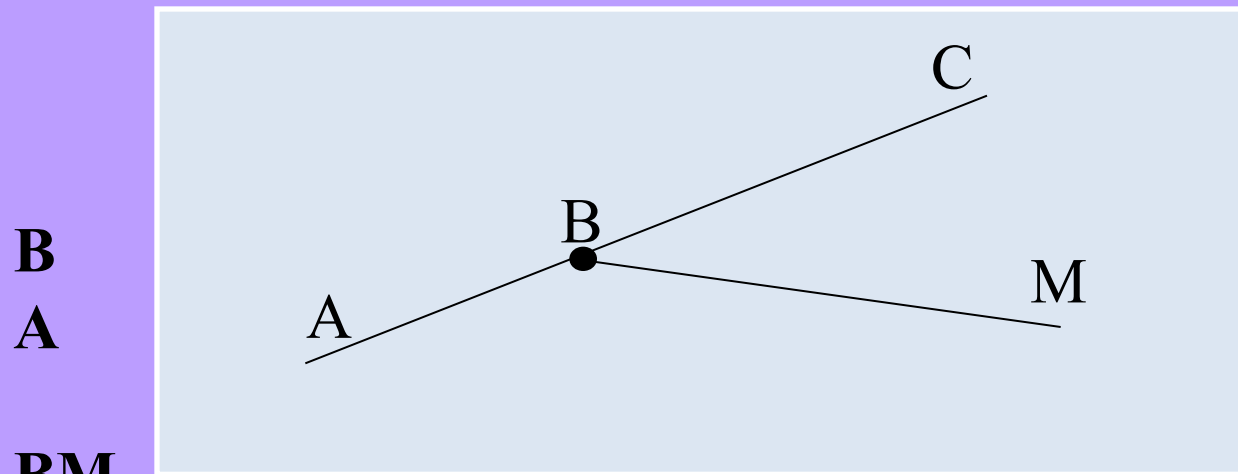
3

5

6



**6. Какая из фигур, изображенных на рисунке, является прямой?**



**B**

**A**

**BM**

**BC**

**AC**



**7. Сколько килограммов составляют 5 т 60 кг?**

**560 кг**

**5060 кг**

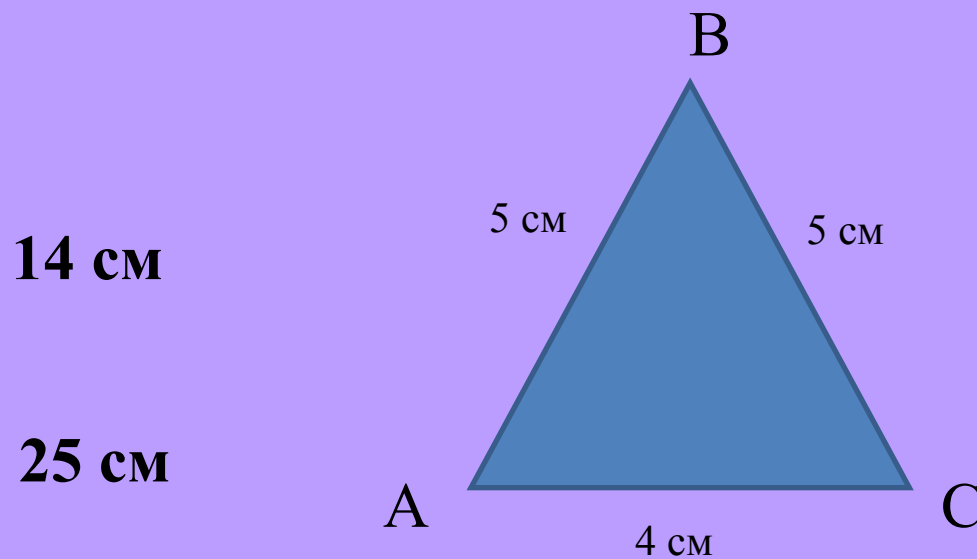
**50060 кг**

**5600 кг**





**8.** Чему равен периметр треугольника ABC, изображенного на рисунке?



**14 см**

**25 см**

**100 см**

**15 см**



**9. Какая из точек на координатном луче расположена левее, если  $A(964)$  и  $B(1064)$ ?**

**B**

**A**



**10.** На координатном луче отметили точками все натуральные числа, которые больше 58 и меньше 63. Какие это числа?

58, 59, 60, 61, 62

59, 60, 61, 62, 63

58, 59, 60, 61, 62, 63

59, 60, 61, 62



# Правильных ответов:



**Выход**



**В начало**