

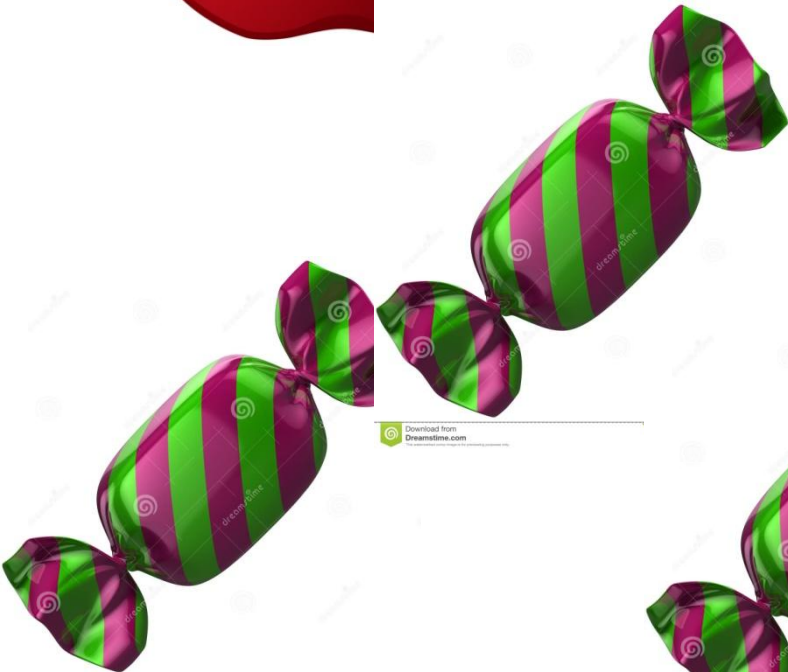



На сколько больше? На сколько
меньше?

Математика 1 класс
Урок №5





Download from
Dreamstime.com



Download from
Dreamstime.com

Download from
Dreamstime.com



Download from
Dreamstime.com

Download from
Dreamstime.com



Download from
Dreamstime.com

Download from
Dreamstime.com



5

конфет

3

▶ яблока

$$5 - 3 =$$



$$5 - 3 = 2$$



На сколько
конфет
больше?

На 2 конфеты
больше



**На сколько
конфет
меньше?**

**На 2 конфеты
меньше**



1. Сравнить числа.


2. Найти большее
число.

3. От большего
вычесть

▶ Менее.



СРАВНИ:




На сколько больше? На сколько меньше?

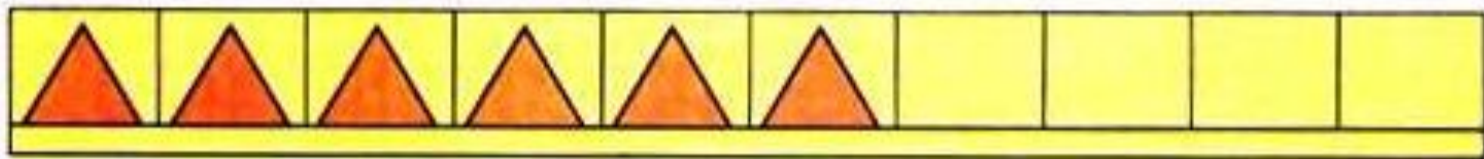
Узнаем, как определить на сколько «... больше, чем ...», «... меньше, чем ...».



Определи, не считая, кого больше: девочек или мальчиков. На сколько больше?



Каких кубиков больше? меньше? На сколько?



Как можно сделать так, чтобы красных и синих треугольников стало поровну? чтобы красных треугольников стало больше, чем синих? синих меньше, чем красных?



Белоснежка решила подарить каждому гному по воздушному шарiku. Хватит ли шариков? Больше или меньше шариков, чем гномов?

