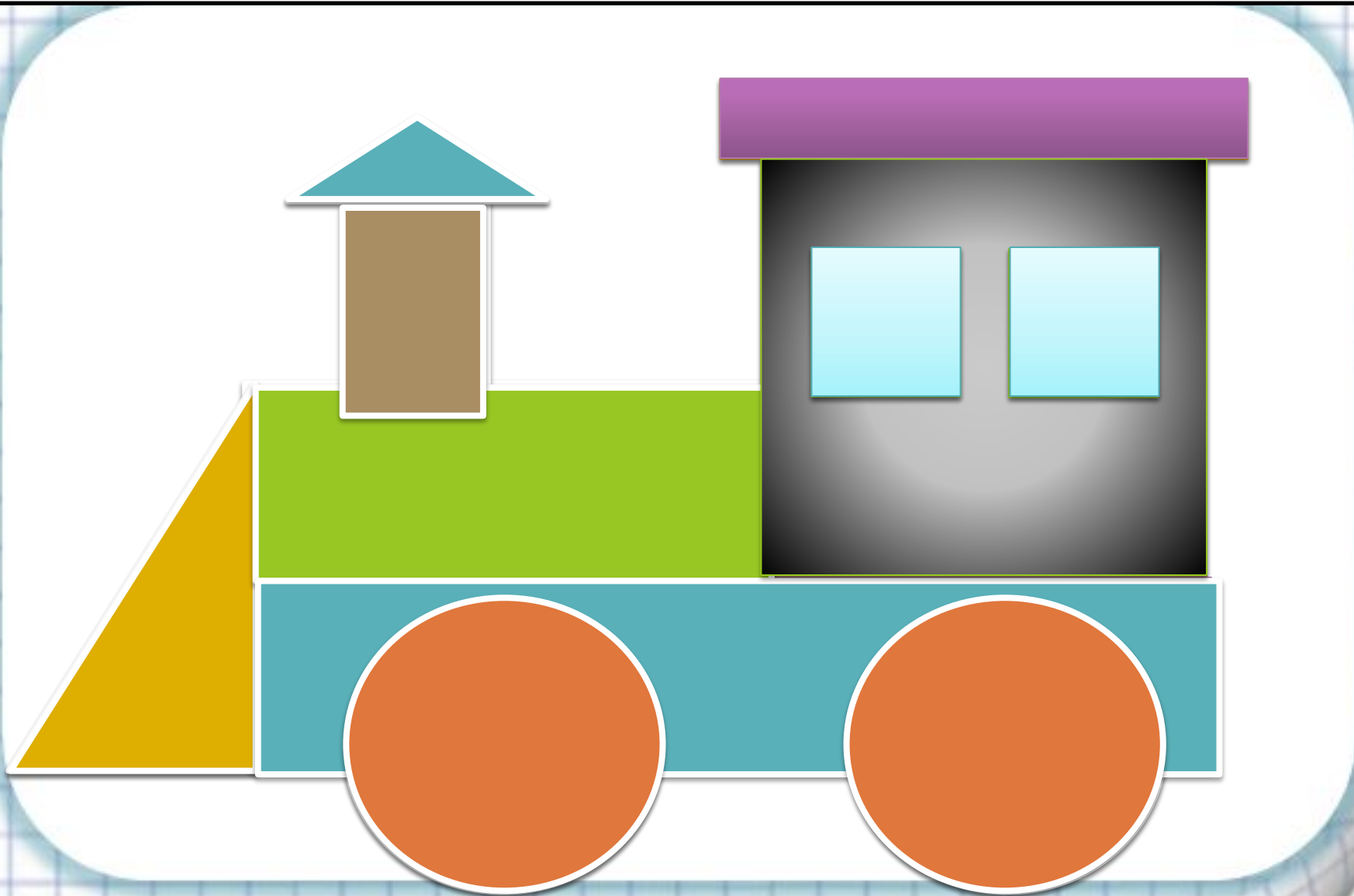


# Путешествие в страну «Математика»







**Тем**

**за:КРЕПЛЕНИЕ**



**Цели**  
**Закрепим**  
**умения:**  
□ **Сравнивать числа и**  
**числовые**  
**выражения.**  
□ **Решать**  
**задачи.**



**Развивать:**

□ **Вычислительный**

□ **Логическое  
мышление.**




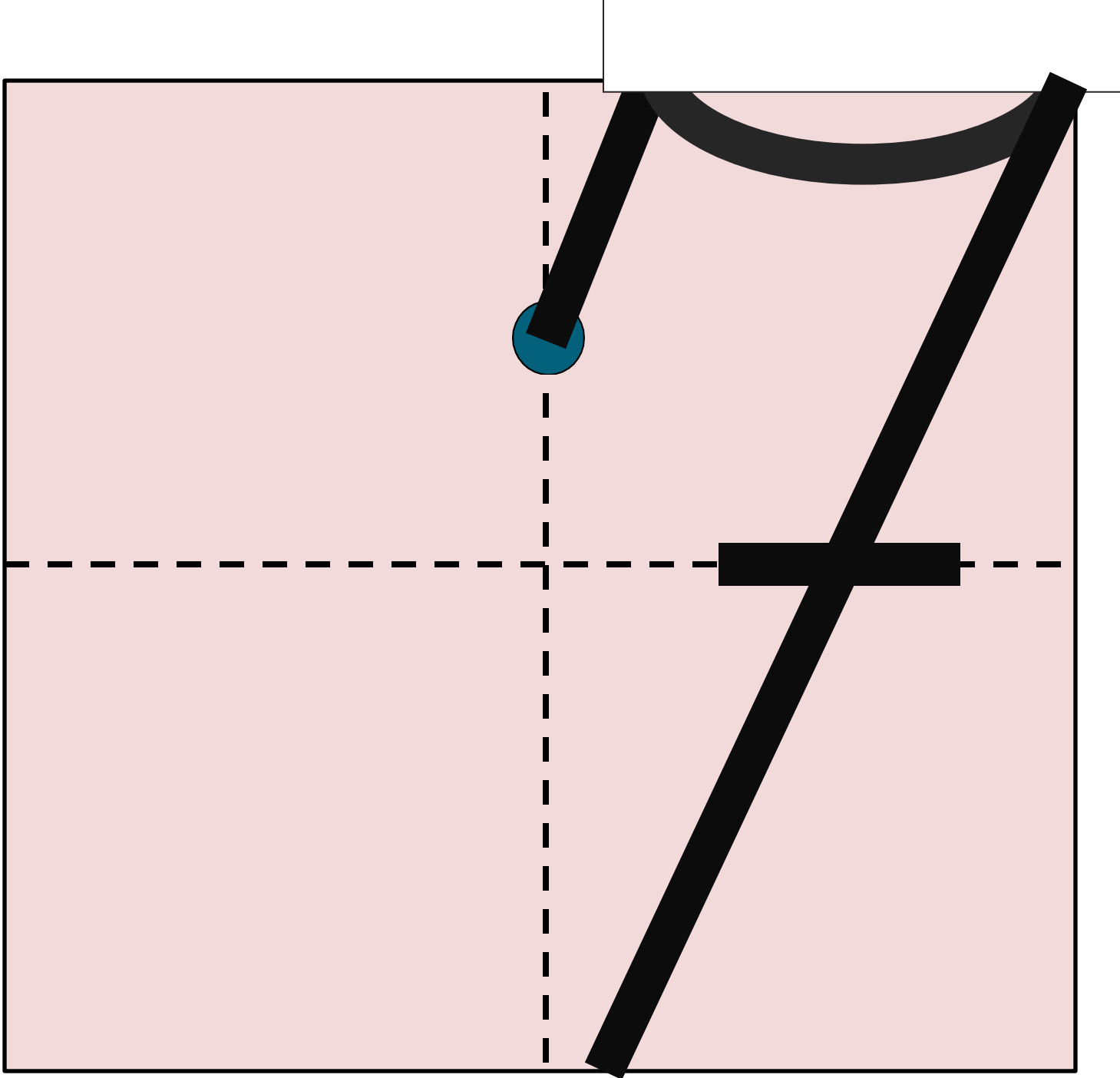
+



=

7





# СТРАНА «МАТЕМАТИКА»







# «Зайки на лужайке»

Крошки-зайки на лужайке  
Тёплым солнечным деньком  
Собирали землянику  
И несли корзины в дом.  
Но зайчишки-шалунишки  
Не подумали о том,  
Что корзиночки у мамы  
Все с каким-то номерком.  
Что же делать? А всё просто!  
Номерок-помощник вам:  
Столько ягодок положим,  
Сколько он покажет вам!





$7+2$



$5+3$



$10-1$



$5+4$



$7+1$



$10-2$



$7+3$



$4+4$



$6+4$



$6+3$



10




8



9

# Игра «Собери букет»



# Карта путешествия

**БОЛЬШЕ И  
МЕНЬШЕ**





1 дес. 2

$>$  9

$>$

2 + 4 ед.  $<$

1 дес. 5

$<$

4 + 6  $=$  6 + 4 ед.

$=$

10 - 3  $>$  5

# Карта путешествия



**БОЛЬШЕ И  
МЕНЬШЕ**

**СЧИТАЙКИ  
НО**





$$10 + 3 - 1 = 12 \quad 8 - 4 + 5 = 9$$

$$9 + 1 + 5 = 15 \quad 7 + 3 + 4 = 14$$

$$6 + 4 - 2 = 8 \quad 8 + 2 - 1 = 9$$

# Карта путешествия



ГОРОД  
РЕБУСО  
В

БОЛЬШЕ И  
МЕНЬШЕ



СЧИТАЙКИ  
НО







**ЧИС**

**1**


**ЛО**



2



5



8



МИН

ус

# Карта путешествия

ОТДЫХАЙКИ

НО



ГОРОД  
РЕБУСО

В

БОЛЬШЕ И  
МЕНЬШЕ



СЧИТАЙКИ

НО

























# Карта путешествия

ЗАДАЧКИ

НО



ОТДЫХАЙКИ

НО



ГОРОД  
РЕБУСО

БОЛЬШЕ И  
МЕНЬШЕ



СЧИТАЙКИ

НО



В





**В одной книге 10 страниц,  
а во второй на 4  
страницы  
меньше.  
Сколько страниц в двух  
книгах?**





**В корзине лежало 5  
яблок.**

**Антон съел 2 яблока.**

**Сколько яблок**

$$5 - 2 = 3$$

**осталось?**



**7 воробышков спустились на  
грядки,  
Скачут и что - то клюют без  
оглядки.**

**Котик - хитрюга внезапно  
подкрался,  
Мигом схватил одного и умчался.**

**Всё как встарь клевать без  
оглядки!**

**Силько тепеь их ста  
грядке :**


0



## Кошки



*В комнате 4 угла, в каждом углу по одной кошке, напротив каждой кошки по три кошки, на хвосте у каждой кошки, по одной кошке. Сколько кошек в комнате?*



**Ответ:** *4 кошки. Напротив каждой кошки по три кошки в трёх углах, и каждая кошка сидит на своём хвосте!*



**СПАСИБО ЗА  
УРОК!**

# Карта путешествия

ЗАДАЧН  
ЫЙ



ОТДЫХАЙКИ  
НО



ГОРОД  
РЕБУСО  
В

БОЛЬШЕ И  
МЕНЬШЕ



СЧИТАЙКИ  
НО

