

Урок математики, 2 класс

«Совершенствование вычислительных умений. Решение задач»

УМК «Гармония» 2 класс

Ладыгина Л.В. МКОУ «Майская СОШ»





29

Помоги
Фавну
посчитать
примеры

33

44

19

25

13

22

31

36

27

8

$$50 - 21 =$$

$$50 - 37 =$$

$$50 - 25 =$$

$$50 - 42 =$$

$$50 - 28 =$$

$$50 - 14 =$$

$$50 - 31 =$$

$$50 - 19 =$$



Собери яблоки

$43+34$

$56-27$

$100-69$

$14+80$

$98-43$

$32+63$



Проверь

$$78 - 61 = 15$$

17

$$51 + 49 = 99$$

100

$$91 - 25 = 64$$

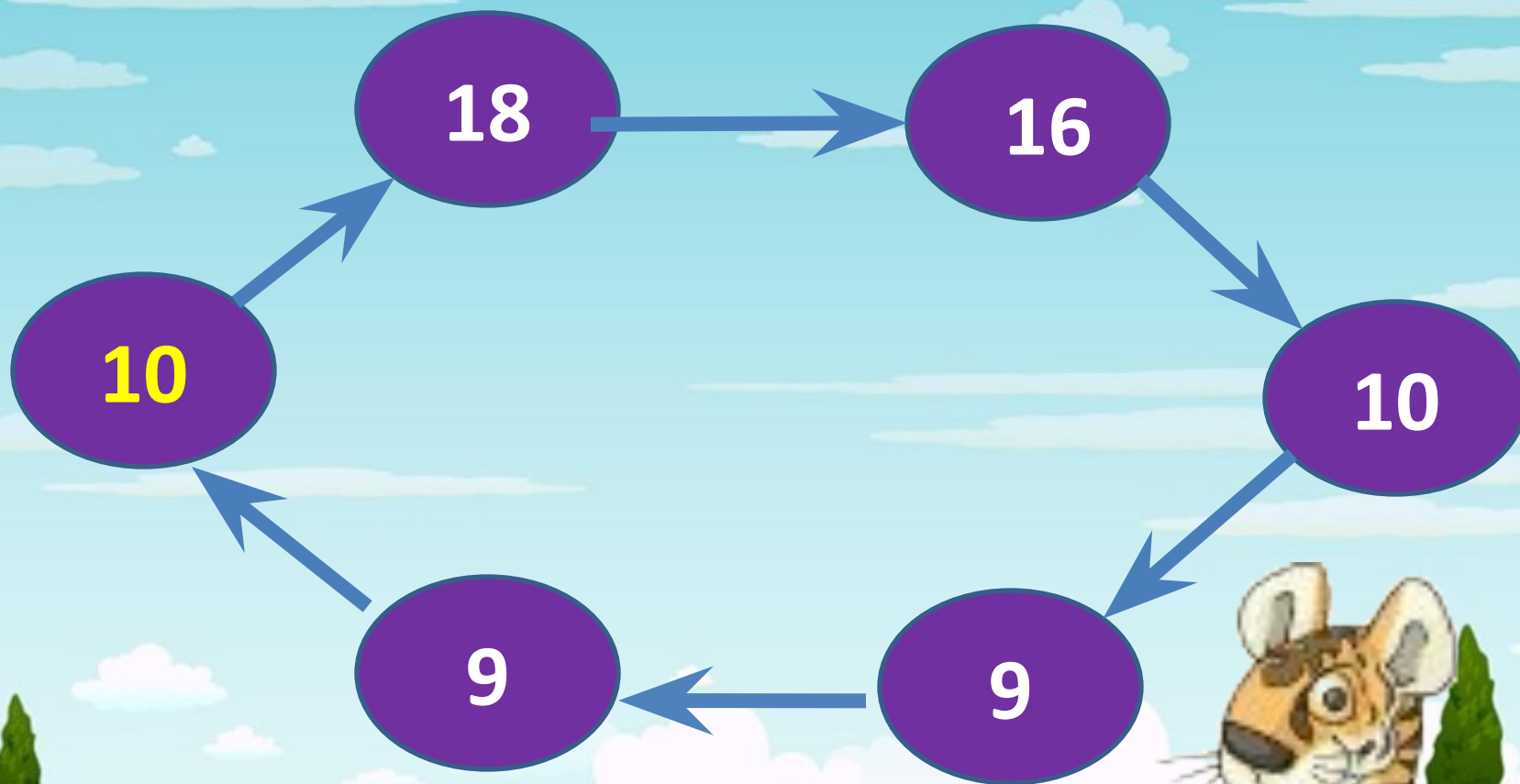
66

$$24 + 67 = 9$$

$$70 - 34 = 36$$

6

Как получили следующее число?



Найди значение выражений.

$15-6+2=$

$55-10=$

$17-7-3=$

$68-38=$

$47-7+4=$

$91-71=$

$33-1+8=$

$54+25=$

$7+15-3=$

$63+22=$

$18-14-2=$

$71+18=$

- Мама купила яблок на 6 больше, чем апельсинов. Апельсинов - 40. Сколько яблок купила мама?
- У Саши было несколько орехов. После того, как 8 орехов он отдал сестре, у него осталось столько же. Сколько орехов было у Саши?
- Через семь лет тете Оле будет 30 лет. Сколько лет ей сейчас?

- **Таня прочитала в первый день 40 страниц, а во второй – 46. Сколько всего страниц в книге?**
- **У продавца было 20 шаров. После того, как он продал несколько шаров, у него осталось 7 шаров. Сколько шаров он продал?**
- **На сколько рублей у Коли больше, чем у Димы, если у Коли 15 рублей, а у Димы – 9?**

+ или - ?

$$67 \dots 6 \dots 8 = 65$$

$$93 \dots 8 \dots 7 = 92$$

$$81 \dots 9 \dots 6 = 84$$

$$43 \dots 20 \dots 8 = 71$$

46, 16, 23, 86, 13, 6

и, р, н, я, а, н



- THE CHRONICLES OF -
NARNIA

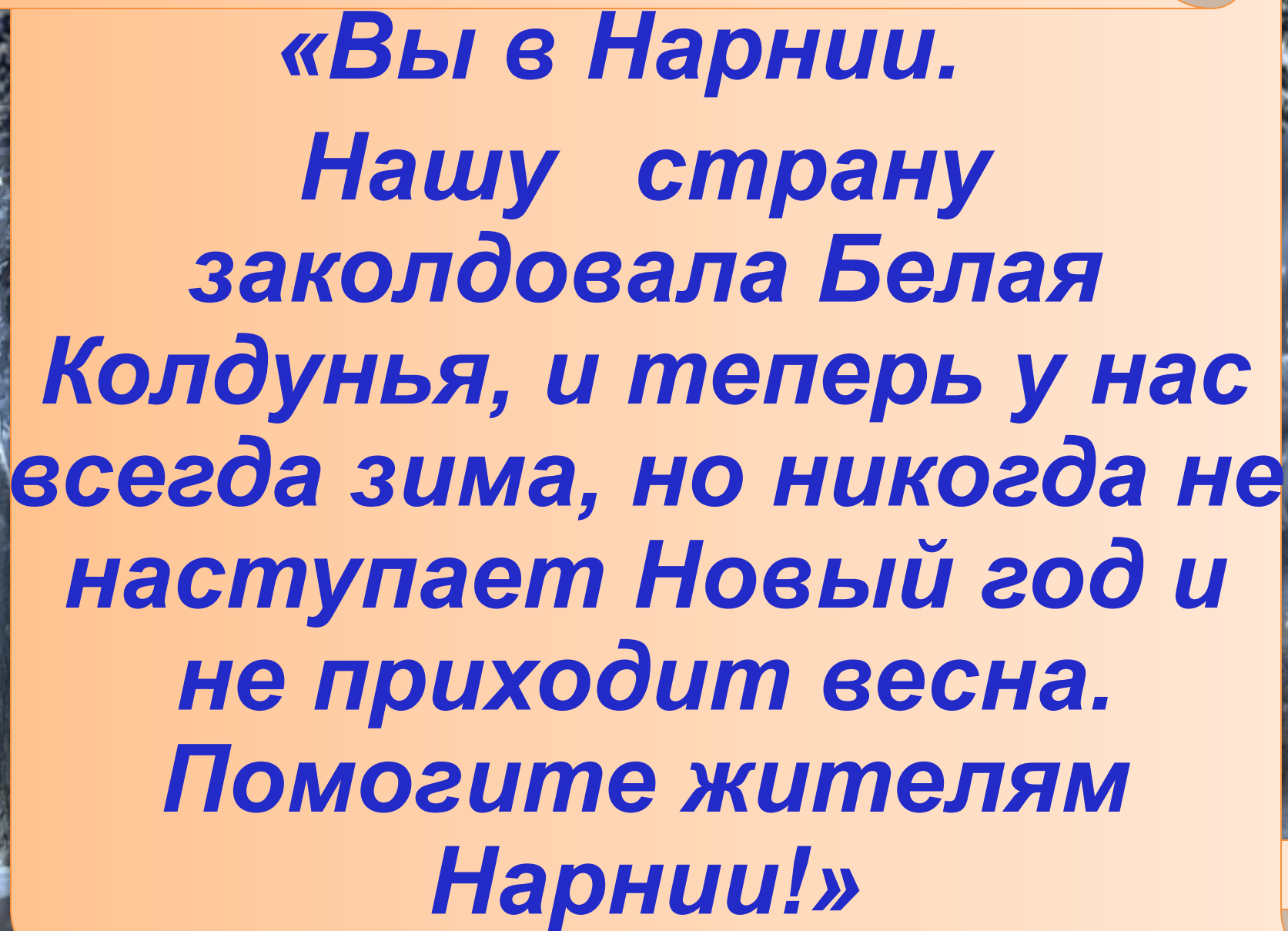
THE LION, THE WITCH AND THE WARDROBE

Now Playing!

WWW.SINEPORT.COM - WALLPAPER

THE CHRONICLES OF NARNIA, NARNIA, and all book titles, characters and locales original themes are trademarks of C.S. Lewis Pte Ltd, and are used with permission. © Disney/Walden.





**«Вы в Нарнии.
Нашу страну
заколдовала Белая
Колдунья, и теперь у нас
всегда зима, но никогда не
наступает Новый год и
не приходит весна.
Помогите жителям
Нарнии!»**

ЗАДАЧА

1. Условие

2. Вопрос

3. Решение

4. Ответ

**Фавну 12 лет,
его брату – 7.
На сколько лет
Фавн будет
старше своего
брата через 2
года?**



ФИЗМИНУТКА





Сколько жителей Нарнии заколдовала Белая колдунья, если сначала она заколдовала 14 жителей, а во второй раз – на 6 жителей больше?





**Мистер Бобёр
приготовил
для постройки
своей плотины на
3 брёвна больше,
чем Миссис Бобриха.
Сколько брёвен заготовила
Миссис Бобриха, если
Мистер Бобёр заготовил 30
брёвен?**



1.

2.

Бобёр ————— Б.

—————


Б. —————

Бобёр

—————

ФИЗМИНУТКА







Lamin 93

**По двум сторонам
лестницы стоят снежные
скульптуры. Справа мы
видим 39 скульптур, а
слева на 9 меньше.**

**Сколько всего скульптур
стоит по обеим сторонам
лестницы?**



Домашнее

задание: с.99

№ 295, 298



Рефлексия:

- 1. Урок полезен, всё понятно.**
- 2. Лишь кое-что чуть-чуть неясно.**
- 3. Ещё придётся потрудиться.**
- 4. Да, трудно всё-таки учиться!**



Спасибо за урок!