

Урок

математики

8 . . 6 . 14

14 . 8 . 19

15 . 10 . 20

20 . . 14 . . 13

14 . 16 . 10





Ноль катился по
странице
И не значил ничего,
Рядом встала
единица,
Стало круглое число.

10



Работа по тетради стр. 19

1.

Запиши, сколько предметов на каждом рисунке.



1 3



1 8



1 1



1 4



1 2




ЗАДАЧА
УСЛОВИЕ
ВОПРОС
РЕШЕНИЕ

На берёзе – 10
снегирей

ОТВЕТ

Сколько снегирей сидит на берёзе и сколько на рябине?





Рабочая тетрадь

4. Запиши ответы.

Вариант 1

$10 + 4 = 14$

$10 + 1 = 11$

$10 + 7 = 17$

$10 + 2 = 12$

$10 + 5 = 15$

Вариант 2

$10 + 9 = 19$

$10 + 6 = 16$


$10 + 8 = 18$

$10 + 0 = 10$

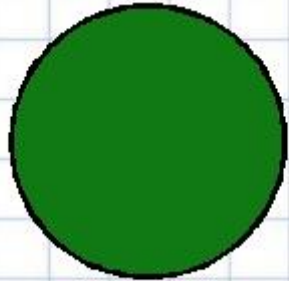
$10 + 3 = 13$




МОЛОДЦ
Ы!




Рефлексия



**Мне все понятно.
Я молодец!**



**У меня не всё
получилось, но я
старался!**



**Мне надо быть
внимательнее!**

